

# PTET (Pre. B.Ed.)\_2022

आयोजन तिथि: 3 जुलाई, 2022

## मानसिक योग्यता

1. निम्नलिखित में से कौनसा विकल्प दूसरों से अलग है?
- (1) उपसंहार (2) अध्याय  
(3) कविता (4) प्रस्तावना (3)

**व्याख्या-** अध्याय, प्रस्तावना तथा उपसंहार, ये तीनों गद्य के भाग हैं लेकिन कविता पद्य का भाग है।

2. प्रश्नवाचक चिह्न को बदलने के लिए विकल्प दीजिए-  
चित्रकारी : कलाकार :: ? : संगीतकार

- (1) संगीत (2) गायन  
(3) ड्रम (4) कविता (2)

**व्याख्या-** जिस प्रकार 'चित्रकारी' का संबंध 'कलाकार' से है, उसी प्रकार 'गायन' का संबंध 'संगीतकार' से है।

3. मैं हवाई जहाज तभी खरीदूंगा जब वह सबसे महंगा और सबसे तेज होगा।

- (1) मैंने हवाई जहाज नहीं खरीदा और यह न तो सबसे तेज है और ना ही सबसे महंगा।  
(2) मैंने हवाई जहाज खरीदा और यह न तो सबसे महंगा है और ना ही सबसे तेज।  
(3) हवाई जहाज सबसे तेज और सबसे महंगा है और मैंने इसे नहीं खरीदा।  
(4) मैंने हवाई जहाज खरीदा और यह सबसे तेज और सबसे महंगा है। (4)

**व्याख्या-** मैंने हवाई जहाज खरीदा और यह सबसे तेज और सबसे महंगा है।

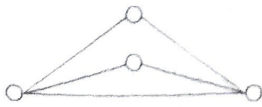
4. निम्नलिखित में से कौनसा सेट अलग है?

- (1) 6, 2, 6, 4 (2) 5, 4, 8, 5  
(3) 7, 3, 4, 6 (4) 7, 3, 6, 7 (4)

**व्याख्या-**  $6 + 2 + 6 + 4 = 18$   
 $5 + 4 + 8 + 5 = 22$   
 $7 + 3 + 4 + 6 = 20$  → योग सम संख्या

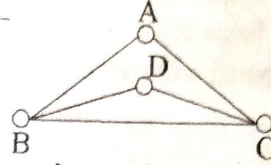
$7 + 3 + 6 + 7 = 23$  → योग विषम संख्या

5. जैसा कि चित्र में दिखाया गया है, चार शहर सड़क नेटवर्क से जुड़े हुए हैं। आप कितने तरीकों से किसी शहर से शुरू करके एक सड़क पर एक से अधिक बार यात्रा किए बिना वापस आ सकते हैं?



- (1) 8 (2) 12  
(3) 16 (4) 20 (2)

**व्याख्या-**



माना शहर A से यात्रा की शुरुआत की जाती है तो A के पास यात्रा शुरू करने के दो रास्ते हैं AB या AC फिर यदि वह AB सड़क से चलकर शहर B पर पहुँचता है तो उसके पास आगे बढ़ने के दो रास्ते BD या BC हैं। यदि वह C या D पर जाता है तो उसके आगे बढ़ने के केवल 1-1 रास्ते हैं।

अतः इस प्रकार यात्रा समाप्त करने के अभीष्ट तरीके  $= 2 \times 2 \times (1 + 1) = 8$

6. यदि K का अर्थ भाग है, M का अर्थ है जोड़, N का अर्थ घटाव, Z का अर्थ गुणा है, तो निम्नलिखित का जोड़ क्या होगा?

34 N 6 Z 26 K 13 M 30

- (1) 50 (2) 60  
(3) 52 (4) 62 (3)

**व्याख्या-** प्रश्नानुसार-

$K = \div, M = +, N = -, Z = \times$  (गुणा)

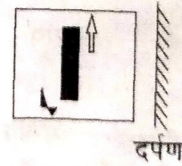
तो  $34 N 6 Z 26 K 13 M 30$

$= 34 - 6 \times 26 \div 13 + 30$

$= 34 - 6 \times 2 + 30$

$= 34 - 12 + 30 = 52$

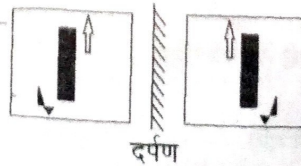
7. नीचे दी गई आकृति के सही दर्पण प्रतिबिम्ब का चयन कीजिए-



दर्पण

- (1) (2)   
(3) (4) (2)

**व्याख्या-**



दर्पण

8. केशव, विजय से लंबा है लेकिन नितिन से छोटा है। नितिन, किशन से लंबा है लेकिन अमर से छोटा है। यदि विजय, किशन से लम्बा है, तो उनमें से सबसे छोटा कौन है?

- (1) केशव (2) विजय  
(3) नितिन (4) किशन (4)

व्याख्या-प्रश्नानुसार,

अमर > नितिन > केशव > विजय > किशन  
अतः सबसे छोटा किशन है।

9. 35 और 45 के बीच की सभी सम संख्याओं का योग क्या है?

- (1) 250 (2) 200  
(3) 210 (4) 255 (2)

व्याख्या-35 व 45 के बीच की सम संख्याओं का योग  
= 36 + 38 + 40 + 42 + 44  
= 200

10. नीचे दिए गए समीकरण में  $\bigcirc$  का कार्य अपरिवर्तित रहता है। तीसरे समीकरण में प्रश्नवाचक चिह्न क्या होगा?

6  $\bigcirc$  3 = 36; 9; 45

4  $\bigcirc$  8 = 16; 64; 80

1  $\bigcirc$  7 = 1; ?; 50

- (1) 20 (2) 51  
(3) 50 (4) 49 (4)

व्याख्या-जिस प्रकार-

6  $\bigcirc$  3 = 6<sup>2</sup>, 3<sup>2</sup>, (6<sup>2</sup> + 3<sup>2</sup>) = 36, 9, 45

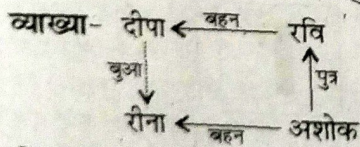
4  $\bigcirc$  8 = 4<sup>2</sup>, 8<sup>2</sup>, (4<sup>2</sup> + 8<sup>2</sup>) = 16, 64, 80

उसी प्रकार-

1  $\bigcirc$  7 = 1<sup>2</sup>, 7<sup>2</sup>, (1<sup>2</sup> + 7<sup>2</sup>) = 1, 49, 50

11. दीपा, रवि की बहन है। रीना, अशोक की बहन है। रवि, अशोक का पुत्र है। रीना, दीपा से किस प्रकार संबंधित है?

- (1) बहन (2) माँ  
(3) भतीजी (4) बुआ (4)



चित्रानुसार रीना, दीपा की बुआ है।

12. दो ट्रेनों की गति के बीच का अनुपात 9 : 10 है। यदि दूसरी ट्रेन 4 घंटे में 600 किमी चलती है, तो पहली ट्रेन की गति क्या है (किमी/घंटे में)?

- (1) 135 (2) 145  
(3) 144 (4) 90 (1)

व्याख्या-दूसरी ट्रेन की गति =  $\frac{600}{4} = 150$  km/h

पहली ट्रेन की गति =  $\frac{9}{10} \times 150 = 135$  km/h

13. निम्नलिखित को आरोही क्रम में दीजिए-

8,  $\sqrt{9}$ ,  $\sqrt{25}$ , 11

- (1)  $\sqrt{9}$ ,  $\sqrt{25}$ , 8, 11 (2)  $\sqrt{9}$ , 8, 11,  $\sqrt{25}$   
(3) 8,  $\sqrt{9}$ , 11,  $\sqrt{25}$  (4) 11,  $\sqrt{9}$ , 8,  $\sqrt{25}$  (1)

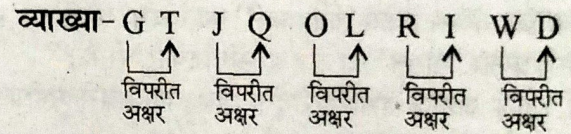
व्याख्या-8,  $\sqrt{9}$ ,  $\sqrt{25}$ , 11 = 8, 3, 5, 11

आरोही क्रम = 3, 5, 8, 11 =  $\sqrt{9}$ ,  $\sqrt{25}$ , 8, 11

14. वर्णमाला शृंखला के पैटर्न को समझें और फिर प्रश्न चिह्न के स्थान पर सही विकल्प चुनकर शृंखला को पूरा करें।

GT, JQ, OL, RI, ?

- (1) WD (2) WF  
(3) UJ (4) XD (1)



15. यदि APPLE = 50 और BANANA = 33 है, तो CHERRY का मूल्य क्या है?

- (1) 75 (2) 77  
(3) 60 (4) 68 (2)

व्याख्या-जिस प्रकार-

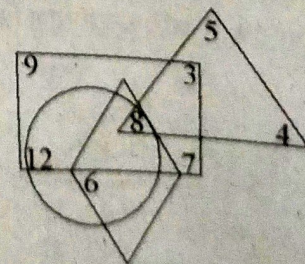
A P P L E  
वर्णमाला क्रमांक ↓ ↓ ↓ ↓ ↓  
1+16+16+12+5 = 50

तथा B A N A N A  
↓ ↓ ↓ ↓ ↓  
2+1+14+1+14+1 = 33

उसी प्रकार-

C H E R R Y  
↓ ↓ ↓ ↓ ↓  
3+8+5+18+18+25 = 77

निर्देश: कृपया नीचे दिए गए चित्र के आधार पर प्रश्न 16-17 का उत्तर दें-



16. कौनसी संख्या सभी पैटर्न का हिस्सा है?  
 (1) 3 (2) 12  
 (3) 6 (4) 8

**व्याख्या**-अतः संख्या 8 सभी पैटर्न का हिस्सा है।

17. केवल एक पैटर्न से संबंधित संख्याओं का योग-  
 (1) 11 (2) 19  
 (3) 16 (4) 25

**व्याख्या**-केवल एक पैटर्न से संबंधित संख्याओं का योग  
 $\Rightarrow 9 + 5 + 4 + 7 = 25$

18. कितनी बार 9 के पहले 5 आता है, लेकिन उसके बाद 3 नहीं आता?

0259476931593419326593472159631802

- (1) छह (2) तीन  
 (3) चार (4) दो

**व्याख्या**-

02[594]769315934193265934721[596]31802

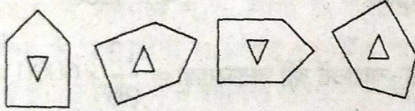
अतः 2 बार 9 के पहले 5 आता है लेकिन उसके बाद 3 नहीं आता है।





19. दोस्त : शत्रु :: मीठा :


- (1) शक्कर (2) कड़वा  
 (3) नमकीन (4) खट्टा (2)

**व्याख्या**-जिस प्रकार दोस्त का विलोम 'शत्रु' होता है, उसी प्रकार मीठा का विलोम कड़वा होता है।

20. श्रृंखला में अगला कौनसा पैटर्न होगा?



- (1)  (2)   
 (3)  (4)  (2)

**व्याख्या**-दी गई श्रृंखला में बड़ी वाली आकृति () हर बार घड़ी की दिशा में 45° घूम रही है और बड़ी आकृति के अंदर छोटी वाली आकृति हर बार पिछली आकृति का जल-प्रतिबिम्ब बना रही है। अतः दी गई श्रृंखला में अगली आकृति विकल्प (2) की आकृति होगी।

21. यदि किसी विशेष भाषा में, SWEAT को RXDBS लिखा जाता है, तो SHIVER को क्या लिखा जाएगा?

- (1) RIHWDS (2) RIJWFS  
 (3) REVIHS (4) RJKXGT (1)

**व्याख्या**-जिस प्रकार-

S W E A T  
 ↓-1 ↓+1 ↓-1 ↓+1 ↓-1  
 R X D B S

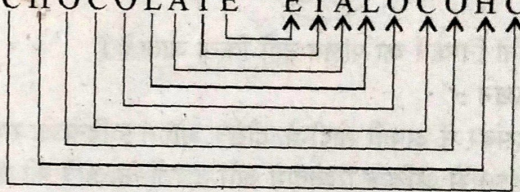
उसी प्रकार-

S H I V E R  
 ↓-1 ↓+1 ↓-1 ↓+1 ↓-1 ↓+1  
 R I H W D S

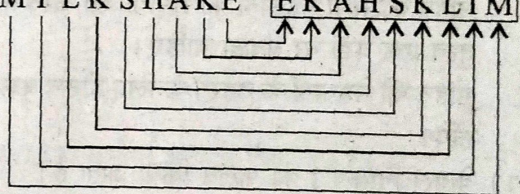
22. यदि एक निश्चित भाषा में, CHOCOLATE को ETALOCOHC लिखा जाता है, तो MILKSHAKE को क्या लिखा जाएगा?

- (1) EKHSACLIM (2) EKHASKILM  
 (3) EKAHSLKIM (4) EKAHLKSIM (3)

**व्याख्या**-जिस प्रकार-

CHOCOLATE ETALOCOHC  


उसी प्रकार-

MILKSHAKE EKAHSLKIM  


23. यदि '-' का अर्थ भाग, '+' का अर्थ घटाव, '÷' का अर्थ गुणा, '×' का अर्थ योग है, तो निम्नलिखित में से कौनसा समीकरण सही है?

- (1)  $70 - 2 + 4 \div 5 \times 6 = 44$   
 (2)  $70 - 2 + 4 \div 5 \times 6 = 21$   
 (3)  $70 - 2 + 4 \div 5 \times 6 = 341$   
 (4)  $70 - 2 + 4 \div 5 \times 6 = 36$  (2)

**व्याख्या**-विकल्प (2) के समीकरण के अनुसार-

$70 - 2 + 4 \div 5 \times 6 = 21$

प्रश्नानुसार-

$$70 \div 2 - 4 \times 5 + 6 = 21$$

$$35 - 20 + 6 = 21$$

$$21 = 21$$

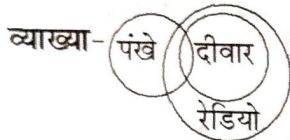
निर्देश ( 24-25 ) : निम्नलिखित प्रत्येक प्रश्न में दो कथन दिए गए हैं और फिर दो निष्कर्ष I और II दिए गए हैं। कथनों के अनुसार कौनसा तार्किक निष्कर्ष निकाला जा सकता है?

24. कथन :

कुछ पंखे दीवार हैं।  
सभी दीवारें रेडियो हैं।

निष्कर्ष :

- कुछ पंखे रेडियो नहीं हैं।
  - सभी रेडियो पंखे नहीं हैं।
- केवल निष्कर्ष I का पालन किया जाता है।
  - केवल निष्कर्ष II का पालन किया जाता है।
  - दोनों निष्कर्ष का पालन किया जाता है।
  - दोनों निष्कर्ष का पालन नहीं किया जाता है। (4)



दोनों निष्कर्ष का पालन नहीं किया जाता है।

25. कथन :

दिसंबर में अपनी शादी के दौरान, मोहन 5 दिनों के समारोह में 50 से अधिक रिश्तेदारों और दोस्तों के आने की उम्मीद कर रहा है।

निष्कर्ष :


- मोहन को सभी मेहमानों को समायोजित करने के लिए तुरंत एक बड़ा घर बनाना चाहिए।
  - मोहन को मेहमानों के ठहरने के लिए होटल बुक करने होंगे।
- केवल निष्कर्ष I का पालन किया जाता है।
  - केवल निष्कर्ष II का पालन किया जाता है।
  - दोनों निष्कर्ष का पालन किया जाता है।
  - दोनों निष्कर्ष का पालन नहीं किया जाता है। (2)

व्याख्या-कथन के आधार पर केवल निष्कर्ष II का पालन किया जाता है।

26. अंग्रेजी वर्णमाला में कौनसा अक्षर दायें से 16वें के बायें से सातवें स्थान पर है?

- D (1)
- W
- R
- E

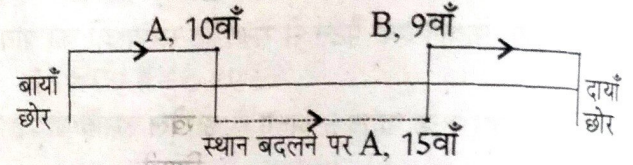
व्याख्या-



27. लड़कों की एक पंक्ति में, यदि A जो बायें से दसवाँ है और B जो दायें से नौवाँ है, अपना स्थान आपस में बदल लेते हैं तो A बाएँ से पंद्रहवाँ हो जाता है। पंक्ति में कितने लड़के हैं?

- 21 (2)
- 23
- 27 (4)
- 28

व्याख्या-

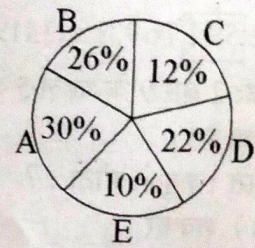


पंक्ति में कुल लड़के = 9 + 15 = 24

$$24 - 1 = 23 \text{ लड़के}$$

निर्देश : पाई आरेख का अध्ययन करें और 28-29 प्रश्नों के उत्तर दें।

- A = बच्चे  
B = किशोर  
C = युवा  
D = मध्यम आयु वर्ग  
E = बुजुर्ग



28. यदि एक निश्चित गाँव में बच्चों की जनसंख्या 6000 है, तो युवाओं की जनसंख्या क्या है?

- 2400 (2)
- 2000
- 1200 (4)
- 1800

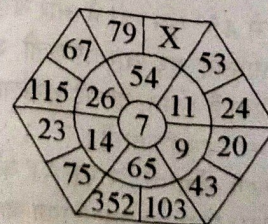
व्याख्या-युवाओं की जनसंख्या =  $\frac{12}{30} \times 6000 = 2400$

29. गाँव की कुल जनसंख्या कितनी है?

- 18,000 (2)
- 24,000
- 10,000 (4)
- 20,000

व्याख्या-गाँव की कुल जनसंख्या =  $\frac{100}{30} \times 6000 = 20,000$

30. नीचे दिए गए चित्र में, X के स्थान पर क्या आएगा?



- 299 (2)
- 399
- 298 (4)
- 308

व्याख्या-जिस प्रकार-

$$11 \times 7 - 24 = 77 - 24 = 53$$

$$9 \times 7 - 20 = 63 - 20 = 43$$

$$65 \times 7 - 103 = 455 - 103 = 352$$

$$14 \times 7 - 23 = 98 - 23 = 75$$

$$26 \times 7 - 67 = 182 - 67 = 115$$

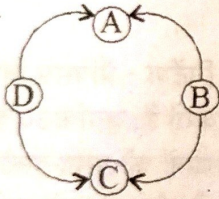
उसी प्रकार-

$$54 \times 7 - 79 = 378 - 79 = 299$$

अतः  $X = 299$

31. चार मित्र A, B, C और D कैरम बोर्ड खेल रहे हैं। A, C का भागीदार है और दोनों एक-दूसरे के विपरीत बैठे हैं। D के बाएँ हाथ पर कौन है?
- उपरोक्त प्रश्न का उत्तर देने के लिए निम्नलिखित में से कौनसी जानकारी अतिरिक्त रूप से आवश्यक है?
- (1) C, A और B के बीच बैठा है।  
 (2) D, A और C के बीच बैठा है।  
 (3) C, B के बाईं ओर बैठा है।  
 (4) B और D एक-दूसरे के विपरीत बैठे हैं। (3)

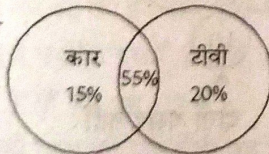
व्याख्या-



D के दाएँ हाथ पर C बैठा है अतः प्रश्न का उत्तर देने के लिए विकल्प (3) में दी गई जानकारी आवश्यक है।

32. एक सर्वेक्षण में शामिल 70% लोगों के पास कार थी और 75% लोगों के पास टीवी था। यदि 55% के पास कार और टीवी दोनों हैं, तो सर्वेक्षण में शामिल लोगों में से कितने प्रतिशत के पास टीवी है पर कार नहीं है?
- (1) 25% (2) 20%  
 (3) 10% (4) 5% (2)

व्याख्या-

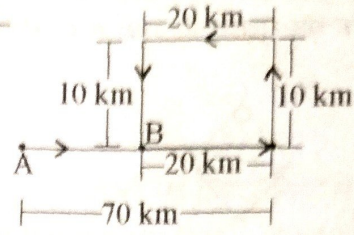


अभीष्ट प्रतिशत =  $75 - 55 = 20\%$

33. रोहित बिन्दु A से चलना शुरू करता है और पूर्व की ओर 70 किमी चलता है। फिर वह उत्तर की ओर मुड़ता है और 10 किमी चलता है। उसके बाद वह पश्चिम की ओर मुड़ता है और दक्षिण की ओर मुड़ने से पहले 20 किमी चलता है। फिर वह और 10 किमी चलता है और बिन्दु B पर पहुँचता है। रोहित बिन्दु A से कितनी दूर है?
- (1) 50 किमी (2) 90 किमी  
 (3) 60 किमी (4) 80 किमी (1)

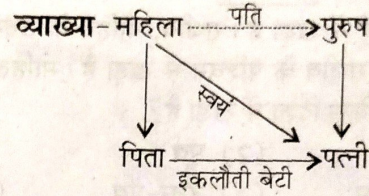
लक्ष्य

व्याख्या-



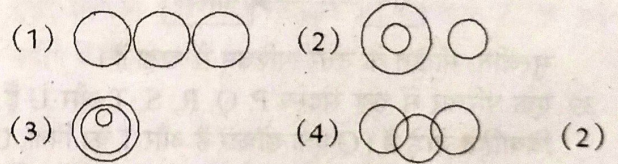
$$AB = 70 - 20 = 50 \text{ km}$$

34. एक पुरुष का परिचय देते हुए, एक महिला ने कहा, "उसकी पत्नी मेरे पिता की इकलौती बेटी है।" वह आदमी उस महिला से कैसे संबंधित है?
- (1) पति (2) भाई  
 (3) ससुर (4) मामा (1)

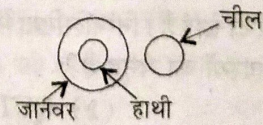


अतः वह आदमी उस महिला का पति है।

35. उस आरेख का चयन करें जो हाथियों, जानवरों, चील के बीच संबंध को सही ढंग से दर्शाता है?

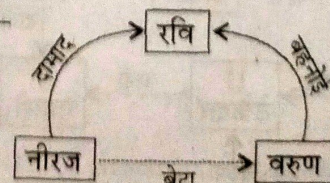


व्याख्या-अभीष्ट आकृति विकल्प (2)



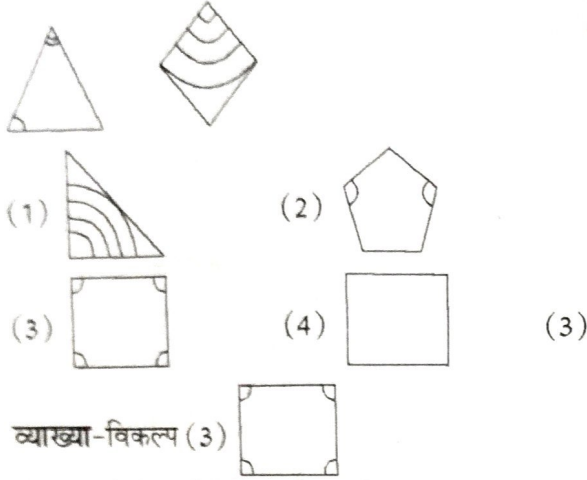
36. रवि, नीरज का दामाद है और वरुण का बहनोई है, जो विराज का भाई है। नीरज से वरुण का क्या रिश्ता है?
- (1) पिता (2) बेटा  
 (3) भाई (4) जीजा (2)

व्याख्या-



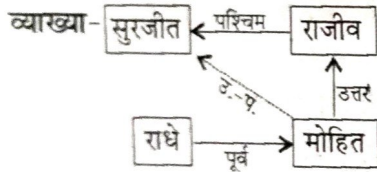
अतः वरुण, नीरज का बेटा है।

37. एक ऐसे गुण की पहचान करें जो दी गई आकृतियों में समान हों। चुनें कि चार सुझाए गए उत्तरों में से कौनसा गुणवत्ता में समान है?



38. मोहित, राधे के पूर्व में खड़ा है। राजीव, मोहित के उत्तर में खड़ा है। सुरजीत, राजीव के पश्चिम में खड़ा है। मोहित के मुकाबले सुरजीत किस दिशा में खड़ा है?

- (1) उत्तर (2) पूर्व  
(3) उत्तर-पश्चिम (4) उत्तर-पूर्व (3)

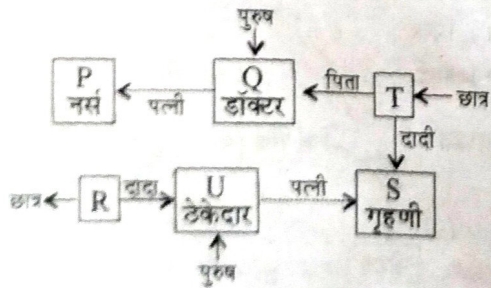


सुरजीत, मोहित के उत्तर-पश्चिम में खड़ा है।

39. एक परिवार में छह सदस्य P, Q, R, S, T और U हैं। दो विवाहित जोड़े हैं। Q एक डॉक्टर है और T का पिता, U, R का दादा है और एक ठेकेदार है। S, T की दादी है और एक गृहणी है। परिवार में एक डॉक्टर, एक ठेकेदार, एक नर्स, एक गृहणी और दो छात्र हैं। निम्नलिखित में से कौनसा निश्चित रूप से पुरुष सदस्यों का समूह है?

- (1) QUP (2) QUT  
(3) QU (4) UT (3)

व्याख्या-



अतः निश्चित रूप से पुरुष सदस्यों का समूह = QU

40. निम्नलिखित चार विकल्पों में से उस निष्कर्ष को चुनिए जो दिए गए कथन का तार्किक रूप से अनुसरण करता है।

कथन : हम केवल उन दीवारों तक ही सीमित हैं जिन्हें हम स्वयं बनाते हैं।

निष्कर्ष :

I. हम अपने आपको आश्वस्त करते हैं कि कुछ चीजें हमारी पहुँच से बाहर हैं और हमें कठिन कार्यों का पीछा नहीं करना चाहिए अन्यथा हम असफल हो जाएँगे और दुखी महसूस करेंगे।

II. हम उन चीजों को नहीं कर सकते जिन पर हमें विश्वास नहीं है, इसलिए पहले हमें खुद को दूसरों पर विश्वास करने देना चाहिए।

- (1) केवल निष्कर्ष I अनुसरण करता है।  
(2) केवल निष्कर्ष II अनुसरण करता है।  
(3) दोनों निष्कर्ष अनुसरण करते हैं।  
(4) दोनों निष्कर्ष अनुसरण नहीं करते हैं। (1)

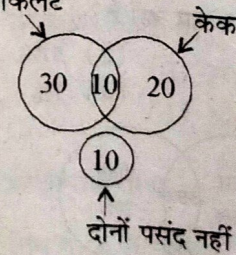
व्याख्या-कथन के आधार पर केवल निष्कर्ष I अनुसरण करता है।

प्रश्न 41-42 के लिए निर्देश : प्रैक्सिस बिजनेस स्कूल में 40 छात्र चॉकलेट पसंद करते हैं, जबकि 30 केक पसंद करते हैं। ऐसे 10 छात्र हैं जो दोनों को पसंद करते हैं और समान संख्या में छात्र जो उनमें से कोई भी पसंद नहीं करते हैं।

41. प्रैक्सिस बिजनेस स्कूल में छात्रों की कुल संख्या बताएँ-

- (1) 65 (2) 70  
(3) 85 (4) 80 (2)

व्याख्या- चॉकलेट



प्रैक्सिस बिजनेस स्कूल में कुल छात्र = 30 + 10 + 20 + 10 = 70

42. कितने प्रतिशत छात्रों को केक पसंद नहीं है?

- (1) 57.14% (2) 25.12%  
(3) 55.55% (4) 50% (1)

व्याख्या-केक पसंद नहीं है = 30 + 10 = 40

अभीष्ट प्रतिशत =  $\frac{40}{70} \times 100 = 57.14\%$


43. रिक्त स्थान की पूर्ति के लिए सही विकल्प का चयन कीजिए-  
c\_bba\_cab\_ac\_ab\_ac

- (1) b, c, b, a, c (2) c, a, b, c, b  
(3) a, c, c, b, c (4) a, c, b, c, b (4)

व्याख्या-cabbac/cabbac/cabbac

अतः रिक्त स्थानों में आने वाले अक्षर क्रमशः a, c, b, c, b

44. नीचे दी गई आकृति का दर्पण प्रतिबिम्ब बताएँ-



- (1) (2)   
(3) (4) (4)

व्याख्या- (4)

45. दिए गए वैकल्पिक शब्दों में से, वह शब्द चुनिए जो दिए गए शब्द के अक्षरों का प्रयोग करके बनाया जा सकता है:

'MULTIPLICATION'

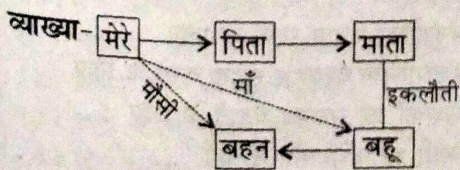
- (1) MUTUAL  
(2) LIMITATION  
(3) APPLICATION  
(4) NOTION (2)

व्याख्या-MULTIPLICATION में

M, U, P, C, A, O व N एक-एक बार, L व T दो-दो बार एवं I तीन बार आ रहा है। अतः LIMITATION शब्द बनाया जा सकता है क्योंकि इसमें L, M, A व N एक-एक बार, I तीन बार, T दो बार आ रहा है।

46. मेरे पिता की माता की इकलौती बहू की बहन का मुझसे क्या संबंध है?

- (1) मौसी (2) बहन  
(3) भतीजी (4) माँ (1)



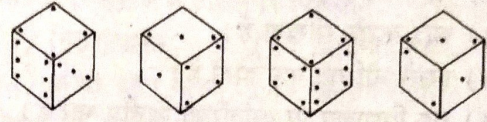
लक्ष्य

47. 22 मिनट में मिनट की सुई द्वारा तय किया गया कोण कितना होगा?

- (1)  $66^\circ$  (2)  $110^\circ$   
(3)  $121^\circ$  (4)  $132^\circ$  (4)

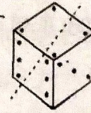
व्याख्या-∴ मिनट की सुई द्वारा 1 मिनट में बना कोण = 6  
∴ 22 मिनट में बना कोण =  $22 \times 6^\circ = 132^\circ$

48. तीन बिंदुओं वाले पासे के विपरीत पासे पर कितने बिन्दु हैं?

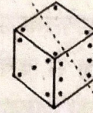


- (1) 2 (2) 4  
(3) 5 (4) 6 (3)

व्याख्या-



पासा-I



पासा-III

पासा I व III की तुलना करने पर 3 बिन्दुओं वाले फलक पर 5 बिन्दु होंगे।

49. यदि रविवार से शुरू होने वाले 30 दिनों के महीने में प्रत्येक दूसरे शनिवार और सभी रविवारों को अवकाश है, तो उस महीने में कितने कार्य दिवस होंगे?

- (1) 15 (2) 18  
(3) 23 (4) 25 (3)

व्याख्या-रविवार से शुरू होने वाले 30 दिनों के महीने में रविवार 1, 8, 15, 22, 29 तारीख को होंगे एवं प्रत्येक दूसरा शनिवार 7, 21 को होगा।

कुल अवकाश = 7

कुल कार्य दिवस =  $30 - 7 = 23$

50. यदि 14 अक्टूबर, 2005 को शुक्रवार है, तो 14 अक्टूबर, 2006 को कौनसा दिन है?

- (1) मंगलवार  
(2) शनिवार  
(3) गुरुवार  
(4) शुक्रवार (2)

व्याख्या-यदि 14 अक्टूबर 2005 को शुक्रवार है तो 14 अक्टूबर 2006 को शुक्रवार +1 अर्थात् शनिवार होगा।

## शिक्षण अभिरुचि

51. शिक्षक के अभिप्रेरणा का स्तर निर्भर करता है-

- (1) उच्च वेतनों पर
- (2) व्यावसायिक प्रशिक्षण पर
- (3) अधिकारी सदृश स्थिति पर
- (4) व्यवसाय के प्रति वचनबद्धता पर (4)

52. प्रैक्टिकल/प्रयोग द्वारा सीखना किस प्रकार प्रभावशाली है?

- (1) यह अधिक रुचिकर तरीका है।
- (2) छात्र करके सीखता है।
- (3) इससे बोरियत कम होती है।
- (4) यह विद्यालय पर अतिरिक्त वित्तीय भार है। (1)

53. एक अच्छे शिक्षक के विचार कैसे होते हैं?

- (1) आदर्शवादी (2) नकारात्मक
- (3) सकारात्मक (4) नैतिकात्मक (4)

54. यदि कोई छात्र आपके विषय में फेल हो जाता है, तो आप क्या करेंगे?

- (1) माता-पिता से चर्चा करेंगे।
- (2) परीक्षक की आलोचना करेंगे।
- (3) स्व-विवेचना करेंगे।
- (4) छात्र को मेहनत करने के लिए अभिप्रेरित करेंगे। (3)

55. जीवन में सफलता पाने के लिए क्या आवश्यक है?

- (1) भाग्यवान होना
- (2) अधिकारी का पुत्र/पुत्री होना
- (3) परिस्थितियों के साथ समायोजन
- (4) कड़ी मेहनत (3)

56. जब छात्र उपद्रवी हो जाएँ, तब एक शिक्षक को क्या करना चाहिए?

- (1) उनकी उपेक्षा करें।
- (2) अनुशासनहीनता के लिए कार्यवाही करें।
- (3) सन्तोषजनक व्यवहार करने में मदद करें।
- (4) माता-पिता को शिकायत करें। (3)

57. आज के भ्रष्टाचार और अनुशासनहीनता के वातावरण में एक दायित्वपूर्ण अध्यापक के रूप में आप क्या करेंगे?

- (1) अपने कार्य को ईमानदारी से करेंगे।
- (2) समय के साथ चलेंगे।
- (3) छात्रों को जागरूक करेंगे।
- (4) आज की परिस्थितियों को दोष देंगे। (1)

58. अगर एक छात्र वर्तनी की त्रुटियाँ अधिक करता है, तब आप क्या करेंगे?

- (1) त्रुटि पर दंड देंगे।
- (2) उसे गलत शब्द बार-बार लिखने को कहेंगे।
- (3) उसे आसान शब्द देंगे।
- (4) उसे ट्यूशन करने को कहेंगे। (2)

59. एक छात्र विद्यालय में विलम्ब से आता है। शिक्षक होने के नाते आप क्या करेंगे?

- (1) उसे विद्यालय से बाहर कर देंगे।
- (2) उसे दण्डित करेंगे।
- (3) उसके अभिभावकों को बुलाकर चर्चा करेंगे।
- (4) विलम्ब से आने के कारणों का पता लगाएँगे। (4)

60. यदि पढ़ाते समय आपकी कक्षा का एक छात्र पीछे बैठकर चित्र बनाता है, तो आप क्या करेंगे?

- (1) उसे दण्ड देंगे।
- (2) माता-पिता से चर्चा करेंगे।
- (3) उसे कक्षा में ध्यान केन्द्रित करने को कहेंगे।
- (4) उसकी कलात्मक प्रतिभा को उचित दिशा देंगे। (4)

61. यदि कोई छात्र किसी अध्यापक के प्रति अपमानजनक शब्दों का प्रयोग करे, तो आप क्या करेंगे?

- (1) उसे दंड देंगे।
- (2) उसे अनदेखा कर देंगे।
- (3) माता-पिता से शिकायत करेंगे।
- (4) उसे उसकी गलती का एहसास करवाएँगे। (4)

62. शिक्षण व्यवसाय में उन्हें जाना चाहिए, जो-

- (1) ज्ञानवान हों (2) बालकों में रुचि लेते हों
- (3) चतुर हों (4) दानी हों (1)

63. स्कूलिंग का मुख्य उद्देश्य क्या है?

- (1) छात्रों का अनुशासित जीवन
- (2) पाठ्यक्रम पूरा करना
- (3) क्षमताओं का अर्जन
- (4) उच्च उत्तीर्ण प्रतिशत (3)

64. शिक्षा में छात्रों की सफलता मुख्य रूप से निर्भर करती है-

- (1) गुणवत्तापूर्ण शिक्षण पर
- (2) विद्यालय की सुविधाओं पर
- (3) बेहतर घर की सुविधाओं पर
- (4) निजी ट्यूशनों पर (1)

65. शिक्षण की आवश्यकता क्यों होती है?

- (1) युवाओं को नौकरी दिलाने के लिए
- (2) समृद्ध समाज बनाने के लिए
- (3) नई पीढ़ी में जोश लाने के लिए
- (4) नए अनुभव व ज्ञान प्रदान करने के लिए (4)

66. शारीरिक दण्ड की अनुमति होनी चाहिए-

- (1) अनुशासन बनाए रखने के लिए
- (2) सकारात्मक व्यवहार सुदृढ़ करने के लिए
- (3) शिक्षकों का सम्मान बढ़ाने के लिए
- (4) किसी भी परिस्थिति में नहीं (4)



67. ऐसे छात्रों के लिए आप क्या करेंगे जिन्हें कक्षा में अन्य छात्रों की तुलना में देर से समझ में आता है?
- (1) उनके लिए विशिष्ट कक्षा की व्यवस्था की जाएगी।
  - (2) उन पर वैयक्तिक ध्यान दिया जाएगा।
  - (3) उन्हें साथी अनुशिक्षण प्रदान किया जाएगा।
  - (4) उन्हें दण्ड दिया जाएगा।
- (2)
68. छात्रों को पाठ्य/विषय वस्तु को भली प्रकार स्मरण करने हेतु आप क्या करेंगे?
- (1) गृह कार्य देंगे।
  - (2) कक्षा में प्रश्न हल करवायेंगे।
  - (3) सही उत्तर को दोहरायेंगे।
  - (4) गलत उत्तर पर दंड देंगे।
- (1)
69. अगर बालक कक्षा में प्रश्नों के उत्तर देने में घबराता है, तब आप क्या करेंगे?
- (1) आसान प्रश्न पूछेंगे।
  - (2) प्रोत्साहित करेंगे।
  - (3) नजर अंदाज कर देंगे।
  - (4) घबराने के कारण का पता लगायेंगे।
- (4)
70. शिक्षकों के अच्छे परिणाम न दे सकने के क्या कारण हैं?
- (1) सीखने के प्रोत्साहन भरी अवस्थाओं का अभाव
  - (2) शिक्षा प्रणाली
  - (3) छात्रों की बुद्धि का स्तर कम होना
  - (4) विस्तृत पाठ्यक्रम
- (1)
71. विद्यालय में अगर एक छात्र को पढ़ाई में कठिनाई हो रही है, तब आप क्या करेंगे?
- (1) सहानुभूति विकसित करेंगे।
  - (2) उसे अध्ययन में सहायता देंगे।
  - (3) छात्र को दण्ड देंगे।
  - (4) माता-पिता से चर्चा करेंगे।
- (2)
72. चुनावों के समय आपकी भूमिका क्या रहेगी?
- (1) किसी को भी वोट नहीं देंगे।
  - (2) वोट करने के महत्त्व पर भाषण देंगे।
  - (3) छात्रों को अपनी पसंद के अनुसार वोट करने को कहेंगे।
  - (4) किसी भी पार्टी का प्रचार नहीं करेंगे और सही चिन्तन करके वोट डालेंगे।
- (2)
73. आप किस प्रकार के विद्यालय में नौकरी करना चाहेंगे?
- (1) जहाँ कार्य करने की स्वतंत्रता हो।
  - (2) जहाँ आप प्रगति कर सकें।
  - (3) जहाँ छुट्टियाँ अधिक मिलें।
  - (4) जहाँ आपको घर पर ट्यूशन लेने की अनुमति हो।
- (1)
74. निम्न में से कौनसा कर्तव्य शिक्षक का महत्त्वपूर्ण कर्तव्य है?
- (1) अध्यापन कार्य को व्यवस्थित करना।
  - (2) प्रत्येक छात्र को खुश करना।
  - (3) छात्रों का मूल्यांकन करना।
  - (4) पाठ पढ़ाना।
- (1)
75. वही शिक्षक प्रभावी माना जाता है, जो-
- (1) विषय पर अधिकार रखता हो।
  - (2) अच्छा प्रबंधक हो।
  - (3) वाक् कौशल में निपुण हो।
  - (4) अमीर पारिवार से आता हो।
- (1)
76. प्राथमिक कक्षा के छात्रों को कैसे कार्य दिये जाने चाहिए?
- (1) छोटे तथा लचीले
  - (2) सृजनात्मक
  - (3) अमूर्त
  - (4) लंबे तथा लचीले
- (1)
77. आपके दृष्टिकोण में अध्यापन व्यवसाय ----- है।
- (1) निराशाजनक
  - (2) आरामदायक
  - (3) अच्छे वेतन वाला
  - (4) सम्मानजनक
- (4)
78. विद्यार्थियों के व्यवहार परिवर्तन के लिए सबसे अधिक प्रभावशाली विधि क्या है?
- (1) अभिभावकों से बच्चों का ध्यान रखने को कहना।
  - (2) पुरस्कार
  - (3) शारीरिक दण्ड
  - (4) सही मार्गदर्शन
- (4)
79. अध्यापक के रूप में आप छात्रों में ईमानदारी जैसे गुणों का विकास किस प्रकार करेंगे?
- (1) शिक्षण द्वारा
  - (2) आदर्श प्रस्तुत कर
  - (3) आदेश देकर
  - (4) उपदेश देकर
- (2)
80. सीखने के लिए सर्वाधिक आवश्यक क्या है?
- (1) सामान्य बुद्धि
  - (2) जिज्ञासा
  - (3) अध्यापक द्वारा प्रोत्साहन
  - (4) आर्थिक स्तर
- (2)
81. गणवेश (यूनिफॉर्म) का विद्यालयों में प्रचलन इसलिए है, क्योंकि-
- (1) बालक सुन्दर दिखते हैं।
  - (2) विद्यालय आर्थिक लाभ कमाते हैं।
  - (3) विभेदीकरण की संभावना न्यून होती है।
  - (4) एकरूपता झलकती है।
- (3)
82. शिक्षा के व्यवसायीकरण में निम्न में से कौन संबंधित है?
- (1) व्यवसायियों से धन लेकर विद्यालयों की स्थापना करना।
  - (2) विभिन्न व्यवसाय समूहों द्वारा तकनीकी शिक्षा की व्यवस्था करना।
  - (3) नए-नए व्यवसाय प्रारंभ करना।
  - (4) व्यवसायों में संलग्न होने के लिए छात्रों को आवश्यक कौशलों के ज्ञान की व्यवस्था करना।
- (4)
83. आपके अनुसार, कक्षा में श्यामपट्ट (Black Board) का क्या उपयोग है?
- (1) शिक्षक आसानी से पूरी कक्षा को समझा सकते हैं।
  - (2) छात्रों में रुचि जाग्रत होती है।
  - (3) यह शिक्षण सहायक सामग्री के रूप में कार्य करता है।
  - (4) शिक्षक समय व्यतीत करते हैं।
- (3)

84. अगर एक छात्र संगीत में अधिक रुचि रखता है, तब आप क्या करेंगे?
- (1) संगीत सीखने के लिये प्रोत्साहित करेंगे।
  - (2) प्रधानाध्यापक को शिकायत करेंगे।
  - (3) उसके अभिभावकों को बताएँगे।
  - (4) संगीत सीखने की सुविधाएँ प्रदान करेंगे। (1)
85. कक्षा में सामूहिक गतिविधियाँ क्यों अनिवार्य हैं?
- (1) समय व्यतीत करने के लिए
  - (2) मनोरंजन के लिए
  - (3) सामाजिक विकास के लिए
  - (4) पारस्परिक सहयोग में वृद्धि के लिए (4)
86. आप कक्षा के किस छात्र को कक्षा मॉनीटर बनाना पसंद करेंगे?
- (1) जो सुंदर हो।
  - (2) जिसके सबसे अधिक अंक हों।
  - (3) जो सभी छात्रों को साथ रखता हो।
  - (4) जिसका कक्षा में आतंक हो। (3)
87. अपने बच्चों की शिक्षा के लिए माता-पिता को निम्न में से क्या करना चाहिए?
- (1) शिक्षकों के कार्यों पर निगरानी रखना।
  - (2) द्यूशन की व्यवस्था करना।
  - (3) बालक की प्रगति पर शिक्षकों के साथ समय-समय पर चर्चा करना।
  - (4) विद्यालयों की गतिविधियों में हस्तक्षेप नहीं करना। (3)
88. एक शिक्षक के व्यवहार में सबसे महत्वपूर्ण विशेषता कौनसी है?
- (1) सहानुभूति (2) धैर्य
  - (3) अनुशासन (4) प्रभुत्व जमाना (1)
89. स्व-अध्ययन की आदत आप छात्रों में कैसे विकसित करेंगे?
- (1) नवीन एवं अच्छा साहित्य उपलब्ध करवा कर
  - (2) स्व-अध्ययन पर भाषण देकर
  - (3) पुरस्कार घोषित करके
  - (4) केवल स्व अध्ययन करने को कह कर (1)
90. अध्यापक प्रायः नाराज कब होते हैं?
- (1) छात्र गृहकार्य न करें।
  - (2) कक्षा में शोर मचायें।
  - (3) छात्र, अध्यापकों का आदर न करें।
  - (4) छात्र उनके प्रश्नों का उत्तर न दे पायें। (4)
91. अध्यापक छात्रों को किस प्रकार सबसे अच्छी तरह अभिप्रेरित कर सकते हैं?
- (1) अपने आपको आदर्श रूप में प्रस्तुत करके
  - (2) असफल होने का भय पैदा करके
  - (3) प्रेरणादायक वार्ता साझा करके
  - (4) परिणामों की जानकारी देकर (1)
92. आपके दृष्टिकोण में कौन एक अच्छे राष्ट्र का निर्माता है?
- (1) सरकारी अधिकारी (2) शिक्षक
  - (3) जन सामान्य (4) एक अच्छा समाज (2)
93. अगर आपको पता चले कि, आपके विद्यालय के प्रधानाध्यापक आज अवकाश पर हैं, तब आप क्या करेंगे?
- (1) छात्रों की समस्या सुलझाने की कोशिश करेंगे।
  - (2) काम करते रहेंगे।
  - (3) पूरे विद्यालय का ध्यान रखेंगे।
  - (4) स्टाफ रूम में आराम करेंगे। (3)
94. पढ़ते समय अध्यापक को बीच-बीच में प्रश्न क्यों पूछने चाहिए?
- (1) छात्र प्रश्नों का उत्तर देना पसंद करते हैं।
  - (2) अनुशासन बनाए रखने के लिए
  - (3) प्रधानाचार्य को प्रसन्न रखने के लिए
  - (4) छात्रों को अभिव्यक्ति का अवसर मिलता है। (4)
95. पाठ्य सहगामी क्रियाएँ किसलिए आवश्यक हैं?
- (1) छात्रों के मनोरंजन के लिए
  - (2) व्यक्तित्व विकास के लिए
  - (3) अन्तर्वैयक्तिक संबंधों के लिए
  - (4) समय बिताने के लिए (2)
96. वस्तुनिष्ठ प्रश्नों की क्या विशेषता है?
- (1) मूल्यांकन आसान होता है।
  - (2) ये विश्वसनीय होते हैं।
  - (3) छात्र को उत्तर देना आसान होता है।
  - (4) प्राप्तांकन वस्तुनिष्ठ होता है। (2)
97. छात्रों में भाषण देने की कला को विकसित करने हेतु आप क्या करेंगे?
- (1) भाषण की कला पर व्याख्यान देंगे।
  - (2) भाषण के विषयों पर लेख लिखेंगे।
  - (3) छात्रों को व्यक्तिगत रूप से बोलने का अभ्यास कराएँगे।
  - (4) कुछ अच्छे वक्ताओं को विद्यालय में आमंत्रित करेंगे। (3)
98. शिक्षण सहायक सामग्री के उपयोग में किसे आप अधिक महत्व देंगे?
- (1) कीमत (2) छात्र रुचि
  - (3) आकर्षकता (4) भयपता
99. छात्रों से अच्छा संबंध बनाने के लिए आप क्या करेंगे?
- (1) उनकी प्रशंसा करेंगे।
  - (2) उनके सुख-दुःख में भाग लेंगे।
  - (3) उन्हें परीक्षा में अच्छे अंक देंगे।
  - (4) उनकी समस्याओं को ध्यानपूर्वक सुनेंगे। (2)
100. यदि कोई अभिभावक विशेष अवसर पर आपको घर आने का निमंत्रण दे, तो आप क्या करेंगे?
- (1) नहीं जाएँगे (2) बहाना बना देंगे
  - (3) प्रसन्नतापूर्वक जाएँगे (4) का निमंत्रण दे, तो आप क्या करेंगे (4)
  - (4) निमंत्रण पत्र वापस कर देंगे

## सामान्य ज्ञान

101. भारत की स्वाधीनता के समय ब्रिटिश प्रधानमंत्री कौन थे?  
 (1) लुईस माउन्टबेटन (2) विंस्टन चर्चिल  
 (3) नेविल चेम्बर्लेन (4) क्लीमेंट एटली (4)
102. वर्धमान महावीर निम्नलिखित में से किस जैन तीर्थंकर के शिष्य थे?  
 (1) ऋषभदेव (2) पार्श्वनाथ  
 (3) शम्भवानाथ (4) अजितनाथ (2)
103. निम्नलिखित में से किस दिन, भारत की संविधान सभा ने, भारत के राष्ट्रीय ध्वज के प्रारूप को अंगीकार किया था?  
 (1) 21 अगस्त, 1945 (2) 15 अगस्त, 1946  
 (3) 22 जुलाई, 1947 (4) 26 जनवरी, 1950 (3)
104. राजस्थान बजट 2022-23 में शहरी रोजगार गारंटी योजना का नाम क्या है?  
 (1) जवाहरलाल नेहरू शहरी रोजगार गारंटी योजना  
 (2) राजीव गांधी शहरी रोजगार गारंटी योजना  
 (3) इंदिरा गांधी शहरी रोजगार गारंटी योजना  
 (4) बी.आर. अम्बेडकर शहरी रोजगार गारंटी योजना (3)
105. निम्नलिखित में से किसे गोवा में आयोजित भारतीय अंतरराष्ट्रीय फिल्म महोत्सव, 2021 के दौरान Indian Personality of the Year घोषित किया गया था?  
 (1) गुलजार (2) प्रसून जोशी  
 (3) अनुपम खेर (4) कंगना रनोत (2)
106. राजस्थान में किस स्थान पर अपनी तरह का पहला "रिफाइनरी सह पेट्रोलियम कॉम्प्लेक्स" का निर्माण किया जा रहा है?  
 (1) पचपदरा (2) पोखरण  
 (3) बालोतरा (4) मथानिया (1)
107. निम्नलिखित में से कौनसा कथन सही है?  
 (1) भारत विश्व का सातवाँ सबसे बड़ा देश है और जनसंख्या में द्वितीय स्थान रखता है।  
 (2) भारत में 27 राज्य और 8 संघ शासित प्रदेश हैं।  
 (3) लक्षद्वीप की राजधानी पोर्ट ब्लेयर है।  
 (4) मेघालय की राजधानी इम्फाल है। (1)
108. भारत का राष्ट्र गीत सबसे पहली बार किस राजनीतिक अवसर पर गाया गया था?  
 (1) भारतीय राष्ट्रीय कांग्रेस का 1885 का सत्र  
 (2) भारतीय राष्ट्रीय कांग्रेस का 1888 का सत्र  
 (3) भारतीय राष्ट्रीय कांग्रेस का 1896 का सत्र  
 (4) भारतीय राष्ट्रीय कांग्रेस का 1899 का सत्र (3)
109. निम्नलिखित में से कौनसा कथन गलत है?  
 (1) उत्तर-पश्चिम में भारत की अफगानिस्तान और पाकिस्तान से साझा जमीनी सीमाएँ हैं।  
 (2) उत्तर में भारत की चीन, भूटान और नेपाल से साझा जमीनी सीमाएँ हैं।  
 (3) दक्षिण में भारत की श्रीलंका से साझा जमीनी सीमाएँ हैं।  
 (4) पूर्व में भारत की बाँग्लादेश से साझा जमीनी सीमाएँ हैं। (3)
110. राजस्थान में राज्य अभिलेखागार निदेशालय कहाँ स्थित है?  
 (1) जयपुर (2) जोधपुर  
 (3) बीकानेर (4) उदयपुर (3)
111. प्रशांत किशोर कौन हैं?  
 (1) प्रसिद्ध राजनीतिक व्यूह रचनाकार  
 (2) प्रसिद्ध कोविड विशेषज्ञ  
 (3) प्रसिद्ध क्रिकेट कोच  
 (4) प्रसिद्ध अर्थशास्त्री (1)
112. खेजड़ी वृक्ष के बारे में निम्नलिखित में से कौनसा कथन गलत है?  
 (1) खेजड़ी वृक्ष मुख्य रूप से राजस्थान के थार मरुस्थल में पाया जाता है।  
 (2) खेजड़ी वृक्ष का आकार बहुत अधिक होता है।  
 (3) खेजड़ी वृक्ष शुष्क और अर्ध-शुष्क क्षेत्रों के पारितंत्र के लिए अत्यंत महत्वपूर्ण है।  
 (4) खेजड़ी वृक्ष का वानस्पतिक नाम प्रोसोपिस सिनेरारिया है। (2)
113. स्वच्छ भारत सर्वेक्षण के अनुसार विगत पाँच वर्षों से भारत का सबसे साफ शहर कौनसा है?  
 (1) जमशेदपुर (2) त्रिची  
 (3) इंदौर (4) मैसूर (3)
114. सल्तनत काल में किस सुल्तान ने दिल्ली के प्रभाव को बढ़ाने के लिए पड़ोसी देशों के साथ घनिष्ठ राजनयिक संबंध बनाने पर जोर दिया था?  
 (1) अलाउद्दीन खिलजी  
 (2) गियास-उद-दीन-बलबन  
 (3) इल्तुतमिश  
 (4) मुहम्मद-बिन-तुगलक (1)
115. निम्नलिखित में से किस समाचार पत्र को जवाहरलाल नेहरू ने प्रारंभ किया था?  
 (1) दी हिंदू (2) टाइम्स ऑफ इंडिया  
 (3) नेशनल हेराल्ड (4) दी पायनियर (3)
116. निम्नलिखित राष्ट्रवादियों के समूह में से कौन ब्रिटिश शासन की दैवीय प्रकृति में विश्वास करते थे?  
 (1) उग्रवादी (2) आदर्शवादी  
 (3) उदारवादी (4) अतिवादी (3)

117. 'स्मार्ट सिटीज मिशन' के अंतर्गत राजस्थान के किन चार शहरों का चयन हुआ है?
- (1) कोटा, उदयपुर, अजमेर और जयपुर  
 (2) जयपुर, कोटा, जोधपुर और अजमेर  
 (3) जोधपुर, जयपुर, उदयपुर और बीकानेर  
 (4) जयपुर, उदयपुर, कोटा और बीकानेर (1)
118. स्वतंत्रता से पहले दक्षिण भारत के किस नेता को 'पेरियार' कहा जाता था?
- (1) ई.वी. रामास्वामी (2) एस. राजगोपालाचारी  
 (3) एस. राधाकृष्णन (4) ई.एम.एस. नंबूदरीपाद (1)
119. निम्नलिखित में से किन्हें राजस्थान में पत्रकारिता का 'भीष्म पितामह' कहा जाता है?
- (1) जयनारायण व्यास (2) हरिदेव जोशी  
 (3) कपूर चंद्र कुलिश (4) झाबरमल शर्मा (4)
120. निम्नलिखित में से कौनसा संगठन 1916 में स्थापित हुआ था?
- (1) जूलॉजिकल सर्वे ऑफ इंडिया  
 (2) फॉरेस्ट सर्वे ऑफ इंडिया  
 (3) बाटैनिकल सर्वे ऑफ इंडिया  
 (4) आर्कि.योलॉजिकल सर्वे ऑफ इंडिया (1)
121. नई दिल्ली में सेंट्रल विस्तु पुनर्विकास योजना के लिए नियुक्त एच.सी.पी. डिजाइन, प्लानिंग एंड मैनेजमेंट प्राइवेट लिमिटेड के प्रबंध निदेशक कौन हैं?
- (1) देवजी पटेल (2) नारायण मूर्ति  
 (3) हफीज काट्रेक्टर (4) बिमल पटेल (4)
122. निम्नलिखित में से 'द लॉयल मोहम्मदन्स ऑफ इंडिया' किसकी कृति है?
- (1) वी.डी. सावरकर (2) सैयद अहमद खान  
 (3) चौधरी रहमत अली (4) अल्ताफ हुसैन हाली (2)
123. 30 मार्च, 2022 को राजस्थान राज्य की स्थापना का कौनसा वर्ष मनाया गया था?
- (1) 72वाँ (2) 73वाँ  
 (3) 74वाँ (4) 75वाँ (3)
124. निम्नलिखित में से कौनसा पुरातत्वविद् हड़प्पा सभ्यता के खुदाई कार्य से संबंधित नहीं था?
- (1) अलेक्जेंडर कनिंघम  
 (2) दयाराम साहनी  
 (3) मॉर्टिमर व्हीलर  
 (4) राखालदास बनर्जी (3)
125. राजस्थान बजट 2022-23 के बारे में निम्नलिखित में से कौनसा कथन गलत है?
- (1) चिरंजीवी योजना के अंतर्गत प्रति परिवार बीमा राशि 5 लाख रु. से बढ़ाकर 10 लाख रु. कर दी गई है।  
 (2) मनरेगा के अंतर्गत प्रति वर्ष रोजगार दिवसों की संख्या 100 से बढ़ाकर 125 दिवस कर दी गई है।  
 (3) लोक कलाकारों को दिए जाने वाले मानदेय में 50 प्रतिशत बढ़ोत्तरी कर दी गयी है।  
 (4) मुख्यमंत्री कृषक साथी योजना के अंतर्गत 11 अभियान होंगे। (3)
126. 1936 में डॉ. बी.आर. अम्बेडकर ने जो राजनीतिक दल बनाया था, उसका नाम क्या था?
- (1) रिपब्लिकन पार्टी ऑफ इंडिया  
 (2) शेड्यूल्ड कास्ट्स फेडरेशन  
 (3) इंडिपेंडेंट लेबर पार्टी  
 (4) दलित पेन्थर्स (3)
127. निम्नलिखित में से किसने 2022 योनेक्स स्विस ओपन बैडमिंटन महिला एकल खिताब जीता?
- (1) क्रिस्टी गिलमोर (2) पुसरला वी. सिंधू  
 (3) अष्मिता चलिहा (4) आईरिस वांग (2)
128. कौनसे दो ऐतिहासिक ग्रंथ हमें मौर्य साम्राज्य के प्रशासनिक तंत्र के बारे में बताते हैं?
- (1) महावात्सू और दिव्यावदन  
 (2) बुद्धचरित और सौन्दरानंद  
 (3) इंडिका और अर्थशास्त्र  
 (4) गाथासतसई और मनिमैकले (3)
129. भारत का कौनसा भूगर्भीय क्षेत्र उत्तर में हिमालय को दक्षिण में प्रायद्वीप से अलग करता है?
- (1) महान मरुस्थलीय क्षेत्र  
 (2) नीलगिरि पर्वत  
 (3) पूर्वी घाट  
 (4) इंडो-गंगेटिक प्लेन्स (4)
130. निम्नलिखित में से किसने "Rebels against the Raj" पुस्तक लिखी है?
- (1) रामचंद्र गुहा (2) मेघनाद साह  
 (3) चेतन भगत (4) अरुंधति रॉय (1)
131. 'गुलामगिरी' पुस्तक की रचना किसने की?
- (1) बिरसा मुण्डा (2) ज्योतिबा फुले  
 (3) बी.आर. अम्बेडकर (4) श्रीनारायण गुरु (2)
132. हाल ही में विश्वविद्यालय अनुदान आयोग का अध्यक्ष किसे बनाया गया है?
- (1) प्रोफेसर राकेश भटनागर  
 (2) प्रोफेसर जयंती घोष  
 (3) प्रो. एम. जगदीश कुमार  
 (4) प्रो. मकरंद परांजपे (3)

133. राजस्थान के किस शहर में नए ग्रीनफील्ड एयरपोर्ट का निर्माण प्रस्तावित है?  
 (1) कोटा (2) भीलवाड़ा  
 (3) आबू (4) भरतपुर (1)
134. निम्नलिखित में से कौन अंतरराष्ट्रीय ओलंपिक समिति का सदस्य है?  
 (1) सचिन तेंदुलकर (2) नीरज चोपड़ा  
 (3) नीता अंबानी (4) गौतम अदानी (3)
135. भारत के जलपुरुष, श्री राजेंद्र सिंह कौनसे गैर-सरकारी संगठन के संचालक हैं?  
 (1) प्रिया (2) सोशल वर्क एंड रिसोर्स सेंटर  
 (3) जन जागरण समिति (4) तरुण भारत संघ (4)
136. निम्नलिखित में से कौन राजस्थान की विधानसभा की प्रथम महिला विधायक थीं?  
 (1) सुमित्रा सिंह (2) यशोदा देवी  
 (3) कांता भील (4) जाहिदा खान (2)
137. 2011 की जनगणना के अनुसार, भारत का सबसे सघन आबादी वाला राज्य कौनसा है?  
 (1) पश्चिम बंगाल (2) केरल  
 (3) झारखंड (4) बिहार (4)
138. निम्नलिखित में से कौन फिल्म 83 के निर्देशक हैं, जो 1983 क्रिकेट विश्व कप प्रतियोगिता में भारत की यादगार विजय पर आधारित है?  
 (1) कबीर खान (2) विष्णु वर्धन इंदुरी  
 (3) साजिद नाडियाडवाला (4) दीपिका पादुकोण (1)
139. 1937 के चुनावों में, भारतीय राष्ट्रीय कांग्रेस को कितने प्रान्तों में पूर्ण बहुमत प्राप्त हुआ था?  
 (1) 11 में से 5 प्रान्तों में  
 (2) 11 में से 6 प्रान्तों में  
 (3) 11 में से 7 प्रान्तों में  
 (4) 11 में से 8 प्रान्तों में (3)
140. जनवरी 2022 में किस देश ने भारत से ब्रिक्स संगठन की अध्यक्षता ली?  
 (1) ब्राजील (2) रूस  
 (3) दक्षिण अफ्रीका (4) चीन (4)
141. जयपुर में एस.एम.एस. अस्पताल परिसर में उद्घाटित एस.एम.एस. आई.पी.डी. टावर के मुख्य आर्किटेक्ट कौन हैं?  
 (1) विमल पटेल (2) अनूप बरतारिया  
 (3) रवि प्रकाश (4) सौरभ शर्मा (2)
142. प्रसिद्ध कवि कालिदास किस गुप्त राजा के दरबार से संबंधित थे?  
 (1) चन्द्रगुप्त प्रथम (2) समुद्रगुप्त  
 (3) चन्द्रगुप्त द्वितीय (4) स्कंदगुप्त (3)
143. निम्नलिखित नदियों के समूह में से कौनसा समूह गंगा की प्रमुख सहायक नदियों का समूह है?  
 (1) धनसिरी, यमुना, गंडक और पल्लाडिया  
 (2) यमुना, गंडक, घाघरा और महानंदा  
 (3) गंडक, सोन, कोसी और रावी  
 (4) यमुना, घाघरा, चेनाब और सोन (2)
144. पद्म पुरस्कार 2022 में, राजस्थान के निम्नलिखित व्यक्तियों में से किन्हें पद्मभूषण पुरस्कार प्रदान किया गया?  
 (1) राजीव महर्षि (2) चंद्रप्रकाश द्विवेदी  
 (3) अरवि लेखरा (4) राम दयाल शर्मा (1)
145. पौधों की विविधता में भारत की एशिया में कौनसी स्थिति है?  
 (1) तीसरी (2) चौथी  
 (3) पाँचवीं (4) छठी (2)
146. क्षेत्रफल की दृष्टि से राजस्थान में सबसे बड़ा संभाग कौनसा है?  
 (1) जयपुर (2) उदयपुर  
 (3) अजमेर (4) जोधपुर (4)
147. कौनसा 'रासो' राजपूतों की उत्पत्ति को 'अग्निकुंड' से संबंधित करता है?  
 (1) हम्मीर रासो (2) खुमान रासो  
 (3) बीसलदेव रासो (4) पृथ्वीराज रासो (4)
148. 1893 में डरबन जाने से पहले, वे कौनसे दो भारतीय शहर हैं जहाँ गांधी ने अल्प समय के लिए वकालत की थी?  
 (1) पोरबंदर और अहमदाबाद  
 (2) सूरत और अहमदाबाद  
 (3) बम्बई और सूरत  
 (4) राजकोट और बम्बई (4)
149. किन पुराणों के अनुशीलन से मोक्ष प्राप्ति होती है?  
 (1) नारद, भागवत और गरुड़  
 (2) गरुड़, भविष्य और ब्रह्म  
 (3) वामन, ब्रह्म और शिव  
 (4) भागवत, लिंग और अग्नि (2)
150. 2022 इंडियन प्रीमियर लीग क्रिकेट प्रतियोगिता में, निम्न में से किस बल्लेबाज ने सबसे पहला अर्ध शतक लगाया था?  
 (1) संजू सेमसन (2) आयुष बदोनी  
 (3) एडेन मार्कराम (4) महेंद्र सिंह धोनी (4)

## Language Proficiency – English

151. The mountains are covered \_\_\_\_\_ snow.  
 (1) with (2) by (3) on (4) from (1)
152. He felt \_\_\_\_\_ when his friends refused to help him.  
 (1) let in (2) let up  
 (3) let down (4) let upon (3)
153. Select the synonym of the underlined word:  
 The king was benevolent.  
 (1) kind (2) cruel  
 (3) foolish (4) envious (1)
154. Complete the proverb: A little knowledge is a \_\_\_\_  
 (1) good thing (2) ugly thing  
 (3) helpful thing (4) dangerous thing (4)
155. Rearrange in proper sequence the jumbled options and complete the sentence. We must \_\_ (P) as we see it (Q) speak the truth (R) there is falsehood and evil (S) even if around us. The proper sequence of jumbled sentence should be:  
 (1) RQSP (2) QRPS  
 (3) RSOP (4) QPSR (4)
156. Select the correctly spelt word—  
 (1) Occurence (2) Existence  
 (3) Dependence (4) Persistence (2)
157. I have \_\_\_\_\_ my work.  
 (1) finish (2) finished  
 (3) finishing (4) will finish (2)
158. I need \_\_\_\_\_ water.  
 (1) every (2) none  
 (3) some (4) few (3)
159. Select the option that means 'Animals that eat flesh'—  
 (1) Herbivorous (2) Omnivorous  
 (3) Carnivorous (4) Vegetarian (3)
160. I was filled with \_\_\_\_\_ while recalling incidents of my happy childhood.  
 (1) nausea (2) sympathy  
 (3) empathy (4) nostalgia (4)
161. She must reach the examination hall latest \_\_\_\_\_ 8.00 am.  
 (1) for (2) in (3) to (4) by (4)
162. Can you walk a bit \_\_\_\_\_?  
 (1) fast (2) faster  
 (3) fastest (4) more faster (2)
163. Select the wrongly spelt word—  
 (1) ly (2) red (3) ness (4) hood (1)
164. Select the wrongly spelt word—  
 (1) Opening (2) Stopping  
 (3) Beginning (4) Referring (1)
165. He left the college \_\_\_\_\_ of all.  
 (1) latest (2) last  
 (3) least (4) longest (1)
166. Select the option that will mean 'Fellowship' when suffix 'hood' is added to it.  
 (1) False (2) Brother  
 (3) Self (4) Knight (2)
167. The moon is beautiful \_\_\_\_\_.  
 (1) Is it? (2) Isn't it?  
 (3) Was it? (4) Wasn't it? (2)
168. Select the word opposite in meaning to the word 'Liberty'.  
 (1) Bravery (2) Slavery  
 (3) Independence (4) Democracy (2)
169. This book is \_\_\_\_\_ good as the other.  
 (1) too (2) so (3) as (4) very (3)
170. \_\_\_\_\_ you work hard, you will not succeed.  
 (1) If (2) Until  
 (3) Unless (4) Provided (3)
171. Select the option that is closest in meaning to the word 'Traverse'—  
 (1) Cross (2) Mingle  
 (3) Reverse (4) Cancel (1)
172. \_\_\_\_\_ English language is not easy.  
 (1) The (2) A  
 (3) An (4) No article to be used (4)
173. Bread and jam \_\_\_\_\_ my favourite snack.  
 (1) is (2) are (3) be (4) both (1)
174. I have great confidence \_\_\_\_\_ you  
 (1) to (2) in (3) for (4) about (2)
175. Select the option opposite in meaning to the word 'Antipathy'  
 (1) Willingness (2) Indifference  
 (3) Liking (4) Proactive (3)

176. I cannot decide \_\_\_\_\_ I should do it \_\_\_\_\_ not.  
 (1) as; so (2) though; yet  
 (3) so; that (4) whether; or (4)
177. The book fair is to be officially inaugurated \_\_\_\_\_ Wednesday \_\_\_\_\_ 11:00 am.  
 (1) on; at (2) at; on  
 (3) from; on (4) on; for (1)
178. Select the option that means 'A statement that is absolutely clear'.  
 (1) Vocal (2) Dialogue  
 (3) Ambiguous (4) Unequivocal (1)
179. Rama is \_\_\_\_\_ hardworking \_\_\_\_\_ intelligent.  
 (1) not only; nor (2) neither; either  
 (3) both; and (4) though; and (3)
180. Select the option closest in meaning to the word '**Lethargy**'.  
 (1) Serenity (2) Laxity  
 (3) Listlessness (4) Impassivity (3)
181. What does the expression "Blow a fuse" mean?  
 (1) Break a bulb (2) Get angry  
 (3) Black out (4) Punch (2)
182. I often think \_\_\_\_\_ to London.  
 (1) to going (2) will go  
 (3) shall go (4) of going (4)
183. It is a \_\_\_\_\_ in our family to fast during monsoon season.  
 (1) habit (2) way  
 (3) custom (4) manner (3)
184. Select the prefix that should be added to the word '**lingual**' to mean 'using two languages'.  
 (1) Bi (2) By (3) Be (4) Non (1)
185. \_\_\_\_\_ of the students in the class knew the answer.  
 (1) Either (2) Neither  
 (3) None (4) No one (3)
186. What does the term *in toto* mean?  
 (1) all alone (2) on the whole  
 (3) in parts (4) in pieces (2)
187. We have been studying \_\_\_\_\_ morning.  
 (1) on (2) by (3) while (4) since (4)
188. Mark the odd one out:  
 (1) abandon (2) discard  
 (3) reject (4) embrace (4)
189. His son will \_\_\_\_\_ the business after his death.  
 (1) carry on (2) carry out  
 (3) carry through (4) carry (1)
190. Change into Passive Voice—  
 Suresh gave me a present.  
 (1) A present was given to me by Suresh.  
 (2) A present was given by me to Suresh.  
 (3) Me was given a present by Suresh.  
 (4) Suresh was given a present by me. (1)
191. We \_\_\_\_\_ help the poor and needy.  
 (1) may (2) might  
 (3) would (4) ought to (4)
192. Select the option that will mean '**Predict**' when prefix 'Fore' is added to it.  
 (1) front (2) cast  
 (3) head (4) man (2)
193. He was struck \_\_\_\_\_ lightning.  
 (1) with (2) by  
 (3) at (4) from (2)
194. She missed the bus, \_\_\_\_\_ she had to book a taxi.  
 (1) hence (2) whether  
 (3) that (4) neither (1)
195. Cattle \_\_\_\_\_ grazing in the field.  
 (1) is (2) be (3) are (4) do (3)
196. Of singing and dancing, I like the \_\_\_\_\_.  
 (1) later (2) latter  
 (3) latest (4) least (2)
197. My house is \_\_\_\_\_ the park.  
 (1) beside (2) besides  
 (3) between (4) upon (1)
198. Select the option closest in meaning to the word '**Arrogant**'.  
 (1) Terrible (2) Hateful  
 (3) Unpleasant (4) Conceited (4)
199. I wish I \_\_\_\_\_ a queen.  
 (1) am (2) should be  
 (3) were (4) ought to be (3)
200. Many areas of the town were \_\_\_\_\_ into darkness due to power cut.  
 (1) covered (2) plunged  
 (3) spread (4) sheltered (2)

## भाषा कौशल : हिन्दी वर्ग

151. निम्नलिखित में से तद्भव शब्द चुनिए—  
 (1) भीख (2) मित्र (3) दुर्बल (4) दीपक (1)
152. निम्नलिखित में से कौन-सा शब्द तत्सम है?  
 (1) सुगंध (2) सौत (3) सौ (4) सोना (1)
153. निम्नलिखित विकल्पों में से कौन-सा विकल्प कालवाची क्रिया-विशेषण है?  
 (1) वह दिनभर लिखता रहता है।  
 (2) वह पास ही रहती है।  
 (3) माँ यहाँ आराम कर रही हैं।  
 (4) वह बाहर खेल रहा है। (1)
154. किस विकल्प में Adjournment शब्द का समकक्ष हिंदी पारिभाषिक शब्द सही है?  
 (1) विज्ञप्ति (2) संहिता  
 (3) अनुपूरक (4) स्थगन (4)
155. अवनि का विलोम होगा—  
 (1) अम्बर (2) अग्नि  
 (3) वसुधा (4) अचला (1)
156. वाक्यांश के लिए एक शब्द के संदर्भ में असंगत विकल्प चुनिए—  
 (1) जो कठिनता से भेदा जा सके - दुर्भेद्य  
 (2) जिसे समझना कठिन न हो - अबोध  
 (3) जिसे लौघना कठिन हो - दुर्लघ्य  
 (4) जिसका रंग-ढंग अच्छा न हो - दुर्ललित (2)
157. 'पुरोहित' में उपसर्ग है—  
 (1) पुरस् (2) पुरः (3) पुरा (4) पुर (2)
158. निम्न में से कौन-सी प्रेरणार्थक क्रिया है?  
 (1) पढ़ना (2) जगाना  
 (3) सुनना (4) लेटना (2)
159. "कर्म कल बाहर जाएगा।" वाक्य में किस काल का भेद है?  
 (1) भविष्यकाल (2) भूतकाल  
 (3) वर्तमान काल (4) संदिग्ध वर्तमान काल (1)
160. "पाँच किलो आटा दे दीजिए।" में विशेषण है—  
 (1) संख्यावाचक (2) सार्वनामिक  
 (3) गुणवाचक (4) परिमाणवाचक (4)
161. 'दिगन्त' शब्द में संधि है—  
 (1) विसर्ग संधि (2) अयादि संधि  
 (3) यण् संधि (4) व्यंजन संधि (4)
162. किस शब्द में "आ" उपसर्ग का प्रयोग हुआ है?  
 (1) आरण्यक (2) आवश्यक  
 (3) आबद्ध (4) आधुनिक (3)
163. निम्न में से शुद्ध वर्तनी वाला शब्द है—  
 (1) दुरावस्था (2) तदनुकूल  
 (3) निराभिमान (4) निरालंकृत (2)
164. निम्नलिखित प्रश्न में, चार विकल्पों में से, उस विकल्प का चयन करें, जो 'पगड़ी उछालना' मुहावरे का सही अर्थ है—  
 (1) बेइज्जत करना (2) खुशी जाहिर करना  
 (3) परेशानी हल करना (4) कोशिश करना (1)
165. अविकारी शब्द होता है—  
 (1) संज्ञा (2) सर्वनाम  
 (3) विशेषण (4) अव्यय (4)
166. जो रात में इधर-उधर घूमता है—  
 (1) निशाचर (2) चराचर  
 (3) असुर (4) देवता (1)
167. आत्मविस्मृत शब्द किस समास का उदाहरण है?  
 (1) तत्पुरुष (2) अव्ययीभाव  
 (3) कर्मधारय (4) द्विगु (1)
168. 'इन' प्रत्यय से बना सही शब्द है—  
 (1) पापन (2) नागिन  
 (3) तापन (4) आगन (2)
169. अशुद्ध वर्तनी वाला विकल्प चुनिए—  
 (1) मैथिलीशरण (2) सरोजिनी  
 (3) प्रियदर्शनी (4) सारणी (3)
170. 'दफा' शब्द का इसमें कौन-सा अर्थ सही नहीं है?  
 (1) चला जाना (2) बार  
 (3) धारा (4) अनर्थकारी (4)
171. इनमें से कौन-सा शब्द विदेशी है?  
 (1) खटिया (2) लोटा  
 (3) भोंपू (4) कागज़ (4)
172. निम्नलिखित में से कौन-सा शब्द पुल्लिङ्ग है?  
 (1) दाल (2) सब्जी  
 (3) पकवान (4) फसल (3)
173. कौन-सा विकल्प, अर्थालंकार का भेद नहीं है?  
 (1) अनुप्रास अलंकार (2) रूपक अलंकार  
 (3) अतिशयोक्ति अलंकार (4) उपमा अलंकार (1)
174. 'रोगिणी' शब्द है—  
 (1) विशेषण (2) सर्वनाम  
 (3) क्रिया विशेषण (4) भाववाचक संज्ञा (1)
175. किस विकल्प में भाववाचक संज्ञा है?  
 (1) उदासी (2) मुम्बई  
 (3) शहर (4) मनुष्य (1)



## भाषा कौशल : हिन्दी वर्ग

151. निम्नलिखित में से तद्भव शब्द चुनिए-  
 (1) भीख (2) मित्र (3) दुर्बल (4) दीपक (1)
152. निम्नलिखित में से कौन-सा शब्द तत्सम है?  
 (1) सुगंध (2) सौत (3) सौ (4) सोना (1)
153. निम्नलिखित विकल्पों में से कौन-सा विकल्प कालवाची क्रिया-विशेषण है?  
 (1) वह दिनभर लिखता रहता है।  
 (2) वह पास ही रहती है।  
 (3) माँ यहाँ आराम कर रही हैं।  
 (4) वह बाहर खेल रहा है। (1)
154. किस विकल्प में Adjournment शब्द का समकक्ष हिंदी पारिभाषिक शब्द सही है?  
 (1) विज्ञप्ति (2) संहिता  
 (3) अनुपूरक (4) स्थगन (4)
155. अवनि का विलोम होगा-  
 (1) अम्बर (2) अग्नि  
 (3) वसुधा (4) अचला (1)
156. वाक्यांश के लिए एक शब्द के संदर्भ में असंगत विकल्प चुनिए-  
 (1) जो कठिनता से भेदा जा सके - दुर्भेद्य  
 (2) जिसे समझना कठिन न हो - अबोध  
 (3) जिसे लौंघना कठिन हो - दुर्लघ्य  
 (4) जिसका रंग-रंग अच्छा न हो - दुर्ललित (2)
157. 'पुरोहित' में उपसर्ग है-  
 (1) पुरस् (2) पुरः (3) पुरा (4) पुर (2)
158. निम्न में से कौन-सी प्रेरणार्थक क्रिया है?  
 (1) पढ़ना (2) जगाना  
 (3) सुनना (4) लेटना (2)
159. "कर्ण कल बाहर जाएगा।" वाक्य में किस काल का भेद है?  
 (1) भविष्यकाल (2) भूतकाल  
 (3) वर्तमान काल (4) संदिग्ध वर्तमान काल (1)
160. "पाँच किलो आटा दे दीजिए।" में विशेषण है-  
 (1) संख्यावाचक (2) सार्वनामिक  
 (3) गुणवाचक (4) परिमाणवाचक (4)
161. 'दिगन्त' शब्द में संधि है-  
 (1) विसर्ग संधि (2) अयादि संधि  
 (3) यण् संधि (4) व्यंजन संधि (4)
162. किस शब्द में "आ" उपसर्ग का प्रयोग हुआ है?  
 (1) आरप्यक (2) आवश्यक  
 (3) आवद्ध (4) आधुनिक (3)
163. निम्न में से शुद्ध वर्तनी वाला शब्द है-  
 (1) दुरावस्था (2) तदनुकूल  
 (3) निराभिमान (4) निरालंकृत (2)
164. निम्नलिखित प्रश्न में, चार विकल्पों में से, उस विकल्प का चयन करें, जो 'पगड़ी उछालना' मुहावरे का सही अर्थ है-  
 (1) बेइज्जत करना (2) खुशी जाहिर करना  
 (3) परेशानी हल करना (4) कोशिश करना (1)
165. अविकारी शब्द होता है-  
 (1) संज्ञा (2) सर्वनाम  
 (3) विशेषण (4) अव्यय (4)
166. जो रात में इधर-उधर घूमता है-  
 (1) निशाचर (2) चराचर  
 (3) असुर (4) देवता (1)
167. आत्मविस्मृत शब्द किस समास का उदाहरण है?  
 (1) तत्पुरुष (2) अव्ययीभाव  
 (3) कर्मधारय (4) द्विगु (1)
168. 'इन' प्रत्यय से बना सही शब्द है-  
 (1) पापन (2) नागिन  
 (3) तापन (4) आगन (2)
169. अशुद्ध वर्तनी वाला विकल्प चुनिए-  
 (1) मैथिलीशरण (2) सरोजिनी  
 (3) प्रियदर्शनी (4) सारणी (3)
170. 'दफा' शब्द का इसमें कौन-सा अर्थ सही नहीं है?  
 (1) चला जाना (2) बार  
 (3) धारा (4) अनर्थकारी (4)
171. इनमें से कौन-सा शब्द विदेशी है?  
 (1) खटिया (2) लोटा  
 (3) भोंपू (4) कागज (4)
172. निम्नलिखित में से कौन-सा शब्द पुल्लिंग है?  
 (1) दाल (2) सब्जी  
 (3) पकवान (4) फसल (3)
173. कौन-सा विकल्प, अर्थालंकार का भेद नहीं है?  
 (1) अनुप्रास अलंकार (2) रूपक अलंकार  
 (3) अतिशयोक्ति अलंकार (4) उपमा अलंकार (1)
174. 'रोगिणी' शब्द है-  
 (1) विशेषण (2) सर्वनाम  
 (3) क्रिया विशेषण (4) भाववाचक संज्ञा (1)
175. किस विकल्प में भाववाचक संज्ञा है?  
 (1) उदासी (2) मुम्बई  
 (3) शहर (4) मनुष्य (1)

176. 'ईश्वर की माया, कहीं धूप कहीं छाया', लोकोक्ति का अर्थ है-  
 (1) मनमर्जी का काम (2) जीवन में दुर्घटना  
 (3) भाग्य की विचित्रता (4) अति उत्साह से कार्य (3)
177. 'सठिया जाना' मुहावरे का अर्थ है-  
 (1) साठ साल का होना (2) नकारात्मक भाव  
 (3) बुद्धि नष्ट होना (4) स्वस्थ होना (3)
178. 'बिजली चमकती है।' कैसा वाक्य है?  
 (1) संयुक्त वाक्य (2) मिश्र वाक्य  
 (3) सरल वाक्य (4) उपवाक्य (3)
179. 'नवनीत' शब्द का सही अर्थ है-  
 (1) घी (2) नवीन (3) आकाश (4) मक्खन (4)
180. निम्नलिखित में से जातिवाचक संज्ञा कौन सी है?  
 (1) दासत्व (2) ममता  
 (3) काशी (4) नदी (4)
181. क्रिया-विश्लेषण का भेद नहीं है-  
 (1) कालवाचक (2) स्थानवाचक  
 (3) परिणामवाचक (4) रीतिवाचक (3)
182. 'मेधावी' में प्रत्यय है-  
 (1) ई (2) वी (3) आवी (4) मेधा (2)
183. निम्नलिखित में कौन-सा शब्द सदैव बहुवचन में प्रयुक्त होता है?  
 (1) केश (2) मुनि (3) विद्या (4) आलू (1)
184. निम्न में से कौन सा मिश्र वाक्य है?  
 (1) चोर को देखकर सिपाही पकड़ने दौड़ा।  
 (2) नेताजी भाषण देकर चले गए।  
 (3) सेठ जानता है कि नौकर ईमानदार है।  
 (4) बिजली नहीं थी इसलिए अँधेरा था। (3)
185. 'जो कभी तृप्त ना होता हो', के लिए एक शब्द होगा-  
 (1) तर्पण (2) अतृप्त (3) तृप्ति (4) संतप्त (2)
186. किस विकल्प में विलोम युग्म है?  
 (1) सम्मुख-विमुख (2) संन्यास-संन्यासी  
 (3) असमय-असीम (4) कुसुम-कुसंग (2)
187. निम्न में कौनसा विकल्प भाववाच्य से संबंधित नहीं है?  
 (1) राधा के द्वारा कहानी पढ़ी गयी।  
 (2) बच्चों से शांत नहीं रहा जाता।  
 (3) मेरी बहन से नहीं चला गया।  
 (4) अब मुझसे नहीं बैठा जाएगा। (1)
188. 'परमानंद' शब्द में समास है-  
 (1) तत्पुरुष (2) द्विगु  
 (3) अव्ययीभाव (4) कर्मधारय (4)
190. निम्न में से कौन कौन-सा शब्द स्त्रीलिंग है?  
 (1) अपराध (2) आत्मा  
 (3) अमृत (4) अपहरण (2)
191. निम्नलिखित में से कौन-सा शब्द देशज है?  
 (1) अग्नि (2) प्रार्थना  
 (3) खेत (4) लोटा (4)
192. निम्नलिखित में से कौन-सा शब्द पर्वत का पर्यायवाची नहीं है?  
 (1) अचल (2) महीधर  
 (3) नग (4) पाहन (4)
193. कौन-से शब्द का अनुस्वार "ण" में लिखा जा सकता है?  
 (1) कंठ (2) गंगा (3) तंतु (4) मंजु (1)
194. निम्नलिखित में अशुद्ध वाक्य कौन सा है?  
 (1) उसका बचपन गरीबी में बीता।  
 (2) हम लोग रेलगाड़ी पर आए।  
 (3) हमने इस पर विचार किया है।  
 (4) हमने आज नाश्ता भी नहीं किया। (2)
195. अधिकरण कारण का विभक्ति चिह्न है-  
 (1) का, के (2) में, पर  
 (3) से, तक (4) अरे (2)
196. कौन-सा वाक्य अशुद्ध है?  
 (1) क्या तुम कल जाओगे?  
 (2) अपनों से संबंध बनाए रखो।  
 (3) तुम्हारे को मुझसे मतलब ही क्या है?  
 (4) जहाँ चाह, वहाँ रह। (3)
197. "मैं यह काम अपने आप कर सकता हूँ", में सर्वनाम है-  
 (1) पुरुषवाचक सर्वनाम  
 (2) मध्यम पुरुष सर्वनाम  
 (3) निजवाचक सर्वनाम  
 (4) संबंधवाचक सर्वनाम (3)
198. 'सत्यार्थी' शब्द का सही संधि विच्छेद क्या है? सही विकल्प का चयन कीजिए-  
 (1) सत्य + अर्थी (2) सत्या + अर्थी  
 (3) सत्यः + अर्थी (4) सत + अर्थी (1)
199. परमौषध का उचित संधि विच्छेद है-  
 (1) परम + औ + षध (2) परम + औषध  
 (3) परमा + औषध (4) परम + औषध (4)
200. निम्नलिखित में किस शब्द का संधि विच्छेद सही नहीं है?  
 (1) युधिष्ठिर : युधि + स्थिर  
 (2) प्रतिष्ठभ : प्रति + स्तंभ  
 (3) नमस्ते : नमः + ते  
 (4) सचिवालय : सचिव + आलय (2)