

BSTC Model Paper- 4

मॉडल हल प्रश्न-प्रश्न

भाग-अ : मानसिक योग्यता

1. दूसरों से अलग जोड़े का चयन करें-

- (1) कठोर और मुलायम (2) गर्म और ठंडे
(3) सही और गलत (4) आ और आने

2. A, B, C, D, E पाँच पुस्तकें हैं। C, D के ऊपर है। E, D के नीचे है। D, A के ऊपर है। B, E के नीचे है तो सबसे ऊपर कौनसी पुस्तक है?

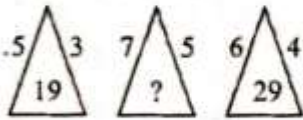
- (1) A (2) C
(3) B (4) D

3. रिक्त स्थान को भरें-

7	8	?
56	64	96
14	16	24

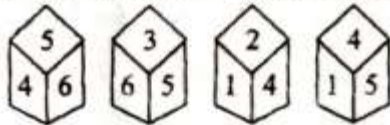
- (1) 12 (2) 14
(3) 19 (4) 16

4. दिए गए दूसरे त्रिभुज के मध्य में कौन-सी संख्या होगी?



- (1) 31 (2) 41
(3) 51 (4) 47

5. निम्न घनों (पासा) के अनुसार फलक 3 के विपरीत कौन-सा अंक है?



- (1) 1 (2) 2
(3) 4 (4) 5

6. निम्नलिखित समीकरण को सही करने के लिए किन दो चिह्नों को परस्पर बदलना होगा ?

$$5 \times 36 - 9 + 31 \div 41 = 10$$

- (1) \div और - (2) \times और +
(3) \div और + (4) \times और -

7. यदि '+' का अर्थ 'x', '-' का अर्थ '+', 'x' का अर्थ '+' और '+' का अर्थ '-' है, तो $512 - 8 + 5 \div 73 \times 92$ का मान क्या होगा?

- (1) 339 (2) 395
(3) 401 (4) 490

8. नीचे कथन और उसके बाद कुछ निष्कर्ष दिए गए हैं। आपको दिए गए कथनों को सही मान कर चलना है चाहे वे सामान्य ज्ञात तथ्यों से भिन्न प्रतीत होते हों-

कथन- सभी पियानो वाद्ययंत्र हैं।
सभी वाद्ययंत्र गिटार हैं।

निष्कर्ष-

I. सभी गिटार वाद्ययंत्र हैं।

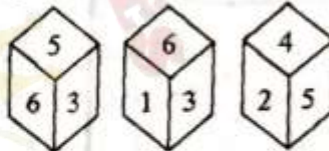
II. सभी पियानो गिटार हैं।

निर्णय कीजिए कि दिया गया कौनसा(से) निष्कर्ष दिए गए कथन का तार्किक रूप से अनुसरण करता (करते) है (हैं)?

कूट:-

- (1) केवल निष्कर्ष I अनुसरण करता है।
(2) केवल निष्कर्ष II अनुसरण करता है।
(3) न तो I न ही II अनुसरण करता है।
(4) I और II दोनों अनुसरण करते हैं।

9. निम्न पासों के आधार पर अंक 6 के विपरीत दिशा में कौन-सा अंक होगा?



- (1) 1 (2) 2
(3) 4 (4) 3

10. सारिका के तीन बच्चे हैं। पहला, दूसरे से 5 वर्ष बड़ा है तथा दूसरा बच्चा तीसरे से 4 वर्ष बड़ा है। उन सब की आयु का योग 22 वर्ष है। सबसे बड़े बच्चे की आयु ज्ञात कीजिए-

- (1) 7 (2) 9
(3) 11 (4) 12

11. A का जन्म B के जन्म से 5 साल पहले हुआ था। B, C से चार साल बड़ा है और D से तीन साल छोटा है। यदि A की वर्तमान उम्र 17 साल है, तो D की उम्र क्या है?

- (1) 19 साल (2) 15 साल
(3) 12 साल (4) 8 साल

12. एक नदी पश्चिम से पूर्व की ओर बहती है एवं मार्ग में बाईं ओर मुड़ती है और एक छोटी पहाड़ी का आधा चक्कर दक्षिणावर्त लगाती है और फिर समकोण पर बाईं ओर मुड़ती है, अब नदी किस दिशा में बह रही है?

- (1) पूर्व (2) पश्चिम
(3) उत्तर (4) दक्षिण

13. श्याम 5 किमी. पूर्व की ओर चलता है और फिर बाएँ मुड़ता है तथा 6 किमी. चलता है। फिर से वह दाएँ मुड़ता है और 9 किमी. चलता है। अंत में वह दाएँ मुड़ता है और 6 किमी. चलता है। शुरूआती स्थान से वह अभी कितनी दूरी पर है?

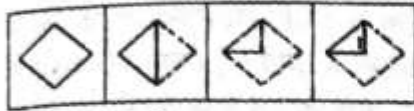
- (1) 26 किमी. (2) 21 किमी.
(3) 14 किमी. (4) 9 किमी.

14. 26 जनवरी, 1996 से 15 मई, 1996 तक (दोनों दिन शामिल करने पर) कितने दिन होंगे?

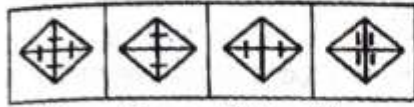
- (1) 110 (2) 111
(3) 112 (4) 113
15. अगर आज सोमवार है जो कल के बाद कौनसा दिन होगा? (2)

- (1) बुधवार (2) मंगलवार
(3) बृहस्पतिवार (4) शुक्रवार (1)

16. निम्नलिखित उत्तर आकृतियों में से यह ज्ञात कीजिए कि नीचे दिखाये ढंग से कागज को मोड़कर पंच करने तथा खोलने के बाद वह किस आकृति जैसी दिखाई देगी?
प्रश्न आकृतियाँ-



उत्तर आकृतियाँ-



- (1) (2) (3) (4) (4)

17. अगर घड़ी में शाम के चार बजे हैं तो मिनट और घंटे की सुईयाँ कितने डिग्री का कोण बनायेंगी?

- (1) 90° (2) 30°
(3) 60° (4) 120° (4)

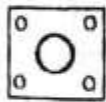
18. घड़ी की दो सुईयाँ एक दिन में कितनी बार 90° पर होती हैं?

- (1) 4 (2) 12
(3) 22 (4) 44 (4)

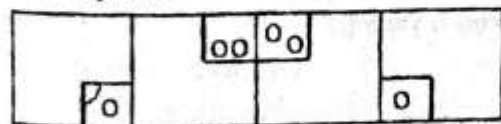
19. 25 छात्रों की एक कक्षा में, ऊपर से लता का स्थान 13वाँ है तथा नीचे से पारुल का स्थान 19वाँ है। यदि विशाल का स्थान लता एवं पारुल के ठीक बीच में है, तो ऊपर से विशाल का स्थान क्या है?

- (1) 10 वाँ (2) 8 वाँ
(3) 9 वाँ (4) 7 वाँ (1)

20. एक वर्गाकार कागज को एक विशेष ढंग से मोड़ा जाता है और उसमें छेद किये जाते हैं। खोले जाने पर कागज जैसा दिखाई देता है उस ढंग को ज्ञात कीजिए जिसके अनुसार कागज को मोड़ा गया था और उसमें छेद किये गये थे।
प्रश्न आकृति-



उत्तर आकृतियाँ-



- (1) (2) (3) (4) (1)

21. दिए गए तीन शब्दों में सही संबंध को दर्शाने वाला विकल्प ज्ञात करें-
त्रिभुज, चार भुजाओं वाला चित्र, वर्ग

- (1) (2) (3) (4)

- (1) (2) (3) (4)

22. निम्नलिखित विकल्पों में दिये गये शब्दों के अंग्रेजी वर्णमाला के क्रमानुसार व्यवस्थित करने पर कौनसा शब्द उस क्रम में तीसरे स्थान पर आएगा?

- (1) September (2) Sexual
(3) Seperate (4) Singer (2)

23. APPROXIMATION शब्द में प्रयुक्त वर्णों से निम्न में से कौनसा शब्द बनाया जा सकता है ?

- (1) NATION (2) PAPER
(3) PROXIMATE (4) TOXIN (4)

24. 'RECONSTRUCTING' अक्षरों से निर्मित शब्द है-

- (1) RESTRICT (2) RECOGNIZE
(3) CONSTRUCTED (4) STRUCTURE (1)

25. विषम का चयन कीजिए जो समूह से सम्बन्धित नहीं है :

- (1) भयादोहन (2) तस्करी
(3) अभिमान (4) धोखाधड़ी (3)

26. अकबर ने एक तस्वीर की ओर संकेत किया और कहा "वह मेरे साले के पिता के भाई की इकलौती भतीजी है।" वह अकबर से कैसे सम्बन्धित है?

- (1) बेटा (2) बहन
(3) भाभी (Sister-in-Law) (4) पत्नी (4)

27. मेरे भाई के पिता जी के पिता जी की बेटा की बेटा मेरे साथ कैसे संबंधित है?

- (1) नन्द (2) बहन
(3) चाची (4) चचेरी बहन (4)

28. निम्नलिखित संख्या श्रेणी में प्रश्नसूचक चिह्न के स्थान पर कौनसी संख्या आएगी?

2, 4, 6, 10, 14, (?)

- (1) 22 (2) 16
(3) 26 (4) 20 (4)

29. ? चिह्न के स्थान की पूर्ति कीजिए-

AB, BA, ABC, CBA, ABCD, ?

- (1) CABD (2) DCBA
(3) BACD (4) DABC (2)

30. अक्षर श्रृंखला

A R E N I J M ?

में लुप्त अक्षर है-

- (1) V (2) H
(3) G (4) F (4)

31. अक्षरों की निम्नलिखित श्रेणी में लुप्त अक्षर क्या है?

bdabcdbdabcd_dabcdb_abcdbd_

- (1) bcd (2) bda
(3) dbc (4) cda (2)

32. निम्नलिखित श्रेणी में अगला पद क्या है?

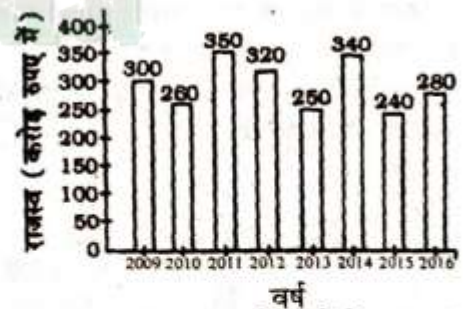
2, 15, 41, 80, ?

- (1) 120 (2) 121
(3) 132 (4) 111 (3)

33. यदि एक विशिष्ट कोड में, शब्द CLOCK को KCOLC के रूप में कोड किया जाता है, तो उसी कोड में REMESHA के लिए शब्द का पहला और अंतिम अक्षर क्या होगा ?

- (1) AM (2) A, R
(3) R, A (4) H, E (2)
34. किसी भाषा में FRAMES को IUDPHV लिखा जाता है। शब्द PHOTOS को इसी भाषा में किस प्रकार लिखा जायेगा ?
(1) SKRWRV (2) SKWIRVIR
(3) KSRWRT (4) SKQUQV (1)
35. किसी भाषा में CODING को BNCHMF लिखा जाता है। शब्द NUMBER को इसी भाषा में किस प्रकार से लिखा जायेगा ?
(1) LSKADQ (2) PWODIGT
(3) OVNCFS (4) MTLADQ (4)
36. आपको A से लेकर Z तक की वर्णमाला दी गई है। G और U के एकदम बीच में आने वाला अक्षर कौनसा है ?
(1) N (2) L
(3) M (4) O (1)
37. यदि शब्द DISTRIBUTE के पहला तथा दूसरा अक्षर, तीसरा एवं चौथा, पाँचवाँ एवं छठा इस प्रकार आगे भी आपास में स्थान बदल लें तो दायें से पाँचवाँ अक्षर कौनसा है ?
(1) R (2) I
(3) T (4) B (1)
38. विषम का चयन कीजिए जो समूह से सम्बन्धित नहीं है :
(1) गैलन (2) टन
(3) क्विंटल (4) किलोग्राम (1)
39. बेमेल का चयन कीजिए-
(1) सत्र (2) माह
(3) सप्ताह (4) पखवाड़ा (1)
- निर्देश- वर्णों को एक जोड़ी दी गयी है। उस जोड़ी का चयन करें जो कि दी हुई जोड़ी से समान संबंध दिखाती है।
40. ABC7 : DEF6 :: ?
(1) TXY3 : YZW4 (2) PQR5 : STU4
(3) JKL3 : MNO4 (4) TUV8 : WXZ7 (2)
41. 2A3B : 4C5D :: ?
(1) 4E5G : 6I7K (2) 4L5M : 6P7Q
(3) 3P4Q : 5R6S (4) 7P6Q : 5R4S (3)
42. ACE95 : BDF85 :: ?
(1) PRT48 : QSU58 (2) LNP66 : MOR56
(3) TUW49 : XYZ59 (4) EGI37 : FHJ27 (4)
- निर्देश- दी हुई जानकारी को ध्यानपूर्वक पढ़िए और पूछे गए प्रश्नों के उत्तर दीजिए।
A, B, C, D, E, F और G उत्तर की ओर मुख करके एक सीधी रेखा में खड़े हैं किन्तु यह आवश्यक नहीं है कि इसी क्रम में। सभी के मध्य-समान दूरी है। इनमें से प्रत्येक अलग-अलग व्यवसायी, अभिनेता, रिपोर्टर, डॉक्टर, इंजीनियर, वकील, शिक्षक तथा चित्रकार हैं परन्तु यह आवश्यक नहीं है कि इसी क्रम में हों। G, C के बाएँ पाँचवाँ है। रिपोर्टर G के दाएँ तीसरा है। F, A के दाएँ पाँचवाँ है। E, B के बाएँ दूसरा है। इंजीनियर, D के बाएँ दूसरा है। इंजीनियर और चित्रकार के मध्य केवल तीन व्यक्ति हैं। डॉक्टर, इंजीनियर के तुरन्त बाएँ है। वकील, शिक्षक के तुरन्त दाएँ है।

43. A का व्यवसाय कौनसा है?
(1) चित्रकार (2) डॉक्टर
(3) शिक्षक (4) अभिनेता (2)
44. निम्न में से कौनसा अभिनेता है?
(1) E (2) F
(3) C (4) B (3)
45. चित्रकार के सन्दर्भ में D की स्थिति क्या है?
(1) बाएँ को तीसरा (2) दाएँ को दूसरा
(3) दाएँ को चौथा (4) बाएँ को दूसरा (4)
46. खड़े होने की व्यवस्था के आधार पर निम्नलिखित पाँच में से चार किसी प्रकार एक समान हैं, इसलिए उनका एक समूह बनता है। निम्न में से वह कौन-सा है जो इस समूह में नहीं आता?
(1) AED (2) DFC
(3) GDB (4) BFC (4)
47. मैसर्स आर. के कंपनी ने 1400 रुपये का माल खरीदा, उसने 1% चुंगी, 31 रुपये टूक भाड़ा और 5 रु. मजदूरी के चुकाए। यदि उसने इस माल को 1537 रु. में बेच दिया हो, तो व्यापारी को लाभ होगा-
(1) 1537-(1400+14+31+5) रु.
(2) 1537-(1400+1+31+5) रु.
(3) (1537-1400) रु.
(4) (1437+14+31+5)-1537 रु. (1)
48. साधारण ब्याज दर पर कोई राशि 16 वर्षों में दुगुनी हो जाती है, तो कितने वर्षों में तिगुनी हो जायेगी?
(1) 25 वर्ष (2) 32 वर्ष
(3) 48 वर्ष (4) 64 वर्ष (2)
- निर्देश : नीचे दिए गए दण्ड चित्र में एक फर्म के 8 वर्षों के राजस्व को दर्शाया गया है। राजस्व के सभी आँकड़े करोड़ रुपए में दर्शाए गए हैं।



49. वर्ष 2010, 2011 तथा 2012 में फर्म के राजस्व का कुल मान (करोड़ रुपए में) क्या है?
(1) 910 (2) 930
(3) 950 (4) 1020 (2)
50. वर्ष 2010 में गत वर्ष की तुलना में फर्म के राजस्व में कितने प्रतिशत की कमी हुई?
(1) 15.38 (2) 14.44
(3) 11.11 (4) 13.33 (4)

भाग-ब : सामान्य ज्ञान राजस्थान

51. आमेर में कछवाहा राजवंश की स्थापना किसके द्वारा की गई?
 (1) दूल्हेराय (2) भारमल
 (3) सवाई जयसिंह (4) सवाई प्रताप सिंह (1)
52. गोड़वाड़ प्रदेश को कहा जाता है-
 (1) लूनी- जवाई बेसिन (2) घग्घर का मैदान
 (3) चम्बल बेसिन (4) काली सिंध बेसिन (1)
53. पुजी शरीर के किस भाग का आभूषण है-
 (1) कान (2) नाक
 (3) गला (4) मस्तक (1)
54. निम्न में से कौनसा 'अंगरखी' का उपनाम है?
 (1) तनसुख, दुंतई, गाभा (2) गदर, मिरजाई, डोढी
 (3) कानो, उगला (4) उपर्युक्त सभी (4)
55. राजस्थान में सिक्खों का सबसे बड़ा गुरुद्वारा कहाँ स्थित है?
 (1) बुद्धा जोहड़ (गंगानगर) (2) सांगानेर (जयपुर)
 (3) रौंगस (सीकर) (4) देशनोक (बीकानेर) (1)
56. गरुड़ मेला कहाँ व कब आयोजित होता है-
 (1) झालरापाटन (झालावाड़) - कार्तिक माह
 (2) डींग (भरतपुर) - कार्तिक माह
 (3) बंशी पहाड़पुर (भरतपुर) - कार्तिक माह
 (4) रूपवास (भरतपुर) - आश्विन माह (3)
57. पाबूजी का जन्म स्थल कोलू गाँव (फलीदी) किस जिले में स्थित है?
 (1) डूंगरपुर (2) जोधपुर
 (3) जयपुर (4) नागौर (2)
58. निम्न में से किसे नगाड़े का जादूगर माना जाता है जिसका जन्म अजमेर में हुआ?
 (1) पी. सुन्दर (2) रामकिशन
 (3) गौरराम (4) चौथमल (2)
59. किसी वंश अथवा व्यक्ति विशेष की उपलब्धियों के स्वरूप को दर्शाने वाली काव्य कृतियों को किस नाम से जाना जाता है?
 (1) कुवक (2) मिथक
 (3) रूपक (4) मणमाढेरी (3)
60. 18 मार्च, 1948 को मत्स्य संघ का उद्घाटन समारोह किस दुर्ग में हुआ था?
 (1) लोहागढ़ दुर्ग (2) शेरगढ़ दुर्ग
 (3) मेहरानगढ़ दुर्ग (4) गागरोण दुर्ग (1)
61. निम्नलिखित किसान आंदोलनों को उनकी शुरुआत के सही वर्ष के अनुसार आरोही क्रम में रखते हुए, सही उत्तर का चयन कीजिये-
 (A) जयपुर किसान आन्दोलन (B) ब्रिजौलिया कृषक आन्दोलन
 (C) बेंगू का किसान आन्दोलन (D) नीमूचाणा आंदोलन
 (1) (B), (C), (A), (D) (2) (C), (B), (A), (D)
 (3) (A), (C), (D), (B) (4) (A), (B), (D), (C) (1)
62. चंदन काष्ठ शिल्प के जनक कौन हैं?
 (1) किशनगढ़ जोशी (बीकानेर) (2) महेश जांगिड़ (अलवर)
 (3) मालचंद जांगिड़ (चूरू) (4) दिनेश सैनी (जयपुर) (3)
63. परचा बावड़ी कहाँ स्थित है-
 (1) रामदेवरा में (2) ददरेवा में
 (3) कोलूमंड में (4) खरनाल में (1)
64. भरतपुर किले के संदर्भ में कौनसा कथन सत्य है-
 (1) किले के चारों तरफ खाई बनी हुई है।
 (2) यह एक पारिख दुर्ग का उदाहरण है।
 (3) (1) व (2) दोनों
 (4) इनमें से कोई नहीं (3)
65. किशनगढ़ शैली की प्रमुख विशेषता है-
 (1) नारी सौन्दर्य (2) केले के गाछ
 (3) उपर्युक्त दोनों (4) इनमें से कोई नहीं (3)
66. सहाय दुर्ग का उदाहरण है-
 (1) चित्तौड़ दुर्ग (2) जालौर दुर्ग
 (3) सिवाना दुर्ग (4) उपर्युक्त सभी (4)
67. राजस्थान के उद्यान - कृषि विभाग ने जहाँ कृषि-पारिस्थितिकी पर्यटन एवं अंतर्राष्ट्रीय पुष्प अनुसंधान केंद्र विकसित करने की योजना बनाई है?
 (1) माउंट आवू (2) जोबनेर
 (3) पुष्कर (4) जयपुर (1)
68. 'चूवा-चंदन' व 'स्प्रे-पेंटिंग' की साड़ियाँ मशहूर हैं?
 (1) जयपुर की (2) जोधपुर की
 (3) नाथद्वारा की (4) उपर्युक्त सभी की (3)
69. भारत का स्वागत करने के बाद उसे भोजन करवाना कहलाता है?
 (1) कलेवा (2) कुंआरी जान का भात
 (3) कोथला (4) इनमें से कोई नहीं (2)
70. सन्त दादू की रचनाएँ हैं?
 (1) मेवाड़ी में (2) दूंडाड़ी में
 (3) हाड़ौती में (4) इनमें से कोई नहीं (2)
71. फूलों की होली कहाँ की प्रसिद्ध है ?
 (1) गोविन्द देव जी (जयपुर) (2) नाथद्वारा (राजसमंद)
 (3) भिनाय (अजमेर) (4) आहोर (जालौर) (1)
72. अखिल भारतीय देशी राज्य लोक परिषद् की अपील पर सभी रियासतों के प्रजामण्डलों में 'रियासती दिवस' मनाया गया-
 (1) 19 अप्रैल, 1942 (2) 19 फरवरी, 1942
 (3) 30 मार्च, 1943 (4) 28 फरवरी, 1942 (1)
73. किस सुषिर वाद्य यंत्र में चार छेदों वाली दो बांसुरी होती है-
 (1) अलगोजा (2) शहनाई
 (3) बांसुरी (4) पुंगी (1)
74. स्वतंत्रता संग्राम में राजस्थान के प्रथम अमर शहीद अमरचन्द बाठिया के संबंध में सत्य कथन है-
 (1) बाठियाजी को 22 जून, 1858 ई. को ग्वालियर में सरफा बाजार में नीम के पेड़ पर लटककर सार्वजनिक रूप से फाँसी दी गई थी।
 (2) इनके बारे में 'राजस्थान स्वर्ण जयन्ती प्रकाशन समिति' प्रकाशन कर रही है।
 (3) (1) व (2) दोनों
 (4) इनमें से कोई नहीं (3)
75. राजस्थान में सीमेन्ट उत्पादन के प्रमुख जिले हैं-
 (1) बून्दी, चित्तौड़गढ़, कोटा, सिरौही एवं उदयपुर

- (2) चित्तौड़गढ़, उदयपुर, प्रतापगढ़ एवं बाँसवाड़ा
(3) सिरौही, कोटा, डूंगरपुर एवं बाँसवाड़ा
(4) कोटा, बून्दी, टोंक एवं भीलवाड़ा (1)

76. राजस्थान अपने स्वविवेकी कृत्यों को छोड़कर अपने कृत्यों का निर्वहन की सहायता और सलाह से करेगा-

- (1) मुख्यमंत्री (2) मुख्यमंत्री एवं मंत्रिपरिषद्
(3) मंत्रिमण्डल (4) मुख्यमंत्री एवं मंत्रिमण्डल (2)

77. राजस्थान में अनुसूचित जनजाति जनसंख्या का द्वितीय स्थान पर सर्वाधिक प्रतिशत है (2011)-

- (1) बाँसवाड़ा जिले में (2) प्रतापगढ़ जिले में
(3) डूंगरपुर जिले में (4) दौसा जिले में (3)

78. कौन राजस्थान में मंत्रिपरिषद् के बैठक का स्थान और समय निर्दिष्ट करता है?

- (1) मुख्य सचेतक (2) मुख्यमंत्री
(3) संसदीय कार्य मंत्री (4) राज्यपाल (2)

79. जनकपुरा और सरवाड़ खानें जिस खनिज के उत्पादन के लिए जानी जाती है, वह है?

- (1) पन्ना (2) तामड़ा
(3) पाइराइट (4) बेराइट्स (2)

80. 1874 में आगरा किला (उत्तर प्रदेश) और राजस्थान के किस स्टेशन के बीच पहली रेल चलाई गई थी?

- (1) जयपुर (2) जोधपुर
(3) बाँदीकुई (दौसा) (4) कोटा (3)

81. सुपेलित कीजिये तथा नीचे दिये गये कूटों में से गलत जोड़े का उत्तर का चुनाव कीजिए-

[उद्योग]

[अवस्थिति]

- (1) सीमेन्ट - मोडक
(2) उर्वरक - गढ़पान
(3) ग्लास (काँच) - लीलवानी
(4) ताँबा - खेतड़ी (3)

82. राजस्थान में 'वालरा' कृषि का एक प्रकार है?

- (1) स्थानांतरित कृषि (2) शुष्क कृषि
(3) आर्द्र एवं शुष्क कृषि (4) पर्वतीय कृषि (1)

83. निम्नलिखित को सुपेलित कीजिये तथा नीचे दिये गये कूटों में से सही उत्तर का चुनाव कीजिए-

[पशु]

[नस्ल]

- (A) ऊँट (i) राठी
(B) भेड़ (ii) बीकानेरी
(C) बकरी (iii) मगरा
(D) गाय (iv) झखराना

- कूटः
(A) (B) (C) (D)
(1) i ii iii iv
(2) ii iii i iv
(3) ii iii iv i
(4) iv iii ii i (3)

84. राजस्थान में निम्नलिखित में से किस प्रकार के वन 75 से 110 सेमी औसत वार्षिक वाले क्षेत्रों में पाये जाते हैं?

- (1) उष्णकटिबन्धीय कंटीले वन तथा झाड़ियाँ
(2) मिश्रित पतझड़ वन
(3) शुष्क वन (4) शुष्क सागवान वन (4)

85. राजस्थान में किन जिलों में 'लाल लोम' (Red Loam) मृदा पाई जाती है?

- (1) उदयपुर-कोटा (2) भीलवाड़ा-अजमेर
(3) बाँसवाड़ा-डूंगरपुर (4) जयपुर-दौसा (3)

86. राजस्थान के किस भाग में सर्वाधिक वर्षा की परिवर्तिता पाई जाती है?

- (1) सुदूर पश्चिमी भाग (2) उत्तर-पूर्वी भाग
(3) दक्षिणी भाग (4) उत्तरी भाग (1)

87. मुकुन्दरा पहाड़ियाँ मुख्यतः किस जिले में फैली हैं ?

- (1) जयपुर जिला (2) बाँसवाड़ा जिला
(3) कोटा जिला (4) अलवर जिला (3)

88. किस परियोजना में राजस्थान में प्रथम बार फव्वारा सिंचाई पद्धति को अनिवार्य रूप से लागू किया गया?

- (1) इन्दिरा गाँधी नहर परियोजना (2) नर्मदा नहर परियोजना
(3) सिद्धमुख नहर परियोजना (4) चंबल नहर परियोजना (2)

89. बीसलपुर बाँध किस नदी पर स्थित है?

- (1) काली सिंध (2) बनास
(3) जाखम (4) लूनी (2)

90. असधारा निराधारा निरालम्ब सरस्वती, पंडित खण्डिता ।। यह उक्ति किस परमार शासक से जुड़ी हुई है?

- (1) भोज (2) वाक्यति मुंज
(3) हलायुध (4) लक्ष्मीकर्ण (1)

91. वर्तमान में राजस्थान में 10 संभाग हैं, निम्नलिखित में से कौनसा उनमें शामिल नहीं है?

- (1) सीकर (2) भरतपुर
(3) शेखावाटी (4) अजमेर (3)

92. राजस्थान के नवगठित जिलों में से कौनसा जिला शामिल नहीं है?

- (1) अनूपगढ़ (2) दूदू
(3) डींग (4) देवली (4)

93. राजस्थान के सर्वाधिक जिलों की सीमा किस पड़ोसी राज्य से लगती है?

- (1) हरियाणा (2) गुजरात
(3) पंजाब (4) मध्य प्रदेश (4)

94. मध्य प्रदेश से राजस्थान के कितने जिलों की सीमा लगती है?

- (1) 10 (2) 8
(3) 9 (4) 11 (1)

95. वर्तमान में राजस्थान का कौनसा संभाग सबसे छोटा (जिलों की संख्या में) है?

- (1) पाली (2) कोटा
(3) सीकर (4) बाँसवाड़ा (4)

52. राजस्थान के निम्नलिखित जिलों का दक्षिण से उत्तर की ओर क्रम कौनसा होगा?

- (1) व्यावर (2) साँचौर
(3) बालोतरा (4) अनूपगढ़

- (1) (a)-(b)-(c)-(d) (2) (b)-(c)-(a)-(d)
 (3) (d)-(c)-(b)-(a) (4) (c)-(b)-(a)-(d) (2)
43. राजस्थान के निम्नलिखित जिलों में से किन जिलों की सीमा केवल एक पड़ोसी जिले से लगती है?
 (1) जयपुर, डींग (2) जयपुर, जोधपुर
 (3) कोटपुतली-बहरोड (4) सौचोर, अनूपगढ़ (2)
44. वर्तमान में राजस्थान में आन्तरिक जिलों की संख्या कितनी है?
 (1) 20 (2) 21
 (3) 22 (4) 23 (3)
45. आचार्य तुलसी का जन्म स्थान कौनसा है?
 (1) लाडनू (2) पुष्कर
 (3) ब्यावर (4) फतेहपुर (1)
46. सहरिया जनजाति के लोग अधिकतम किस जिले में पाये जाते हैं?
 (1) बारौ (2) उदयपुर
 (3) कोटा (4) जोधपुर (1)
100. राजस्थान का अमरनाथ कहा जाता है-
 (1) पाली जिले के सादड़ी कस्बे के पास गुफा में स्थित परशुराम महादेव मंदिर
 (2) वेणेश्वर महादेव का मन्दिर, झुंजरपुर
 (3) हर्बनाथ का मन्दिर, सीकर
 (4) इनमें से कोई नहीं (1)

भाग-स (शिक्षण अभिक्षमता)

101. एक शिक्षक के रूप में आप किस स्थान पर शिक्षण करना पसन्द करेंगे?
 (1) अपने गाँव के स्कूल में
 (2) अपने जनपद के उस स्कूल में जहाँ सम्पन्न परिवारों के बच्चे पढ़ते हैं।
 (3) जहाँ के प्रधानाध्यापक आपके परिचित हों।
 (4) किसी भी ऐसी पाठशाला में जहाँ पढ़ने-पढ़ाने का वातावरण हो। (4)
102. 'आधारभूत शिक्षा' से अभिप्राय है-
 (1) न्यूनतम अधिगम (2) किसी भी अधिगम का आधार
 (3) शिक्षण पद्धति (4) घटिया अधिगम (2)
103. टैगोर का शान्ति निकेतन को प्रभावित करने वाला विचार था?
 (1) हम सब समान हैं (2) प्रकृति सबसे अच्छी मित्र है
 (3) विद्यालय के लिए भवन हो (4) अनुशासन नहीं होना चाहिए (2)
104. तीन भाषाएँ पढ़ाने के लिए, निम्नलिखित में से शिक्षा का कौन-सा स्तर उपयोगी है?
 (1) निम्नतर प्राथमिक स्तर (2) उच्चतर प्राथमिक स्तर
 (3) माध्यमिक स्तर (4) उच्च माध्यमिक स्तर (2)
105. शिक्षण के अन्वेषण विधि का प्रवर्तक कौन था?
 (1) प्रो. आर्मस्ट्रॉंग (2) हर्बर्ट स्पेन्सर
 (3) जॉन एडम्स (4) मुनरो (1)
106. महात्मा गाँधी ने बेसिक शिक्षा की धारणा का प्रयोग सबसे पहले कहाँ किया था?
 (1) शांति निकेतन में (2) सेवाग्राम में
 (3) टॉलस्टॉय में (4) नौआखली में (3)

107. स्कूलों में विभिन्न कक्षाओं में प्रवेश देने हेतु आरक्षण का आधार होना चाहिए -
 (1) विद्यार्थी का अशिक्षित एवं पिछड़ा परिवारिक परिवेश
 (2) विद्यार्थी की खराब आर्थिक स्थिति
 (3) विद्यार्थी की जाति व धर्म
 (4) 1 और 2 दोनों (4)
108. एक शिक्षक को अन्य दायित्व इसलिए लेने चाहिए क्योंकि-
 (1) इससे शिक्षार्थियों में लोकप्रिय बनते हैं
 (2) इससे प्रशंसन को सहयोग मिलता है
 (3) इससे नए अनुभव प्राप्त होते हैं
 (4) इससे प्राचार्य खुश रहते हैं (3)
109. त्रिभाषा फार्मूला का अर्थ है-
 (1) अंग्रेजी, हिन्दी/उर्दू और राजभाषा
 (2) मातृभाषा, प्रादेशिक भाषा और अंग्रेजी
 (3) प्रादेशिक भाषा, संघीय भाषा और अंग्रेजी
 (4) अंग्रेजी, हिन्दी और संस्कृत/फारसी (3)
110. यदि आपके घरवालों को आपका शिक्षक बनना पसन्द नहीं है, तो आप-
 (1) उनकी इच्छानुसार कोई दूसरा व्यवसाय चुनेंगे।
 (2) शिक्षण कार्य के पक्ष में दलील देंगे।
 (3) शिक्षक बनने का विचार छोड़ देंगे।
 (4) घरवालों को कोई परवाह नहीं करेंगे। (2)
111. गाँधीजी ने बेसिक शिक्षा में सार्थक सृजनात्मक क्रिया को बहुत महत्व दिया है। निम्नलिखित में से किसको सार्थक सृजनात्मक क्रिया कहा जा सकता है?
 (1) मिट्टी के खिलौने बनाना (2) कढ़ाई
 (3) रंगसाजी (4) उपर्युक्त सभी (4)
112. "शिक्षा से मेरा तात्पर्य बालक तथा व्यक्ति के शरीर, मन व आत्मा के सम्पूर्ण विकास से है।" उपरोक्त कथन है-
 (1) डॉ. राधाकृष्णन (2) पेस्टालॉजी
 (3) महात्मा गाँधी (4) जॉन डीवी (3)
113. शिक्षक संगठन का दायित्व होना चाहिए-
 (1) सरकार पर दबाव डालना
 (2) शिक्षकों तथा सरकार के बीच मध्यस्थ बनकर काम करना
 (3) हड़तालों एवं रैलियों का आयोजन करना
 (4) शिक्षकों की समस्याओं पर विचार करना तथा उन्हें दूर करने का प्रयास करना (4)
114. कोई विद्यार्थी यदि शिक्षक के निरन्तर प्रयास के बावजूद बार-बार कक्षा में अनुत्तीर्ण हो रहा है तो इसका सम्भावित कारण हो सकता है-
 (1) विद्यार्थी का उद्वेग होना
 (2) अभिभावकों का उस पर ध्यान न देना
 (3) विद्यार्थी की बुद्धि औसत से बहुत नीचे होना
 (4) उपरोक्त सभी (2)
115. पत्र-पत्रिकाएँ पढ़ने से-
 (1) अध्ययन की आदत विकसित होती है।
 (2) समसामयिक विषयों एवं घटनाओं की जानकारी प्राप्त होती है।
 (3) 1 एवं 2 दोनों
 (4) इनमें से कोई नहीं (3)

116. आप एक प्रभावी शिक्षक के लिए यह आवश्यक नहीं मानते हैं-
- (1) वह विषय को रोचक बनाता हो।
 - (2) वह उत्तम वक्ता हो
 - (3) वह केवल दण्ड देने वाला हो
 - (4) वह सुजनशील हो
- (3)
117. आपके विचार में शिक्षा क्या है?
- (1) एक राष्ट्रीय कर्तव्य
 - (2) समाज सुधार का साधन एवं माध्यम
 - (3) साक्षर बनाने का साधन
 - (4) मानव का संस्कार रूपी आवरण
- (2)
118. कहा जाता है कि "शिशु एक कोरी स्लेट होता है।" इसका क्या अर्थ है?
- (1) उसका दिमाग बिल्कुल खाली होता है।
 - (2) शिशु अबोध होता है।
 - (3) शिशु में द्वेष-भाव नहीं होता।
 - (4) इसे इच्छानुसार गढ़ा (बनाया) जा सकता है।
- (4)
119. मॉन्टेसरी शिक्षण विधि का सैद्धांतिक आधार है कि-
- (1) खेल बालक के शिक्षण में सहयोगी है।
 - (2) बालक को मनमाने खेल की पूर्ण स्वाधीनता है।
 - (3) बालक को अपनी रुचियों की अभिव्यक्ति की स्वाधीनता
 - (4) बालक को शिक्षक से प्रेरणा प्राप्त करना।
- (3)
120. कक्षा शिक्षण की विश्लेषणात्मक विधि (Analytic Method) के अधीन विद्यार्थी-
- (1) दो ज्ञात तथ्यों की तुलना करता है।
 - (2) अज्ञात से ज्ञात की ओर बढ़ता है।
 - (3) ज्ञात से अज्ञात की ओर बढ़ता है।
 - (4) दो ज्ञात तथ्यों का विश्लेषण करता है।
- (2)
121. केवल एक शिक्षक वाले स्कूलों में सबसे कठिनाई की बात तब पैदा हो जाती है-
- (1) जब शिक्षक विद्यार्थियों की पसन्द का न हो
 - (2) जब शिक्षक लम्बी छुट्टी पर चला जाए
 - (3) जब विद्यार्थी अनुशासनहीन हो जाएँ
 - (4) जब स्कूल का समय विद्यार्थियों के अनुकूल न हो
- (2)
122. बुनियादी शिक्षा का आधार आर्थिक है-
- (1) इसमें शिक्षा का आधार अधिक है
 - (2) इसमें पाठ्य-विषयों की अपेक्षा विद्यार्थी को प्रधानता दी जाती है
 - (3) इसमें हस्तशिल्प को प्रधानता दी जाती है
 - (4) इसमें ज्ञानेन्द्रियों की शिक्षा दी जाती है
- (2)
123. राष्ट्रीय प्रौढ़ शिक्षा कार्यक्रम की शुरुआत की गई थी-
- (1) वर्ष 1964 में
 - (2) वर्ष 1972 में
 - (3) वर्ष 1978 में
 - (4) वर्ष 1986 में
- (3)
124. क्या अभिभावक को अपने बच्चों को गृहकार्य करवाने में सहयोग देना चाहिए?
- (1) हाँ, इससे अभिभावकों को अपने बच्चों की प्रगति का पता चलता रहेगा।
 - (2) नहीं, यह अभिभावकों पर अतिरिक्त बोझ है।
 - (3) नहीं, बच्चों को गृहकार्य स्वयं करना चाहिए।
 - (4) हाँ, इससे बच्चे गृहकार्य अवश्य करके लायेंगे।
- (1)
125. आप कक्षा में पढ़ा रही हैं, उस समय आचार्या द्वारा बुलाए जाने पर आप-
- (1) एक स्लिप पर परिस्थिति लिखकर भेजेंगी।
 - (2) स्पष्ट मना कर देंगी।
 - (3) तुरन्त उनके पास चल देंगी।
 - (4) घण्टा समाप्त के बाद ही जायेंगी।
- (1)
126. भारत में प्रौढ़ शिक्षा कार्यक्रमों की विफलता का कारण है-
- (1) अनुदेशकों एवं अन्य कार्यकर्ताओं की लापरवाही
 - (2) प्रौढ़ों के लिए किसी अतिरिक्त अभिप्रेरणा की व्यवस्था का न होना।
 - (3) उचित निगरानी का अभाव
 - (4) उपरोक्त सभी
- (4)
127. एक शिक्षक का निजी जीवन-
- (1) पद की गरिमा के अनुरूप होना चाहिए।
 - (2) स्कूल के मानकों के अनुरूप होना चाहिए।
 - (3) चाहे जैसा हो इससे अन्तर नहीं पड़ता।
 - (4) गम्भीर और दिखावापूर्ण होना चाहिए।
- (1)
128. मुझे सबसे अधिक परेशानी महसूस होती है-
- (1) जीवन के मूल्यों में गिरावट से
 - (2) अपने प्रधानाचार्य से
 - (3) विद्यार्थियों से
 - (4) अभिभावकों की उदासीनता से
- (1)
129. आजकल के आवासीय स्कूलों की तरह ही भारतीय पद्धति के स्कूल थे?
- (1) आश्रम
 - (2) मदरसे
 - (3) मकतब
 - (4) गुरुकुल
- (4)
130. एक तीन वर्ष के बालक के लिए निम्नलिखित दण्ड पर्याप्त होगा?
- (1) उसे दण्ड का भय प्रदान करना
 - (2) उसे पिता का भय दिखाना
 - (3) उसे माता की उपेक्षा का भय दिखाना
 - (4) शारीरिक कष्ट पहुंचाने की सम्भावना व्यक्त करना
- (3)
131. खेल विधि से शिक्षा देने वाले स्कूलों में शिक्षा-
- (1) पर कोई व्यय नहीं होता
 - (2) बहुत महँगी पड़ती है।
 - (3) देने वाले शिक्षक की भूमिका समाप्त हो जाती है।
 - (4) पर्यावरण का एक भाग बन जाती है।
- (4)
132. 15-35 आयु वर्ग के निरक्षर लोगों को साक्षर बनाने हेतु कौनसा कार्यक्रम है?
- (1) अप्रेशन ब्लैकबोर्ड
 - (2) अनौपचारिक शिक्षा कार्यक्रम
 - (3) राष्ट्रीय साक्षरता मिशन
 - (4) नवोदय विद्यालय
- (3)
133. विद्यालयों के विकास हेतु क्या कदम उठाया जाना चाहिए?
- (1) कर्मचारियों का विकास किया जाना चाहिए।
 - (2) बच्चों व अभिभावकों को वरीयता दी जानी चाहिए।
 - (3) अच्छे प्राचार्य एवं शिक्षक का चयन किया जाना चाहिए।
 - (4) भवन व वातावरण को सुन्दर बनाया जाना चाहिए।
- (3)
134. आप यदि सहशिक्षा स्कूल में पढ़ाते हैं तो आप-
- (1) सब पर समान रूप से ध्यान देंगे।
 - (2) मेधावी लड़कियों पर अधिक ध्यान देंगे।
 - (3) लड़कों पर अधिक धन देंगे।
 - (4) सभी लड़कियों पर समान रूप से अधिक ध्यान देंगे।
- (1)
135. शिक्षक की दैनिक दिनचर्या का अंग होता है-
- (1) अवकाश के दिनों में धार्मिक स्थलों पर समय व्यतीत करना।

- (2) विद्यार्थियों में अधिगम की दर को बढ़ाने के लिए निरन्तर चिंतनशील रहना और कक्षा में निरन्तर नवीन प्रयोग करना।
 (3) नित्य-प्रति वाचनालय जाना तथा पत्र-पत्रिकाओं का अनवरत अध्ययन करना।

- (4) 2 एवं 3 दोनों (4)
 शिक्षिका बनने के उपरान्त किसी प्रतिष्ठित समाज में सम्मिलित होने के अवसर पर आप-

- (1) वहाँ से हट जायेंगी।
 (2) यह बताने में संकोच करेगी कि आप एक शिक्षिका हैं।
 (3) आपको यह बताने में गर्व होगा कि आप एक शिक्षिका हैं।
 (4) यह कहना चाहेंगी कि आप प्रशासनिक सेवा में हैं। (3)

भारत में सतत मूल्यांकन प्रणाली स्कूलों में लागू न होने का कारण है?

- (1) प्रधानाचार्यों का शिक्षा विभाग के बंधे नियमों पर चलना
 (2) योजनाबद्ध शिक्षण का न होना
 (3) सरकार के शिक्षा के प्रति उदासीनता
 (4) 1 एवं 2 दोनों (4)

इस समय शिक्षा का विषय-

- (1) किसी भी सूची में नहीं है। (2) संघ सूची में है।
 (3) समवर्ती सूची में है। (4) राज्य सूची में है। (3)

विद्यालय में सभी शिक्षकों को समय पर आना चाहिए। इससे-

- (1) विद्यालय में अनुशासन कायम हो सकेगा।
 (2) विद्यालय के सभी कार्यक्रम समय पर हो सकेंगे।
 (3) विद्यार्थियों में अच्छी आदतों का विकास हो सकेगा।
 (4) उपर्युक्त सभी (4)

आपके विचार में शिक्षण-अधिगम प्रक्रिया का सर्वाधिक महत्वपूर्ण घटक है?

- (1) शिक्षक (2) कक्षा-वातावरण
 (3) विद्यार्थी (4) अधिगम-सामग्री (2)

प्रायः सामाजिक समायोजन का कठिन काल कहा जाता है?

- (1) पूर्व-किशोरावस्था के लड़कों के सन्दर्भ में
 (2) उत्तर-किशोरावस्था के लड़कों के सन्दर्भ में
 (3) पूर्व-किशोरावस्था की लड़कियों के सन्दर्भ में
 (4) पूर्व-किशोरावस्था के दोनों लिंगों के सन्दर्भ में (4)

आपकी दृष्टि में अच्छे स्कूलों की स्थापना की जानी चाहिए-

- (1) नगर के बाहर
 (2) दूर-दराज के ग्रामीण क्षेत्रों में
 (3) घनी कॉलोनियों के बीच में ताकि स्कूल को अधिक विद्यार्थी मिल सकें।
 (4) प्राकृतिक वातावरण में (4)

अन्य व्यवसायों की अपेक्षा शिक्षण कार्य महिलाओं के लिए अधिक उपयुक्त है क्योंकि-

- (1) इसमें ट्यूशन आदि के माध्यम से पैसा बहुत है।
 (2) इसमें अवकाश बहुत मिलते हैं।
 (3) इसमें नारी को सम्मान भी मिलता है और उसके साथ किसी प्रकार के दुर्व्यवहार की सम्भावना भी बहुत कम हो जाती है।
 (4) इसमें काम कम घण्टे करना पड़ता है। (3)

डीवी के अनुसार शिक्षक एक-

- (1) सैद्धांतिक आवश्यकता है।
 (2) सामाजिक आवश्यकता है।

- (3) वैयक्तिक आवश्यकता है।
 (4) मनोवैज्ञानिक आवश्यकता है। (4)

145. नर्सरी स्कूलों की शुरूआत किसने की थी?

- (1) जॉन डीवी (2) प्रोबेल
 (3) डाल्टन (4) एनी बेसेन्ट (2)

146. बुद्धिलब्धि परीक्षण (I.Q. Testing) आन्दोलन का अग्रदूत कौन था?

- (1) एडलर (2) अल्फ्रेड विनेट
 (3) प्रोबेल (4) मारिया मॉन्टेसरी (2)

147. पठन-पाठन विधि के निम्नलिखित में से किस चरण पर शिक्षक को सबसे अधिक समय देना चाहिए?

- (1) सामान्यीकरण (2) तैयारी
 (3) प्रस्तुतीकरण (4) तुलना (3)

148. शिक्षण कार्य-

- (1) बहुत-से शिक्षक भी नहीं कर पाते।
 (2) हर व्यक्ति कर सकता है।
 (3) पढ़ा-लिखा व्यक्ति ही कर सकता है।
 (4) हर व्यक्ति के वश का नहीं। (4)

149. भारतीय समाज के परिप्रेक्ष्य में शिक्षण एक चुनौती से भी अधिक है-

- (1) साम्प्रदायिक द्वेष के कारण
 (2) धर्मान्धता एवं विवेकहीनता के कारण
 (3) जातीय विभेद के कारण
 (4) उपर्युक्त सभी (2)

150. शिक्षक आचार संहिता है-

- (1) शिक्षकों को नैतिकता का पाठ पढ़ाने वाली पुस्तिका
 (2) शिक्षण कार्यों का सरकारी दस्तावेज
 (3) शिक्षकों के मानक व्यवहारों की सूचक पुस्तिका
 (4) इनमें से कोई नहीं (3)

भाग-द (Language Proficiency - English)

151. Fill in the blank with appropriate given option:
 She is ——— white woman.

- (1) a (2) an
 (3) the (4) that (1)

152. A person who writes a play is-

- (1) playwright (2) playright
 (3) playwright (4) playwrite (3)

153. Choose from the options given below one word for-
Someone who walks in sleep:

- (1) Philogynist (2) Somnambulist
 (3) Recluse (4) Termagant (2)

154. Change the narration:
 Must you go so soon?, I said.

- (1) I asked him if he had to go so soon
 (2) I told him he should go soon
 (3) I told him he must not go soon
 (4) I asked him go soon (1)

155. Mohit said to Monu, "Where is your house?"
 (1) Mohit asked Monu where was your house.
 (2) Mohit asked Monu where your house was.
 (3) Mohit asked Monu where your house has been.
 (4) Mohit asked Monu where his house was. (4)
156. The passive voice form of the sentence "Global warming can cause many natural disasters" will be
 (1) Many natural disasters are caused by global warming
 (2) Many natural disasters can be caused by global warming
 (3) Many natural disasters can caused by global warming
 (4) Many natural disasters could caused by global warming (2)
157. The passive form of the sentence- 'Who will help you?' will be-
 (1) By whom will you be helped?
 (2) Whom will you be helped?
 (3) You will be helped.
 (4) Whom will be you are helped? (1)
158. Fill in the blank with appropriate given option:
 I have — headache.
 (1) a (2) an
 (3) the (4) that (1)
159. Choose the grammatically correct option :
 If he were to reach the venue in time, he — have to hurry up.
 (1) would be (2) will
 (3) must be (4) would (4)
160. Choose the correct tense:
 I — her making great efforts to complete the assigned task:
 (1) been saw (2) be seen
 (3) seen (4) saw (4)
161. Fill in the blank with suitable preposition.
 With a moment, Govind burst — tears.
 (1) in (2) out in
 (3) off into (4) into (4)
162. The antonym of 'politely' is :
 (1) courteously (2) humbly
 (3) rashly (4) angry (3)
163. The antonym of 'angry' is :
 (1) sharp (2) infuriated
 (3) calm (4) peace (3)
164. Fill in the blank with suitable preposition.
 I saw him falling a big tree an axe.
 (1) with (2) from
 (3) to (4) of (1)
165. Choose the correct synonym— Abandon
 (1) forsake (2) receive
 (3) gift (4) grieve (1)

166. The synonym of 'considerate' is not :
 (1) negligent (2) attentive
 (3) careful (4) helpful (1)
 Direction : Read the passage carefully and choose the best answer to each question out of the four alternatives.
 Some languages are used by a few people. Others, such as Mandarin Chinese and English, are spoken by millions. Many people speak two or more languages. They may use one language at home with family and friends, and another at work or school. Regional variations of language are known as dialects. The Anglo-Saxons, who conquered Britain at the end of the Roman Empire, spoke a Germanic language, which later became English. Other Germanic languages include Danish, Dutch, German and Swedish. English also contains French-derived words after it was ruled by French-speaking kings following the Norman Conquest.
167. Mandarin Chinese is spoken by _____ people.
 (1) little (2) few
 (3) many (4) big (3)
168. A person who is good at foreign languages is known as
 (1) Virtuoso (2) Linguist
 (3) Ventriloquist (4) Scholar (2)
169. _____ are regional variations of a language.
 (1) English (2) Mandarin Chinese
 (3) Home language (4) Dialects (4)
170. English also included French words the Norman Conquest.
 (1) after (2) prior
 (3) before (4) during (1)

भाग-द (भाषा यांग्यता - हिन्दी)

171. 'जो इन्द्रियों की पहुँच से बाहर हो' - वाक्यांश के लिए एक शब्द बताइए।
 (1) इन्द्रियजित (2) इन्द्रियानिग्रह
 (3) इन्द्रियातीत (4) इन्द्रधनुष (3)
172. 'थोड़ा खर्च करने वाला' के लिए एक शब्द है -
 (1) अल्पव्ययी (2) अल्पक्रयी
 (3) अल्पज्ञ (4) अमूल्य (1)
173. समश्रुत भिन्नार्थक शब्द की दृष्टि से असंगत युग्म चुनिए-
 (1) ऊमक - उभक = वेग, रीछ
 (2) क्षमा - क्ष्मा = माफ़ी, पृथ्वी
 (3) कृतिका - कृत्यका = एक नक्षत्र, भयंकर कार्य
 (4) पायस - पायसा = वर्षा, ऋतु (4)
174. निम्नलिखित में से कौन-सा विलोम शब्द-युग्म गलत है?
 (1) इष्ट - अनिष्ट (2) छल - निश्छल
 (3) उत्कर्ष - विकर्ष (4) सानुनासिक - निरनुनासिक (3)
175. सरस का विलोम शब्द है-
 (1) नीरस (2) निर्जल
 (3) निरोह (4) दुर्गम (1)
176. 'खेचर' शब्द का पर्यायवाची निम्नलिखित में से कौन सा है-
 (1) नीरज (2) खाग
 (3) पावन (4) मनुष्य (2)

176. निम्नलिखित में से किस शब्द का अर्थ 'लहर' नहीं है?
 (1) तरंग (2) डुकूल
 (3) हिलोर (4) वीची (2)
177. 'सामयिक' शब्द में प्रयुक्त प्रत्यय है—
 (1) इय (2) क
 (3) इक (4) यिक (3)
178. किस शब्द में दो से अधिक उपसर्ग हैं?
 (1) अव्यवस्था (2) निरनुनासिकता
 (3) अपादन (4) निस्संकोच (1)
179. नाम के अनुसार गुण न होना किस लोकोक्ति का अर्थ है—
 (1) जनम के दुखिया करम के हीन, तिनको दैव तिलंगा कीन
 (2) जनम न देखा बोरिया, सपने आई खाट
 (3) जन्म पत्र सब देखते हैं, कर्म फल कोई नहीं देखता
 (4) जनम के कमबख्त नाम बख्तावर सिंह (4)
180. भ्रम में पड़ा हुआ व्यक्ति उल्टी-पुल्टी बातें करता है। यह किस लोकोक्ति का अर्थ है—
 (1) जब तक करे पूता-पूता तब तक करे अपने बूता
 (2) जब जेहि दिगभ्रम होइ खगोसा, सो कह पच्छिम उग्यो दिनेसा
 (3) जब तक पहिया लुढ़कता है तभी तक गाड़ी है
 (4) जब तक फूले केतकी तब तक घिरम करील (2)
181. 'बहुत दिनों बाद दिखाई देना' को दर्शाने वाला मुहावरा है—
 (1) ईद का चाँद होना (2) आँखें चार होना
 (3) कलेजा ठंडा होना (4) पौ बारह होना (1)
182. 'बहुत लज्जित होना' के अर्थ में उपयुक्त मुहावरा है—
 (1) घड़ों पानी पड़ना। (2) टोपी उछालना।
 (3) घोड़े बेचकर सोना। (4) डंका बजाना। (1)
183. निम्नलिखित में से शुद्ध शब्द है—
 (1) निधि (2) गोपिनी
 (3) दारिद्र्यता (4) सदृश्य (1)
184. 'सावन' शब्द का हिन्दी शब्द रूप है—
 (1) श्रवण (2) शावन
 (3) चावन (4) श्रावण (4)
185. 'वीणापाणि' में समास है—
 (1) बहुव्रीहि (2) कर्मधारय
 (3) द्विगु (4) अव्ययीभाव (1)
186. 'सुख-शांति' शब्द में कौन सा समास है?
 (1) अव्ययीभाव समास (2) तत्पुरुष समास
 (3) द्वंद्व समास (4) द्विगु समास (3)
187. 'प्रतिदिन' समस्तपद में समास है—
 (1) अव्ययीभाव (2) बहुव्रीहि
 (3) तत्पुरुष (4) कर्मधारय (1)
188. किसमें स्वर संधि नहीं है?
 (1) गिरीश (2) परोपकार
 (3) मर्तव्य (4) संतोष (4)

189. निम्नलिखित में से किस शब्द में स्वर संधि है?
 (1) नमस्कार (2) जगदीश
 (3) भानुदय (4) दुर्लभ (3)
190. किस विकल्प के सभी शब्द दीर्घ स्वर संधि के नहीं हैं?
 (1) सतीश, देशाटन, जतरागि
 (2) कपीश्वर, महतीच्छा, गिरीन्द्र
 (3) मात्रादेश, पित्रनुमति, मन्वादेश
 (4) मधुत्सव, लघुर्मि, गुरुपदेश (3)

BSTC Exam Paper
(All Paper's)
 2024 परीक्षा हेतु उपयोगी



Telegram
 चैनल
 ज्वाइन करें



YouTube पर
 ऑनलाइन क्लासेज भी देखें

राजस्थान की हर प्रतियोगी परीक्षा हेतु उपयोगी

- ❖ राजस्थान सामान्य ज्ञान के नोट्स डाउनलोड करने के लिए नीचे दिए गए [इमेज](#) पर क्लिक करें --
- ❖ राजस्थान की विभिन्न भर्ती परीक्षाओं के लिए अति महत्वपूर्ण नोट्स [Free](#) डाउनलोड :-
- ❖ राजस्थान कला एवं संस्कृति, भूगोल, इतिहास सभी के नोट्स [Free](#) डाउनलोड करने का एकमात्र [Google](#) वेबसाइट :- Rajasthanclasses.in



राजस्थान सामान्य ज्ञान

कला संस्कृति, भूगोल, इतिहास संपूर्ण राजस्थान जीके

सभी टॉपिक वाइज नोट्स व प्रश्नोत्तरी **PDF**

सभी भर्ती परीक्षाओं हेतु उपयोगी **PDF**

राजस्थान GK ALL PDF's

पशु परिचर 2024

PTET : CET : BSTC : LDC

राजस्थान GK PDF
(त्यौहार व मेले)

200+
प्रश्न PDF

By - Adarsh Sir



अन्य किसी भी प्रकार की PDF's के लिए
गूगल सर्च करें या क्लिक करें

Google



rajasthanclasses.in



Telegram
चैनल
ज्वाँइन करें



YouTube पर
ऑनलाइन क्लासेज भी देखें

पशु परिचर 2024
सिलेबस/PDF
Just Click Now 

CET : BSTC : PTET : LDC
पशु परिचर 2024
(शॉर्ट नोट्स PDF)
नवीनतम राजस्थान GK
(जलवायु प्रदेश नोट्स)
(कोनसा जिला किस प्रदेश में - नवीनतम)
(कोपेन, थान्विट, द्वितीय के वर्गीकरण)
PDF

नया राजस्थान GK
पशु परिचर 2024
Just Touch Now 

CET : BSTC : PTET : LDC
पशु परिचर 2024
नवीनतम राजस्थान GK
(पुरातात्विक स्थल नोट्स)
(नवीनतम GK नोट्स PDF)

राजस्थान क्लासेज
लेटेस्ट पोस्ट/न्यूज
Just Click Now 

पशु परिचर परीक्षा 2024
15+ मॉडल पेपर
राजस्थान क्लासेज
Free Download 
Adobe

पशु परिचर परीक्षा 2024
राजस्थान क्लासेज
BSTC : PTET : CET : LDC
नया राजस्थान GK
(प्रमुख झीलें नोट्स) (शानदार नोट्स)
Free Download 
Adobe

पशु परिचर भाग - (ब)
(Animal Attendant)
पशुपालन हस्तलिखित नोट्स
(मार्क- 45 अंक) **मात्र 21/- रु.**
पशु परिचर बनाने वाले नोट्स

आदर्श कुमावत सर

100%
तैयारी सलेशन की
पशु परिचर भर्ती
पशुपालन
सामान्य जानकारी
444 प्रश्न ई बुक


BSTC Exam Paper
(All Paper's)
2024 परीक्षा हेतु उपयोगी