

भाग-अ / Section-A
मानसिक योग्यता / Mental Ability

- श्रृंखला में अगली संख्या पहचानें -
13, 18, 28, 48,
(A) 58 (B) 62
(C) 68 (D) 88
- निम्नलिखित प्रश्न में दिये गये विकल्पों में से संबंधित शब्द को चुनिये -
डॉक्टर : दवाई :: ?
(A) मेज : किताब
(B) पंखा : ट्यूबलाइट
(C) शिक्षक : ज्ञान
(D) मोबाइल : चार्जर
- लुप्त वर्णमाला का पद ज्ञात कीजिये -
af, di, gl,, mr, pu
(A) hm (B) ze (C) jo (D) qi
- दिये गये विकल्पों में से लुप्त संख्या को चुनिये -

3	8	9	20
7	?	2	3
10	3	6	13
210	120	108	

- (A) 5 (B) 8
(C) 4 (D) 7
- निम्नलिखित में से विषम को खोजें -
(A) हाथी (B) जिराफ
(C) खरगोश (D) शेर
- निम्नलिखित शब्दों को शब्दकोष के क्रमानुसार क्रमबद्ध कीजिये -
1 - Calamondin 2 - Calcareous
3 - Calamites 4 - Calcifuge
5 - Calciferol
(A) 5,3,4,2,1 (B) 4,1,5,2,3
(C) 1,3,5,2,4 (D) 3,1,2,5,4
- लुप्त पद ज्ञात कीजिये -
MPSK : QTWO :: CKZM : ?
(A) DOGQ (B) GODQ
(C) GQDO (D) OGDQ
- यदि किसी निश्चित कूट भाषा में PRESSURE को ERUSSERP के रूप में कूटबद्ध किया जाता है, तो उसी कूट भाषा में SUCCESS को कैसे कूटबद्ध किया जायेगा?
(A) SSECCUS (B) SSCCEUS
(C) CCESSUS (D) SCCUSSE

- Identify next number in the series -
13, 18, 28, 48,
(A) 58 (B) 62
(C) 68 (D) 88
- In the following question, select the related word from the given alternatives -
Doctor : Medicine :: ?
(A) Table : Book
(B) Fan : Tubelight
(C) Teacher : Knowledge
(D) Mobile : Charger
- Find out the missing alphabetical term -
af, di, gl,, mr, pu
(A) hm (B) ze (C) jo (D) qi
- Select the missing number from the given alternatives -

3	8	9
7	?	2
10	3	6
210	120	108

- (A) 5 (B) 8
(C) 4 (D) 7
- Find the odd one out from the following -
(A) Elephant (B) Giraffe
(C) Rabbit (D) Lion
- Arrange the following words as per order in the dictionary -
1 - Calamondin 2 - Calcareous
3 - Calamites 4 - Calcifuge
5 - Calciferol
(A) 5,3,4,2,1 (B) 4,1,5,2,3
(C) 1,3,5,2,4 (D) 3,1,2,5,4
- Find out the missing term -
MPSK : QTWO :: CKZM : ?
(A) DOGQ (B) GODQ
(C) GQDO (D) OGDQ
- If in a certain code language PRESSURE is coded as ERUSSERP, then how is SUCCESS coded in that same code language?
(A) SSECCUS (B) SSCCEUS
(C) CCESSUS (D) SCCUSSE



9. यदि PASTLE को 1,2,3,4,5 के रूप में कूटबद्ध किया गया है और STOCK को 3,4,7,8,9 के रूप में कूटबद्ध किया गया है, तो PEACOCK को कैसे कूटबद्ध किया जायेगा?

- (A) 1,6,2,7,8,9,8 (B) 1,6,8,2,7,8,9
(C) 1,6,2,8,7,8,9 (D) 6,1,2,7,8,7,9

10. प्रातः 6:20 बजे घड़ी की दोनों सुईयाँ कौनसा कोण बनायेगी?





- (A) 75° (B) 70°
(C) 60° (D) 45°

11. शब्दों को अर्थपूर्ण क्रम में व्यवस्थित करें -





1 - परीक्षा 2 - कक्षा 3 - प्रवेश

- 4 - परिणाम 5 - शिक्षण
(A) 4,3,2,5,1 (B) 1,4,3,2,5
(C) 3,2,5,1,4 (D) 5,2,3,1,4

12. निम्नलिखित में से कौनसा चित्र भाषाओं, फ्रेंच और जर्मन के बीच संबंध को सही ढंग से दर्शाता है?

- (A) 
(B) 
(C) 
(D) 

13. निम्नलिखित में से कौनसा वेन आरेख वर्गों के बीच संबंध को सही ढंग से दर्शाता है? भोजन, मटर, सब्जियाँ

- (A) 
(B) 
(C) 
(D) 

14. कथन - कलकत्ता से मुम्बई जल्दी पहुँचने के लिये हवाई जहाज से जायें।

धारणाएं - (I) कलकत्ता और मुम्बई हवाई सेवा से जुड़े हुये हैं।

(II) कलकत्ता से मुम्बई जाने का कोई अन्य साधन नहीं है।

- (A) केवल I अन्तर्निहित है.
(B) I और II दोनों अन्तर्निहित हैं
(C) केवल II अन्तर्निहित है
(D) न तो I और ना ही II अन्तर्निहित है

9. If PASTLE is coded as 1,2,3,4,5 and STOCK is coded as 3,4,7,8,9, then how is PEACOCK coded?

- (A) 1,6,2,7,8,9,8 (B) 1,6,8,2,7,8,9
(C) 1,6,2,8,7,8,9 (D) 6,1,2,7,8,7,9

10. What angle will the two hands of a clock make at 6:20 a.m.?





- (A) 75° (B) 70°
(C) 60° (D) 45°

11. Arrange the words in a meaningful sequence

1 - Exam 2 - Class 3 - Admission
4 - Result 5 - Teaching





- (A) 4,3,2,5,1 (B) 1,4,3,2,5
(C) 3,2,5,1,4 (D) 5,2,3,1,4

12. Which of the following figures correct represents the relation between language French and German?

- (A) 
(B) 
(C) 
(D) 

13. Which of the following Venn diagram correctly illustrates the relationship among the classes?

Food, Peas, Vegetables

- (A) 
(B) 
(C) 
(D) 

14. Statement - Go by aeroplane to reach Mumbai from Kolkata quickly.

Assumptions - (I) Kolkata and Mumbai are connected by aeroplane services.

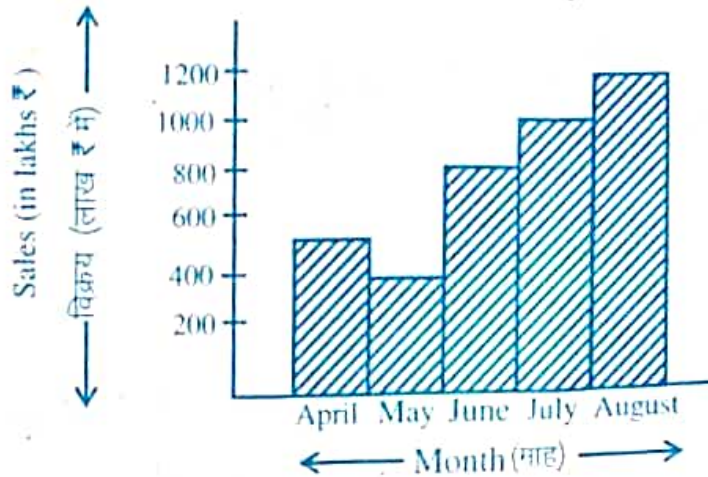
(II) There is no other means of going from Kolkata to Mumbai.

- (A) Only I is implicit
(B) Both I and II are implicit
(C) Only II is implicit
(D) Neither I nor II is implicit

A B C D E F G H I J K L M N O P Q R S T U V W X Y Z

निर्देश - उपरोक्त ग्राफ को ध्यानपूर्वक अध्ययन करके निम्न प्रश्नों का उत्तर दें (15-17) -

Direction - Study the following graph carefully and answer the questions (15-17) -



15. निम्नलिखित में से किस अवधि में बिक्री में लगातार वृद्धि हुई है?
 (A) मई से जुलाई
 (B) मई से अगस्त
 (C) जून से अगस्त
 (D) अप्रैल से अगस्त
16. औसत मासिक विक्रय है (लाख ₹ में) -
 (A) 600 (B) 650
 (C) 620 (D) 780
17. निम्नलिखित में से किस महीने के दौरान, पिछले महीने की तुलना में बिक्री का अनुपात सर्वाधिक है?
 (A) जून (B) अप्रैल
 (C) मई (D) जुलाई
18. एक मिश्रण में सीमेन्ट और पानी का अनुपात 4:3 है। यदि मिश्रण में 5 लीटर पानी मिलाया जाये तो अनुपात 4:5 हो जाता है। दिये गये मिश्रण में सीमेन्ट की मात्रा ज्ञात कीजिये।
 (A) 8 लीटर (B) 10 लीटर
 (C) 9 लीटर (D) 11 लीटर
19. प्रश्न चिन्ह का स्थान कौनसा अक्षर लेगा?

E	J	O	T
Z	S	X	Y
U	N	I	D
P	K	F	A




E	J	O	T
Z	S	?	Y
U	N	I	D
P	K	F	A

- (A) W (B) X
 (C) Q (D) S

- (A) W (B) X
 (C) Q (D) S

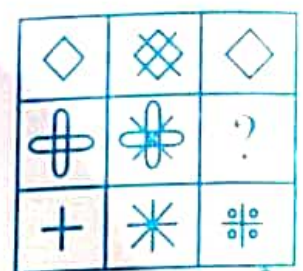


20. चार विकल्पों में से एक उपयुक्त आकृति का चयन करें जो आकृति मैट्रिक्स को पूरा करेगी -



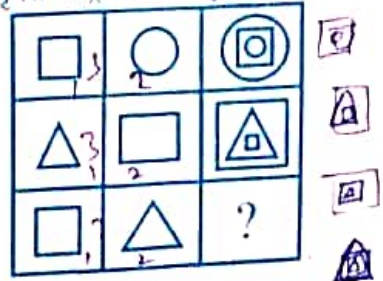
- (A)
- (B)
- (C)
- (D)

Select the suitable figure from the four alternatives that would complete the figure matrix




- (A)
- (B)
- (C)
- (D)

21. चार विकल्पों में से एक उपयुक्त आकृति का चयन करें जो आकृति मैट्रिक्स को पूरा करेगी -



- (A)
- (B)
- (C)
- (D)

Select a suitable figure from the four alternatives that would complete the figure -



- (A)
- (B)
- (C)
- (D)

22. यदि महीने का 7वाँ दिन शुक्रवार से तीन दिन पहले है, तो महीने के 19वें दिन कौनसा दिन होगा?

- (A) सोमवार (B) रविवार +13
- (C) बुधवार (D) शुक्रवार 18

If 7th day of the month is three days earlier than Friday, then what day will it be on 19th day of the month?

- (A) Monday (B) Sunday
- (C) Wednesday (D) Friday

23. निम्नलिखित श्रेणी में लुप्त पद है -

- 37, 40, 45, 52, 61, 72, 85,
- (A) 100 (B) 99
- (C) 98 (D) 101

23. The missing number from the following series is -

- 37, 40, 45, 52, 61, 72, 85,
- (A) 100 (B) 99
- (C) 98 (D) 101

24. निम्न में से कौनसा विकल्प दूसरों से अलग है?

- (A) श्रीलंका (B) जापान
- (C) न्यूजीलैण्ड (D) कनाडा

Which of the following option is different from others?

- (A) Sri Lanka (B) Japan
- (C) New Zealand (D) Canada

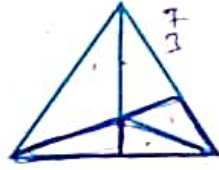
25. निम्न में से कौनसा असंगत है?

- (A) कावेरी (B) गंगा
- (C) चम्बल (D) भाखड़ा

25. Which of the following is illogical?

- (A) Kaveri (B) Ganga
- (C) Chambal (D) Bhakra

33. निम्न आकार में कितने त्रिकोण हैं?



- (A) 12 (B) 10 ✓
(C) 9 (D) 11

34. निम्नलिखित प्रश्न के चार विकल्प दिये गये हैं, उनमें से कौनसा विकल्प घूमर, बीहू एवं गरबा के समान है?

- (A) कथकली
(B) भारतनाट्यम
(C) कुचिपुडी
(D) भांगड़ा ✓

35. यदि टीवी को रेडियो कहा जाता है, रेडियो को ओवन, ओवन को ग्राइन्डर, ग्राइन्डर को आयरन कहा जाता है, तो एक महिला बेक किसमें करेगी?

- (A) रेडियो ✓ (B) ओवन
(C) ग्राइन्डर (D) आयरन

36. एक निश्चित कोड में BOARD को 53169 लिखा जाता है और NEAR को 2416 लिखा जाता है, तो उसी कोड में NODE कैसे लिखा जायेगा?

- (A) 2394 ✓ (B) 2894
(C) 2934 (D) 2694

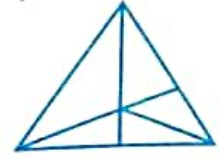
37. एक व्यक्ति किसी वस्तु को निश्चित मूल्य पर बेचने पर 20% लाभ प्राप्त करता है, यदि इसे दोगुने मूल्य पर बेचता है, तो पुराने विक्रय मूल्य पर कितना % (प्रतिशत) लाभ होगा?

- (A) 120% (B) 40% ✓
(C) $66\frac{2}{3}\%$ (D) 100%

38. संख्या 10 से 20 तक की सम संख्याओं का औसत क्या है?

- (A) 12 (B) 15
(C) 16 ✓ (D) 14

33. How many triangles are there in the following shape?



- (A) 12 (B) 10
(C) 9 (D) 11

34. Following question has four alternatives, choose which is same as Ghoomar, Bihu and Garba?

- (A) Kathkali
(B) Bharatnatyam
(C) Kuchipudi
(D) Bhangra

35. If TV is called radio, radio is called oven, oven is called grinder and grinder is called iron. In what a lady will bake?

- (A) Radio (B) Oven
(C) Grinder (D) Iron

36. In a certain code BOARD is written as 53169 and NEAR is written as 2416, how is NODE written in that code?

- (A) 2394 (B) 2894
(C) 2934 (D) 2694

37. A person gets a profit of 20% by selling an object on certain price. If he sells it on double of the price, then what will be the percentage of profit on old selling price?

- (A) 120% (B) 40%
(C) $66\frac{2}{3}\%$ (D) 100%

38. What is the average of even numbers from 10 to 20?

- (A) 12 (B) 15
(C) 16 (D) 14

$$\begin{array}{r} 22 \\ \times 16 \\ \hline 132 \\ 440 \\ \hline 352 \end{array}$$

$$\begin{array}{r} 12 \\ \times 3 \\ \hline 36 \end{array}$$

$$\begin{array}{r} 12 \\ \times 5 \\ \hline 60 \end{array}$$

$$\begin{array}{r} 18 \\ \times 8 \\ \hline 144 \end{array}$$

26. TAX आकृति की दर्पण छवि क्या होगी?
 (A) XVI (B) TAX
 (C) LVX (D) XAT

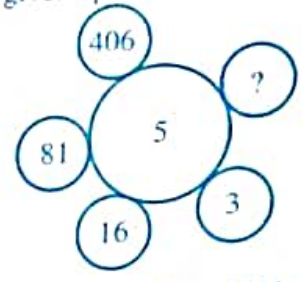
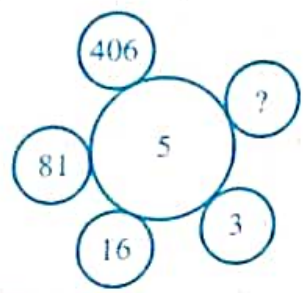
26. What is the mirror image of TAX?
 (A) XVI (B) TAX
 (C) LVX (D) XAT

27. निम्नलिखित को तार्किक क्रम में व्यवस्थित करें -
 1 - कन्धा 5 2 - कलाई 3 3 - कोहनी 4
 4 - हथेली 2 5 - अंगुली 1
 (A) 2,4,5,3,1 (B) 3,1,4,2,5
 (C) 3,4,5,2,1 (D) 5,4,2,3,1 ✓

27. Arrange the following in a logical order -
 1 - Shoulder 2 - Wrist 3 - Elbow
 4 - Palm 5 - Finger
 (A) 2,4,5,3,1 (B) 3,1,4,2,5
 (C) 3,4,5,2,1 (D) 5,4,2,3,1

28. निम्न प्रश्न में दिये गये विकल्पों में से प्रश्नवाचक चिन्ह के स्थान पर आने वाली संख्या ज्ञात कीजिये -

28. In the following question, find the number coming in the place of the question mark from the given options -



- (A) 1 ✓ (B) 2031
 (C) 731 (D) 1625

- (A) 1 (B) 2031
 (C) 731 (D) 1625

29. सही ढंग से खाली स्थान की पूर्ति करें -
 जीवाश्म : विलुप्ति :: पोखर : ?
 (A) बारिश (B) गीला
 (C) झील (D) सूखा ✓

29. Fill up the blank correctly -
 Fossil : Extinction :: Puddle : ?
 (A) Rain (B) Wet
 (C) Lake (D) Dry

30. यदि 2 है 55, तो 6 होगा -
 (A) 44 (B) 33
 (C) 9 (D) 99 ✓

30. If 2 is to 55, then 6 would be -
 (A) 44 (B) 33
 (C) 9 (D) 99

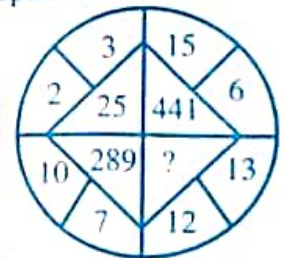
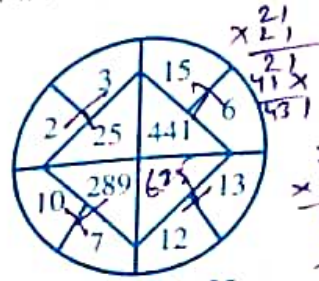
31. एक परिवार घूमने निकला। पुत्री अपने पिता से आगे चली। पुत्र अपनी माता से पीछे चल रहा था और पिता से आगे। सबसे पीछे कौन था?
 (A) पुत्र (B) पिता ✓
 (C) माता (D) पुत्री

31. A family went out for an outing, the daughter walked ahead of her father, the son followed the mother and was ahead the father. Who is behind among all?
 (A) Son (B) Father
 (C) Mother (D) Daughter

32. निम्न प्रश्न में दिये गये विकल्पों में से प्रश्नवाचक चिन्ह के स्थान पर आने वाली संख्या ज्ञात कीजिये -

32. In the following question, find the number that comes in place of question mark from the given options -

$$\begin{array}{r} 17 \\ \times 17 \\ \hline 119 \\ 170 \\ \hline 289 \end{array}$$



- (A) 125 (B) 25
 (C) 156 (D) 625 ✓

- (A) 125 (B) 25
 (C) 156 (D) 625



44. 5% वार्षिक साधारण ब्याज की दर से 10 वर्षों में कितनी धनराशि पर 120/- ₹ ब्याज प्राप्त होगा?

- (A) 350/- (B) 280/-
(C) 360/- (D) 240/-

45. रघु और बाबू जुड़वा हैं। बाबू की बहन रीना है। रीना का पति राजन है। रघु की माँ लक्ष्मी है। लक्ष्मी का पति राजेश है, राजेश का राजन से क्या संबंध है?

- (A) ससुर
(B) चाचा
(C) दामाद
(D) चचेरा भाई

46. दिये गये विकल्पों में से वह सही विकल्प ढूँढे जो श्रृंखला को पूरा करेगा।

श्रृंखला : 2, 5, 9, 14, 20, 27

- (A) 24 (B) 16
(C) 18 (D) 14

47. दिये गये उत्तरों में से कौनसा निम्नलिखित शब्दों का सार्थक क्रम होगा?

1- होंठ 2- आंखें 3- नाक
4- कान 5- ललाट

- (A) 1,2,3,4,5 (B) 5,4,3,2,1
(C) 5,2,4,3,1 (D) 1,3,4,2,5

48. निम्न में से कौनसा एक लीप वर्ष है?

- (A) 1982 (B) 1978
(C) 1945 (D) 1704

49. आधे घंटे में एक घड़ी की लम्बी सुई कितने डिग्री का कोण घूमेगी?

- (A) 90° (B) 120°
(C) 75° (D) 180°

50. निम्नलिखित प्रश्न में अनुपस्थित (लुप्त) संख्या ज्ञात कीजिये

5	6	5
8	9	7
10	7	9
400	378	?

- (A) 305 (B) 315
(C) 455 (D) 533

What sum of money will produce interest in 10 years at 7.5% per simple interest?

- (A) 350/- (B) 280/-
(C) 360/- (D) 240/-

45. Raghu and Babu are twins. Babu's sister Reena. Reena's husband is Rajan. Raghu's mother is Laxmi. Laxmi's husband Rajesh. How is Rajesh related to Rajan?

- (A) Father-in-law
(B) Uncle
(C) Son-in-law
(D) Cousin Brother

46. Find the correct alternative from the given responses that will complete the series.

Series : 2, 5, 9, 14, 20, 27

- (A) 24 (B) 16
(C) 18 (D) 14

47. Which one of the given responses would be a meaningful order of the following words?

1- Lips 2- Eyes 3- Nose
4- Ears 5- Forehead

- (A) 1,2,3,4,5 (B) 5,4,3,2,1
(C) 5,2,4,3,1 (D) 1,3,4,2,5

48. Which of the following is a leap year?

- (A) 1982 (B) 1978
(C) 1945 (D) 1704

49. In 1/2 hour, the long hand of a clock will rotate through an angle of -

- (A) 90° (B) 120°
(C) 75° (D) 180°

50. Find the missing number in the following question -

5	6	5
8	9	7
10	7	9
400	378	?

- (A) 305 (B) 315
(C) 455 (D) 533

शिक्षक अभिक्षमता एवं अभिवृत्ति / Teacher Aptitude and Attitude

51. अच्छी शिक्षा बहुत सहयोगी होती है -
 (A) व्यक्ति को आत्मनिर्भर बनाने में ✓
 (B) मनुष्य को अपनी आजीविका प्राप्त करने में
 (C) मनुष्य को विद्वान बनाने में
 (D) मनुष्य की प्रतिष्ठा में अभिवृद्धि करने में
52. बच्चों के समग्र विकास के लिये सबसे अधिक आवश्यक तथ्य है -
 (A) धार्मिक शिक्षा
 (B) सांस्कृतिक कार्यक्रम
 (C) सांस्कृतिक ज्ञान
 (D) खेल एवं खेलकूद ✓
53. शिक्षा तथा सामाजिक आर्थिक विकास है -
 (A) प्रत्यक्षतः समानुपातिक रूप से सम्बन्धित
 (B) अप्रत्यक्षतः समानुपातिक रूप से सम्बन्धित
 (C) कभी सम्बन्धित कभी सम्बन्धित नहीं ✓
 (D) सम्बन्धित नहीं
54. निम्नलिखित में से कौनसा विद्यार्थियों के साथ अन्तःक्रिया करने हेतु ज्यादा स्वतंत्रता देता है?
 (A) लघु समूह चर्चा ✓
 (B) फिल्म का प्रयोग
 (C) टी.वी. पर प्रदर्शित देशभर के कक्षा कक्ष कार्यक्रम
 (D) विशेषज्ञों के व्याख्यान
55. अध्यापक के सम्मुख सबसे बड़ी चुनौती है -
 (A) कक्षा में अनुशासन को बनाए रखना।
 (B) विद्यार्थियों को गृहकार्य करवाने हेतु तैयार करना।
 (C) प्रश्न पत्र निर्माण करना।
 (D) शिक्षण-अधिगम प्रक्रिया को खुशनुमा बनाना।
56. एक दक्ष अध्यापक वह होता है, जो -
 (A) सभी विद्यार्थियों को परीक्षा उत्तीर्ण करने में मदद करना।
 (B) विद्यार्थियों में विषय के प्रति रुचि जाग्रत करना। ✓
 (C) कक्षा कक्ष में शान्ति बनाए रखना।
 (D) विद्यार्थियों को व्यस्त करना।
51. Good education is highly helpful -
 (A) in making a person self-dependent
 (B) in man's attempt for earning his livelihood
 (C) in making the person a scholar
 (D) in increasing the person's prestige
52. For all round development of students, the most necessary thing is -
 (A) Religious education
 (B) Cultural programme
 (C) Cultural knowledge
 (D) Games and sports
53. Education and socio-economic development are -
 (A) related in direct proportion
 (B) related in indirect proportion
 (C) Sometime related and sometime not related
 (D) Not related
54. Which of the following provides more freedom to the learner to interact?
 (A) Small group discussion
 (B) Use of film
 (C) Viewing country wide classroom programme on T.V.
 (D) Lecture by experts
55. The most important challenge before a teacher is -
 (A) to maintain discipline in the class-room.
 (B) to make students do their home-work.
 (C) to prepare question paper.
 (D) to make teaching-learning process enjoyable.
56. A competent teacher is one, who can -
 (A) help all students to pass the examination.
 (B) create interest in the subject among the students.
 (C) maintain silence in the class-room.
 (D) keep students engaged.



57. मैं उस अध्यापक की प्रशंसा करूंगा, जो -
 (A) जिसका अपने विद्यार्थियों पर कठोर नियंत्रण हो।
 (B) विद्यार्थियों की समस्याओं को जानता हो और सहायता करे। ✓
 (C) विद्यार्थियों के साथ मित्रवत हो।
 (D) उसके पास मोहक व्यक्तित्व हो।
58. विद्यार्थी एक ऐसे अध्यापक से ज्यादा सीखते हैं जो -
 (A) सहानुभूतिपूर्ण हो
 (B) कठोर हो
 (C) कठिन परिश्रमी हो
 (D) जो अपने विचार संक्षेप में और स्पष्ट रूप से संप्रेषित करता हो ✓
59. अध्यापक द्वारा अपने विचार विद्यार्थियों तक पहुँचाने में असफल रहने का परिणाम होगा कि -
 (A) कक्षा में अनुशासनहीनता। ✓
 (B) पढाए जा रहे प्रकरण में विद्यार्थियों की रुचि में कमी।
 (C) कक्षा में अनुपस्थिति की संख्या बढ़ना।
 (D) अधिगम में विद्यार्थियों की कमजोर रुचि।
60. "ऑडियो कॉन्फ्रेन्सिंग" को किस प्रकार की संचार विधि में वर्गीकृत किया जा सकता है?
 (A) एक तरफा मौखिक
 (B) दो तरफा मौखिक
 (C) एक तरफा अमौखिक ✓
 (D) दो तरफा अमौखिक
61. यदि एक विद्यार्थी आपकी कक्षा में अनुपस्थित रहता है, तो एक अध्यापक के रूप में आप क्या करेंगे?
 (A) विद्यार्थी को उसकी अनुपस्थिति के लिये दोषी ठहराएंगे।
 (B) विद्यार्थी की वर्तमान अभिवृत्ति को देखते हुए चुप रहेंगे।
 (C) पढाने के लिए कुछ रुचिकर विधियों के बारे में सोचेंगे।
 (D) कारणों को जानने तथा उन्हें दूर करने का प्रयास करेंगे। ✓
62. समूह मनोबल के लिये सर्वाधिक आवश्यक है -
 (A) स्पष्ट उद्देश्य
 (B) समूह एकता
 (C) समूह सदस्यों की सम्यन्ता ✓
 (D) समूह द्वन्द्वता
57. I will appreciate the teacher who
 (A) has strict control over his students
 (B) knows the problems of his students and help them
 (C) is friendly with students
 (D) has a charming personality
58. Students learn more from a teacher who is -
 (A) affectionate
 (B) strict
 (C) hard working
 (D) one who communicates his ideas precisely and clearly
59. Failure of the teacher to communicate his ideas well to the students may result into -
 (A) classroom indiscipline.
 (B) loss of students interest in the topic being taught.
 (C) increased number of absentees in the class.
 (D) students poor interest in learning.
60. 'Audio-Conferencing' can be classified in which communication methods?
 (A) One-way verbal
 (B) Two-way verbal
 (C) One-way non-verbal
 (D) Two-way non-verbal
61. If a student is not present in your class, being a teacher what will you do?
 (A) Blame student for absence in the class.
 (B) Keep silent by seeing present attitude of student.
 (C) Think about some interesting method to teach.
 (D) Try to know the cause to resolve.
62. For getting Group moral, the most essential thing is -
 (A) clear objective
 (B) group unity
 (C) prosperity of group members
 (D) group conflict

63. शिक्षक का मानसिक स्वास्थ्य अच्छा होना आवश्यक है, क्योंकि -
- (A) बालक की शैक्षिक प्रगति पर शिक्षक के मानसिक स्वास्थ्य का प्रभाव पड़ता है। ✓
 (B) शिक्षक की व्यावसायिक उन्नति में सहायता मिलती है।
 (C) इससे शिक्षक की प्रतिष्ठा बढ़ती है।
 (D) शिक्षक में अपने व्यवसाय के प्रति रुझान पैदा होता है।
64. विद्यार्थी अध्ययन में रुचि लें इसके लिये अध्यापक विद्यार्थियों को -
- (A) अभिप्रेरित करें ✓
 (B) छात्रों को स्वयं पुस्तक पढ़ने के लिए निर्देशित करें
 (C) पुरस्कृत करें
 (D) दण्डित करें
65. शिक्षण सहायक सामग्री का उपयोग -
- (A) एकाग्रता व अधिगम को बढ़ावा देता है। ✓
 (B) धारण शक्ति को बढ़ाता है।
 (C) अध्यापक का बोझ कम करता है।
 (D) कक्षा कक्ष को सुन्दर बनाता है।
66. कक्षा में संप्रेषण का महत्त्व है, क्योंकि -
- (A) यह कक्षा के वातावरण को सक्रिय बनाता है।
 (B) इसमें मात्र बातें होती हैं।
 (C) इसमें विचारों और सूचनाओं का आदान-प्रदान होता है।
 (D) यह अध्यापक और छात्र दोनों को प्रतिपुष्टि देता है। ✓
67. बालक के सामाजिक विकास का आधारभूत अभिकरण है -
- (A) विद्यालय ✓
 (B) सिनेमाघर
 (C) समाज के लोग
 (D) परिवार के सदस्य
68. कमजोर छात्रों के शैक्षिक स्तर को आप कैसे सुधारेंगे?
- (A) समय-समय पर अभिभावकों को सूचना देकर
 (B) उन्हें दण्ड देकर
 (C) उन्हें मार्गदर्शन प्रदान कर
 (D) उन्हें अतिरिक्त समय देकर एवं मार्गदर्शन प्रदान कर ✓
63. Mental health of teacher should be good, because -
- (A) Mental health of teacher affects educational progress of child.
 (B) It will be helpful in professional progress of teacher.
 (C) It will increase professional reputation of teacher.
 (D) Teacher develops interest in his profession.
64. Students take interest in studying, for this a teacher should -
- (A) motivate students
 (B) instruct students to read books by themselves
 (C) reward the students
 (D) punish the students
65. The use of teaching aid -
- (A) enhances concentration and learning.
 (B) increases retention power.
 (C) reduces the burden of the teacher.
 (D) beautifies the classroom.
66. Communication is important in class, because -
- (A) it makes the environment of classroom active.
 (B) it involves only talking.
 (C) it involves sharing of ideas and information.
 (D) it provides feedback to both teacher and student.
67. The basic agent of social development of the child is -
- (A) School
 (B) Movie Theatre
 (C) People of the society
 (D) Members of the family
68. How will you improve the educational-level of weak pupils?
- (A) By informing parents from time to time
 (B) By punishing them
 (C) By providing guidance
 (D) By giving them extra time and guidance



69. आपका अध्यापक बनने के पीछे प्रमुख उद्देश्य है -

- (A) ट्यूशन द्वारा अधिक धन प्राप्त करना
- (B) जीविकोपार्जन हेतु
- (C) समाज में अच्छे नागरिक तैयार करना ✓
- (D) शिक्षण व्यवसाय से जुड़ना ✗

70. सामाजिक बुराइयों को दूर करने के लिए आप क्या करेंगे?

- (A) घर-घर जाकर लोगों को जागृत करेंगे ✓
- (B) रैली का आयोजन करेंगे
- (C) पोस्टर बनाएंगे
- (D) कोई रुचि नहीं लेंगे

71. छात्रों में परिश्रम के महत्त्व की भावना को विकसित करने हेतु आप क्या करेंगे?

- (A) छात्रों का 'श्रमदान' की अनुमति देंगे
- (B) स्वयं छात्रों के साथ 'श्रमदान' करेंगे ✓
- (C) परिश्रम के महत्त्व की कहानियाँ सुनाएंगे
- (D) धार्मिक कहानियाँ सुनाएंगे

72. बालकों के माता-पिता शिक्षकों से क्या अपेक्षा रखते हैं?

- (A) शिक्षक निष्पक्ष एवं योग्य हों।
- (B) विषयवस्तु पर शिक्षक वर्चस्व हों।
- (C) बालकों के प्रति सहानुभूति, प्रेम तथा अभिप्रेरणात्मक अभिवृत्ति का प्रदर्शन करें। ✓
- (D) बालकों को कड़े अनुशासन में रखें।

73. अध्यापक और छात्रों में अच्छे सम्बन्ध होना आवश्यक है क्योंकि -

- (A) इससे कक्षा में अनुशासन रहता है।
- (B) इससे सीखने-सिखाने में सहयोग मिलता है। ✓
- (C) कक्षा का वातावरण अच्छा रहता है।
- (D) अध्यापक को बहुत सारे ट्यूशन मिलते हैं।

74. पाठ्येतर संबन्धी कार्यक्रमों के विषय में आपकी क्या राय है?

- (A) आत्म-विश्वास को बढ़ाता है। ✓
- (B) खाली समय का उपयोग है।
- (C) यह समय की बर्बादी है।
- (D) यह पर्याप्त विकास के लिए आवश्यक है।

Your main aim is -

- (A) Getting more money
- (B) Earning a living
- (C) Preparing good citizens
- (D) To join the teaching

What will you do to remove social evils?

- (A) Make people aware by visiting homes
- (B) Organize rally
- (C) By making posters
- (D) Will take no interest

What will you do to develop the importance of hardwork?

- (A) Will allow the students to do 'shramdan'
- (B) You along with students will do 'shramdan'
- (C) Will tell stories of importance of hardwork
- (D) Will tell religious stories

What do the parents of students expect from teachers?

- (A) Teachers should be impartial and efficient
- (B) Should have command over the subject
- (C) Should show sympathy, love and motivational attitude towards students.
- (D) Should keep students in strict discipline.

Teacher-student relations should be healthy because -

- (A) it maintains discipline in class
- (B) it helps in teaching and learning
- (C) environment of the class remains good.
- (D) teacher get lots of tuitions.

What is your opinion about co-curricular programme?

- (A) It enhances self-confidence.
- (B) It is utilization of leisure time.
- (C) It is wastage of time.
- (D) It is essential for all round development

75. अभिभावक शिक्षक मीटिंग का मुख्य उद्देश्य है -
- (A) अभिभावकों से चंदा एकत्रित करना
(B) उन्हें विद्यालय के कार्यक्रमों से अवगत कराना
(C) बालकों के सर्वांगीण विकास में उनका सहयोग प्राप्त करना
(D) बालकों की कमजोरियों की जानकारी देना ✓
76. यदि छात्र आपकी बात नहीं समझ रहे हैं, तो आप क्या करेंगे?
- (A) उन्हें उनके हाल पर छोड़ देंगे।
(B) आप छात्रों पर दोषारोपण करेंगे।
(C) उन्हें अन्य विधि से समझाने का प्रयास करेंगे।
(D) उदाहरणों द्वारा शिक्षण को सरल बनाने का प्रयास करेंगे। ✓
77. आपके विद्यालय के छात्र दस दिवसीय भ्रमण पर जा रहे हैं। प्रधानाचार्य ने आपसे छात्रों के साथ जाने को कहा है। आपका इस सम्बन्ध में क्या मत है?
- (A) मेरा समय खराब होगा।
(B) मुझे इससे नया ज्ञान प्राप्त होगा। ✓
(C) छात्रों के साथ आपसी सम्बन्ध बढ़ेंगे। ✓
(D) वहाँ पर बहुत मनोरंजन होगा।
78. नर्सरी विद्यालयों का प्राथमिक उद्देश्य है -
- (A) छात्रों को प्रायोगिक परिस्थितियों में रखना
(B) विद्यालय की दिनचर्या के साथ समायोजित करने का प्रशिक्षण देना
(C) उन्हें सामाजिक विकास हेतु तैयार करना
(D) वर्तमान युग में व्यस्त माता-पिता के बालकों को घर जैसा वातावरण देना ✓
79. शिक्षा सर्वाधिक सहायक है -
- (A) बालक के सामाजिक विकास में ✓
(B) बालक के सर्वांगीण विकास में
(C) बालक के मानसिक विकास में
(D) पैसा कमाने में
80. प्रभावी शिक्षण सामग्री वह है, जो -
- (A) रंग बिरंगी तथा आकर्षक हो
(B) सभी ज्ञानेन्द्रियों को सक्रिय करती हो ✓
(C) सभी छात्रों को स्पष्ट दिखाई देती हो
(D) महंगी हो
75. The main aim of parent-teacher meeting is -
- (A) Collect donation from parents
(B) Make them aware about the programmes of school
(C) Get their help for the overall development of their child
(D) Give them information about the weaknesses of their child
76. If the children are not understanding, what will you do?
- (A) Leave them to themselves.
(B) Criticize him.
(C) Try to explain with other methods.
(D) Try to make teaching easy by giving examples.
77. Students of your school are going for ten days tour. Principal has asked you to go with students. What is your opinion in this regard?
- (A) My time will be wasted.
(B) I will gain new knowledge.
(C) Interrelations will develop with students.
(D) There will be lot of entertainment.
78. The primary objective of nursery school is to -
- (A) keep the students in practical situations
(B) train the students to adjust to the daily routine of school
(C) prepare them for social development
(D) provide home like environment to children of busy parents of modern era
79. Education mainly helps in -
- (A) social development of the child
(B) all-round development of the child
(C) mental development of the child
(D) earning money
80. An effective teaching-aid is one which -
- (A) is colourful and attractive
(B) activates all sense organs
(C) is clearly visible to all students
(D) is expensive



81. करके सीखना उपयोगी है, क्योंकि -
- (A) विद्यार्थी स्वयं करके अधिक समझत है ✓
 - (B) इससे अनुशासन रहता है
 - (C) विद्यार्थी क्रियाशील रहते हैं
 - (D) इसमें समय अत्यधिक व्यय होता है

82. प्राथमिक स्तर पर शिक्षा का माध्यम मातृभाषा होना चाहिए -

- (A) देशप्रेम की भावना विकसित करने के लिए
- (B) मातृभाषा के विकास के लिए ✓
- (C) विद्यार्थियों को पाठ्यवस्तु समझने में सुविधा के लिए
- (D) अध्यापन कार्य को सरल बनाने के लिए

83. जब आपको कोई उत्तरदायित्व दिया जाता है, तब -

- (A) आप उत्तरदायित्व से दूर रहना चाहेंगे
- (B) आप उत्तरदायित्व को निभाने में आनन्द लेंगे
- (C) उत्तरदायित्व को अवसर के रूप में लेंगे
- (D) उत्तरदायित्व का स्वीकार कर लेंगे किन्तु देने वाले को भला-बुरा कहेंगे

84. प्रधानाचार्य का अध्यापकों के प्रति व्यवहार होना चाहिए -

- (A) अवसरवादी
- (B) प्रभावपूर्ण
- (C) निष्पक्ष
- (D) अनुशासनात्मक ✓

85. यदि विद्यार्थी आपकी कक्षा में अनुपस्थित रहते हैं, तो आप सर्वप्रथम क्या करेंगे?

- (A) परिस्थितियों का देखते हुए चुप रहेंगे।
- (B) प्रधानाध्यापक एवं अभिभावकों को सूचित करेंगे।
- (C) कुछ रुचिकर शिक्षण विधियों के प्रयोग के बारे में सोचेंगे।
- (D) कारणों का जानने और उन्हें दूर करने का प्रयास करेंगे। ✓

81. Learning by doing is useful, because -
- (A) students understand more about themselves
 - (B) it maintains discipline
 - (C) students remain active
 - (D) too much time is consumed

82. At primary level, medium of education should be mother tongue -

- (A) to develop feeling of patriotism
- (B) to help in developing mother tongue
- (C) to facilitate students in understanding the content
- (D) to make teaching work easy

83. When you are given a responsibility -

- (A) You will stay away from the responsibility
- (B) You will enjoy performing the responsibility
- (C) You will accept the responsibility as an opportunity
- (D) You will accept it but curse the person who has given it to you

84. Behaviour of the Principal towards teachers should be -

- (A) Opportunistic
- (B) Effective
- (C) Impartial
- (D) Disciplinary

85. If students do not attend your class, what will you do first?

- (A) Keep quiet considering the situation
- (B) Report to the Principal and parents.
- (C) Think of using some interesting method of teaching.
- (D) Know the reasons and try to remove them.

86. पहला किंडरगार्टन किसके द्वारा शुरू किया गया था? 86. The first kindergarten was started by -
- (A) विलियम जेम्स ✓
 (B) बेंजामिन फ्रैंकलिन
 (C) फ्रेडरिक विल्हेम फ्रोबेल
 (D) जोहान पेस्टालोजी
87. शिक्षण में प्रभावी पारस्परिक सम्बन्धों के लिए शिक्षक की आवश्यकता होती है, कि वह - 87. Effective interpersonal situations in teaching requires the teacher to -
- (A) छात्रों की व्यक्तिगत जरूरतों को नज़रअंदाज़ करे।
 (B) डर के माध्यम से अधिकार को थोपना।
 (C) छात्रों की राय और भावनाओं का सम्मान करे।
 (D) छात्रों के साथ प्रदर्शन सम्बन्ध बनाए रखे।
88. एक शिक्षक को बाल-मनोविज्ञान का ज्ञान होना चाहिए जो सहायक है - 88. Teacher should have knowledge of child psychology as it -
- (A) शिक्षक को विद्यार्थियों के व्यवहार से परिचित होने में
 (B) शिक्षक को छात्रों की तुलना करने और पहचानने में
 (C) शिक्षण कार्य को सरल करने में
 (D) विद्यार्थियों की भावनाओं को समझने के लिए
89. शिक्षण में पारस्परिक संबंधों का योगदान होता है - 89. Interpersonal relations in teaching contribute to -
- (A) प्रतिकूल शिक्षण वातावरण बनाना ✓
 (B) छात्र प्रेरणा और सहभागिता को बढ़ाना
 (C) छात्र भागीदारी को सीमित करना
 (D) छात्रों के बीच प्रतिस्पर्धा को प्रोत्साहित करना
- (A) ignore students individual needs.
 (B) impose authority through fear.
 (C) respect students opinion and feelings.
 (D) maintain a display relationship with students.
- (A) helps the teacher in knowing students behaviour
 (B) helps the teacher in comparing and identifying students
 (C) makes teaching work easy
 (D) helps the teacher in understanding the feeling of students
- (A) creating a hostile learning environment
 (B) enhancing student motivation and engagement
 (C) limiting student participation
 (D) encouraging competition among students



90. छात्रों में आलोचनात्मक सोच कौशल को बढ़ावा देने के लिए क्या आवश्यक है?

- (A) याद रखने की क्षमता ✓
- (B) रचनात्मकता
- (C) रट कर सीखना
- (D) सूचना की पुनरावृत्ति

91. आई सी टी (I.C.T.) प्रतिनिधित्व करता है -

- (A) इंटरनेशनल कम्यूनिकेशन टेक्नोलॉजी
- (B) इन्ट्रा कॉमन टर्मिनोलॉजी
- (C) इन्टर कनेक्टेड टर्मिनल
- (D) इनफॉर्मेशन और कम्यूनिकेशन टेक्नोलॉजी ✓

92. एक छात्र जल्दी सीखता है, जबकि दूसरे छात्र को सीखने में अधिक समय लगता है, यह सिद्धान्त दर्शाता है -

- (A) सामान्य से विशिष्ट तक
- (B) व्यक्तिगत विभिन्नताएं ✓
- (C) निरंतरता
- (D) अंतर्संबंध

93. सामाजिक रूप से परिपक्व शिक्षक की प्रमुख विशेषता क्या है?

- (A) वे सहकर्मियों के साथ सहयोग करने से बचते हैं।
- (B) वे छात्रों और सहकर्मियों के प्रति परानुभूति और सम्झ प्रदर्शित करते हैं।
- (C) वे पेशेवर रिश्तों पर अपने व्यक्तिगत हित को प्राथमिकता देते हैं।
- (D) उनमें भावनात्मक बुद्धिमत्ता की कमी प्रदर्शित होती है। ✓

94. रचनात्मक मूल्यांकन का प्राथमिक लक्ष्य क्या है?

- (A) ग्रेड असाईट करने के लिए ✓
- (B) विद्यार्थियों के सीखने का मूल्यांकन करना ✓
- (C) सुधार के लिए प्रतिक्रिया प्रदान करना
- (D) अंतिम उपलब्धि का मापन के लिए

90. What is essential for promoting critical thinking skills in students?

- (A) Memory retention ✓
- (B) Creativity
- (C) Rote learning
- (D) Repetition of information

91. I.C.T. represents -

- (A) International Communication Technology
- (B) Intra Common Terminology
- (C) Inter Connected Terminal
- (D) Information and Communication Technology ✓

92. One student learns quickly, while another student takes longer to learn. This phenomenon denotes the -

- (A) General to specific
- (B) Individual differences ✓
- (C) Continuity
- (D) Interrelationship

93. What is the key characteristic of a socially mature teacher?

- (A) They avoid collaboration with colleagues.
- (B) They demonstrate empathy and understanding towards students and colleagues. ✓
- (C) They prioritize their personal interests over professional relationships.
- (D) They exhibit a lack of emotional intelligence.

94. What is the primary goal of formative assessment?

- (A) To assign grades
- (B) To evaluate students learning ✓
- (C) To provide feedback for improvement
- (D) To measure final achievement

95. गृहकार्य जरूरी है -
- (A) यह छात्रों को घर पर पढ़ाई करने में मदद करता है। ✓
- (B) स्वाध्याय का विकास करना।
- (C) विद्यार्थी की समझ का विश्लेषण करना।
- (D) लेखन कौशल विकसित करने के लिए।
96. विद्यालय स्तर पर शिक्षा का शैक्षणिक पक्ष किसके द्वारा नियंत्रित होता है?
- (A) विश्वविद्यालय अनुदान आयोग
- (B) राष्ट्रीय अध्यापक शिक्षा परिषद ✓
- (C) राष्ट्रीय शैक्षिक योजना एवं प्रशासन संस्थान
- (D) राष्ट्रीय शैक्षिक अनुसंधान एवं प्रशिक्षण परिषद
97. भारतीय ग्रामीण विद्यालयों की मुख्य समस्या है -
- (A) उचित संसाधनों का अभाव
- (B) अच्छे शिक्षकों की कमी
- (C) शिक्षा के प्रति जागरूकता की कमी ✓
- (D) उपरोक्त सभी ✓
98. शिक्षा में विद्यार्थी की सफलता मुख्य रूप से निर्भर करता है -
- (A) शिक्षा की गुणवत्ता पर ✓
- (B) निजी शिक्षण पर
- (C) स्कूल में सुविधाएं
- (D) घर में सुविधाएं
99. आपके विचार में शिक्षण का पेशा है -
- (A) आरामदायक
- (B) सम्मानित ✓
- (C) अच्छा वेतन
- (D) निराशाजनक
100. एक अध्यापक होने के नाते आपके अनुसार राष्ट्र के विकास में बड़ी रुकावट है -
- (A) जनसंख्या वृद्धि
- (B) निरक्षरता ✓
- (C) राजनैतिक हस्तक्षेप
- (D) प्रदूषण
95. Home-work is useful as -
- (A) it help students to study at home.
- (B) it develops self-study
- (C) it analyses understanding of student
- (D) it develops writing skill
96. Academic part of Education at school level is controlled by -
- (A) University Grants Commission
- (B) National Council for Teacher Education
- (C) National Institute of Educational Planning and Administration
- (D) National Council for Educational Research and Training
97. Main problem of Indian rural schools is -
- (A) Lack of proper resources
- (B) Lack of good teacher
- (C) Lack of awareness about education
- (D) All of the above
98. Success of students in education mainly depends on -
- (A) Quality Education
- (B) Private Tuition
- (C) Facilities in School
- (D) Facilities in Home
99. In your view teaching profession is -
- (A) Comfortable
- (B) Respectable
- (C) Good salary
- (D) Disappointment
100. As a teacher according to you the main hurdle in the development of the nation is -
- (A) Increase in population
- (B) Illiteracy
- (C) Political Interference
- (D) Pollution



भाग-स / Section-C
सामान्य जागरूकता / General Awareness

101. QUAD के सदस्य देश कौन-कौन से हैं?
 (A) भारत, ऑस्ट्रेलिया, जापान, संयुक्त राज्य अमेरिका
 (B) भारत, कनाडा, जापान, संयुक्त राज्य अमेरिका
 (C) भारत, कनाडा, युनाइटेड किंगडम, संयुक्त राज्य अमेरिका
 (D) भारत, कनाडा, जापान, युनाइटेड किंगडम
102. हाल ही में किस देश ने अपना दसकों का तटस्थता रुख/रवैया छोड़कर NATO की सदस्यता ले ली?
 (A) डेनमार्क (B) फिनलैंड
 (C) स्वीडन (D) नीदरलैंड
103. जातक कथाएँ किस महान व्यक्ति से सम्बन्धित हैं?
 (A) महावीर (B) गौतम बुद्ध
 (C) शंकराचार्य (D) विष्णु
104. अश्विनी, रोहिणी, सिंहरिषा की किन्हीं में -
 (A) मृगशिरा (B) मीन
 (C) मीन (D) मृगशिरा
105. गाँधी से गांधीजी ने किस आन्दोलन की शुरुआत की थी?
 (A) सत्याग्रह (B) स्वतंत्रता आन्दोलन
 (C) भारत छोड़ो (D) अश्वमेध
106. निम्न में से कौनसा रोग राजस्थान के कानूरी के जिले में अधिकतम अधिकतम रोग है?
 (A) कैंसर (B) डिप्थीरिया
 (C) डिप्थीरिया (D) प्रवाह की इकाई क्या है?
107. विद्युत की इकाई क्या है?
 (A) किलोवॉल्ट (B) एम्पीयर
 (C) वॉट (D) माल
108. गुर्नाम मोनट्रियल प्रोमिस सम्बन्धित है -
 (A) जीव-विविधता से
 (B) जलवायु परिवर्तन से
 (C) कोयला के संरक्षण से
 (D) जंगलों के संरक्षण से
101. Which countries are members of QUAD?
 (A) India, Australia, Japan, United States of America
 (B) India, Canada, Japan, United States of America
 (C) India, Canada, United Kingdom, United States of America
 (D) India, Canada, Japan, United Kingdom
102. Which country ended its neutrality stance decades and joined NATO recently?
 (A) Denmark (B) Finland
 (C) Sweden (D) Netherlands
103. Jataka Tales are related to which personality?
 (A) Mahavir (B) Gautam Buddha
 (C) Shankaracharya (D) Vishnu
104. Arabica, Robusta, Labrica are varieties of -
 (A) Groundnut (B) Cashew
 (C) Coffee (D) Tea
105. Which movement did Gandhiji launch from Dandi?
 (A) Satyagrah (B) Civil Disobedience
 (C) Quit India (D) Non-Cooperation
106. Which is a notified disease under Government Acts in Rajasthan?
 (A) Pneumoconiosis (B) Covid
 (C) Cancer (D) Diphtheria
107. What is the unit of Electric current?
 (A) Kelvin (B) Ampere
 (C) Watt (D) Mole
108. The Kunming Montreal Framework is related to -
 (A) Bio-diversity (B) Climate change
 (C) Preservation of Whales (D) Preservation of forests



109. जवाहरलाल नेहरू बंदरगाह किसका उपग्रह बंदरगाह है?
- (A) मारमगोजी बंदरगाह
(B) कांडला बंदरगाह
(C) मुंबई बंदरगाह
(D) न्यू मैंगलोर बंदरगाह ✓
110. वीर विनोद ग्रन्थ (एक काव्य ग्रन्थ) के लेखक कौन हैं?
- (A) चंद बरदाई
(B) मंदन
(C) श्यामल दास ✓
(D) आचार्य सोमदेव
111. 2011 की जनगणना के अनुसार राजस्थान में अनुसूचित जनजातियों का प्रतिशत है -
- (A) 13.5 (B) 12.4 ✓
(C) 16.8 (D) 17.4
112. 'आसियान - भारत मिलते फेस्टिवल 2023' का मेजबान कौनसा देश था?
- (A) म्यांमार ✓ (B) लाओस
(C) वियतनाम (D) इंडोनेशिया
113. म्याठ के कौनसे शासक द्वारा संगीत राज सूद प्रबन्ध संगीत रत्नाकर, रसिक प्रिया की रचना की गयी?
- (A) राना कुम्भा
(B) राना सांगा
(C) राना उदयसिंह
(D) राज सिंह ✓
114. कौनसी नदी यमुना की सहायक नदी नहीं है?
- (A) बाणगंगा ✓ (B) बेजब
(C) बनस (D) काहली
115. किसे ने ने किसे टोडगढ़ किले में छह साल के लिए कारावास की सजा दी गयी थी?
- (A) राम गोपाल सिंह खारवा
(B) प्रताप सिंह बारहठ ✓
(C) सागरमल गोपा
(D) दौलतमल भंडारी
116. राज्यों के साथ संधि करने वाला पहला राज्य था -
- (A) कोटा (B) डूंगी
(C) मेवाड़ ✓ (D) जयपुर
117. निम्न में से कौनसी धातु हाउस गैस (GH₆) है?
- (A) CO₂
(B) CH₄
(C) जलवाष्प
(D) उपरोक्त सभी ✓
109. Jawaharlal Nehru Port is a satellite port of -
- (A) Mormugao Port
(B) Kandla Port
(C) Mumbai Port
(D) New Mangalore Port
110. Who is the writer of the book 'Veer Vinod' (A Kavya Granth)?
- (A) Chand Baradai
(B) Mandan
(C) Shyamal Das ✓
(D) Acharya Somdev
111. According to 2011 Census, the percentage of Scheduled Tribe in Rajasthan is -
- (A) 13.5 (B) 12.4 ✓
(C) 16.8 (D) 17.4
112. Which country was the host of "ASEAN-India Millet Festival, 2023"?
- (A) Myanmar (B) Laos
(C) Vietnam (D) Indonesia
113. Sangeetraj, Sood Prabandha, Sangeet Ratnakar and Rasik Priya have been composed by which ruler of Mewar?
- (A) Rana Kumbha
(B) Rana Sanga
(C) Rana Udai Singh
(D) Raj Singh
114. Which river is not a tributary of Yamuna?
- (A) Banganga (B) Berach
(C) Banas (D) Katali
115. Which of the following was sentenced four years imprisonment in Todgarh Fort?
- (A) Rao Gopal Singh Kharwa
(B) Pratap Singh Barhat
(C) Sagarmal Gopa
(D) Daulatmal Bhandari
116. The first state to sign a treaty with the Britishers was -
- (A) Kota (B) Bundi
(C) Mewar (D) Jaipur
117. Which of the following is a Green House Gas (GH₆)?
- (A) CO₂
(B) CH₄
(C) Water Vapor
(D) All of the above

118. मुनरो व्यवस्था का दूसरा/अन्य नाम क्या है?
- (A) रयतवाड़ी ✓
(B) महलवाड़ी
(C) रबायी बंदोबस्त
(D) जमींदारी
119. 'गुलामगिरी' पुस्तक किसने लिखी?
- (A) ज्योतिबा फुले ✓
(B) बी.आर. अंबेडकर
(C) नारायण गुरु
(D) हरिदास ठाकुर
120. हाल ही का कानून जिसका संबंध रहने-सहन और व्यापार करने की सुगमता के लिये विश्वास आधारित शासन से है -
- (A) जन विश्वास (B) जन आधार ✓
(C) लोकपाल (D) जन शक्ति
121. हाल ही में उद्घाटित होने वाला 'अटल सेतु' कहीं पर स्थित है?
- (A) रामेश्वरम
(B) कोलकता ✓
(C) पुरी
(D) मुम्बई
122. 54वें भारतीय अन्तर्राष्ट्रीय फिल्म महोत्सव (IFFI) में किस फिल्म को सर्वश्रेष्ठ फिल्म गोल्डन पीकार्ड पुरस्कार मिला?
- (A) फेदरवेट
(B) एंडलेस बॉर्डर्स ✓
(C) वैन द सीडलिंग्स ग्रो
(D) द पार्टी ऑफ फूल्स
123. चौथी एशियाई पैरा खेल - 2022 (अक्टूबर, 2023) का आयोजन चीन के किस शहर में किया गया?
- (A) बीजिंग (B) हांगझोऊ
(C) शंघाई ✓ (D) जिआन
124. लगातार चौथी बार बांग्लादेश के प्रधानमन्त्री के रूप में किसे चुना गया?
- (A) मोहम्मद शहाबुद्दीन ✓
(B) शेख हसीना
(C) नवाज शरीफ
(D) मोहम्मद आसिफ
125. 'एक राष्ट्र एक चुनाव' के लिये गठित समिति का मंडन किन की अध्यक्षता में किया गया है?
- (A) रामनाथ कोविन्द
(B) संजय निरुपम
(C) अर्जुनराम मेघवाल
(D) आर.एस. शर्मा ✓
118. What was the other name for Munro System?
- (A) Ryotwari
(B) Mahalwari
(C) Permanent Settlement
(D) Zamindari
119. Who wrote the book 'Gulamgiri'?
- (A) Jyotiba Phule
(B) B.R. Ambedkar
(C) Narayan Guru
(D) Haridas Thakur
120. Which recent Act is related to 'Trust' based governance for ease of living and doing business?
- (A) Jan Vishwas (B) Jan Aadhar
(C) Lokpal (D) Jan Shakti
121. Where is the recently inaugurated 'Atal Setu' located?
- (A) Rameshwaram
(B) Kolkata
(C) Puri
(D) Mumbai
122. Which film received the Golden Peacock Award for the best film at the 54th International Film Festival of India (IFFI)?
- (A) Featherweight
(B) Endless Borders
(C) When the Seedlings Grow
(D) The Party of Fools
123. The 4th Asian Para Games 2022 (October 2023) were held in which city of China?
- (A) Beijing (B) Hangzhou
(C) Shanghai (D) Jian
124. Who was chosen as the Prime Minister of Bangladesh for the fourth consecutive term?
- (A) Mohammad Shahabuddin
(B) Sheikh Hasina
(C) Nawaz Sharif
(D) Mohammad Asif
125. Under whose Chairmanship was the Committee for 'One Nation One Election' formed?
- (A) Ram Nath Kovind
(B) Sanjay Nirupam
(C) Arjun Ram Meghwal
(D) R.S. Sharma

126. राष्ट्रीय खेल 2023 में सर्वश्रेष्ठ पुरुष एथलीट की ट्रॉफी किसे प्राप्त हुई?
- (A) एंसी सोजन
(B) ऐश्वर्य प्रताप सिंह तोमर
(C) सयुक्ता काले
(D) श्रीहरि नटराज ✓
127. जनवरी, 2024 में भारतीय वायुसेना के साथ अभ्यास डेज़र्ट नाइट में किन देशों ने भाग लिया?
- (A) फ्रांस और संयुक्त राज्य अमेरिका ✓
(B) फ्रांस और संयुक्त अरब अमीरात
(C) संयुक्त राज्य अमेरिका और संयुक्त अरब अमीरात
(D) फ्रांस और चीन
128. 'वन नेशन, वन स्टूडेंट आई.डी.' जो प्रत्येक छात्र को दी जायेगी, उसका नाम क्या है?
- (A) क्रेडिट आई.डी.
(B) अपार (APAAR) आई.डी.
(C) अपना (APANA) आई.डी.
(D) परमानेंट स्टूडेंट आई.डी. ✓
129. निम्नलिखित आन्दोलनों को आरोही कालक्रम के अनुसार जमाये -
- (1) होमरूल आन्दोलन
(2) सविनय अवज्ञा आन्दोलन
(3) खिलाफत आन्दोलन
(4) भारत छोड़ो आन्दोलन
- कूट -
(A) 3, 1, 2, 4
(B) 2, 1, 3, 4 ✓
(C) 1, 2, 3, 4
(D) 1, 3, 2, 4
130. भारत के किस राज्य में सबसे अधिक वन क्षेत्र है?
- (A) मध्य प्रदेश
(B) उत्तर प्रदेश
(C) राजस्थान
(D) कर्नाट ✓
131. विश्व में धाना उत्पादन में भारत का स्थान है -
- (A) 1
(B) 2 ✓
(C) 3
(D) 4
132. लेख 'मी नास्तिक क्यों हूँ' लिखा गया है -
- (A) रास बिहारी बोस द्वारा
(B) मगत सिंह द्वारा ✓
(C) सुभाषचन्द्र बोस द्वारा
(D) चन्द्रशेखर आजाद द्वारा
126. Who received the Trophy for the best male Athlete in the National Games 2023?
- (A) Ancy Sojan
(B) Aishwary Pratap Singh Tomar
(C) Sanyukta Kale
(D) Srihari Nataraj
127. Which countries participated in the 'Exercise Desert Knight' with Indian Air Force in January, 2024?
- (A) France and United States of America
(B) France and United Arab Emirates
(C) United States of America and United Arab Emirates
(D) France and China
128. What is the name of 'One Nation, One Student I.D.', which will be given to every student?
- (A) Credit I.D.
(B) APAAR I.D.
(C) APANA I.D.
(D) Permanent student I.D.
129. Arrange the following movements in the ascending chronological order -
- (1) Home Rule Movement
(2) Civil Disobedience Movement
(3) Khilafat Movement
(4) Quit India Movement
- Code -
(A) 3, 1, 2, 4
(B) 2, 1, 3, 4
(C) 1, 2, 3, 4
(D) 1, 3, 2, 4
130. Which state has maximum forest area in India?
- (A) Madhya Pradesh
(B) Uttar Pradesh
(C) Rajasthan
(D) Kerala
131. What is the rank of India in the production of yarn in the world?
- (A) 1
(B) 2
(C) 3
(D) 4
132. The Article 'Why I am an Atheist' was written by -
- (A) Rasbihari Bose
(B) Bhagat Singh
(C) Subhash Chandra Bose
(D) Chandra Shekhar Azad

133. सौर ऊर्जा को बढ़ावा देने के लिये भारत सरकार द्वारा कौनसी योजना आरम्भ की गई?

- (A) पीएम - सूर्य घर
(B) पीएम - हर घर सूर्य ✓
(C) पीएम - भास्कर घर
(D) पीएम - हर घर सवेरा

134. निम्नांकित में से कौनसी गैस ओजोन क्षरण के लिये प्रत्यक्षत उत्तरदायी नहीं है?

- (A) क्लोरो-फ्लोरो कार्बन ✓
(B) कार्बन डाईऑक्साइड
(C) नाइट्रस ऑक्साइड
(D) हाइड्रो-कार्बन

135. पुरास्थल 'आहड़' से प्राप्त प्राचीन अवशेष संबंधित है -

- (A) कांस्य युग से
(B) लौह युग से ✓
(C) ताम्र पाषाण युग से
(D) पुनः प्राथम युग से

136. गोविन्द गिरि का प्रमुख शिष्य कौन था?

- (A) पूजा धीरजी
(B) मोतीलाल तेजावत ✓
(C) ठाकुरी पटेल
(D) तेजा धीरजी

137. राजस्थान के किस जिले में 'जर्गा पर्वत' है?

- (A) सिरोंही ✓ (B) उदयपुर
(C) अलवर (D) जयपुर

138. राजस्थान का पहला मानु अम्यारण्य है -

- (A) ताल छापर (B) कनक सागर ✓
(C) बंध बरेठा (D) सुधा माता

139. राजा अजमल किस लोक देवता के पिता थे?

- (A) राम देवजी ✓
(B) पाबुजी
(C) देव नारायणजी
(D) तेजाजी

140. गवरी हवी राजस्थान की किस गायन शैली से जुड़ी है?

- (A) लंगा (B) मंगानियार ✓
(C) मंड (D) तालबंदी

133. Which Scheme was started by the Government of India to promote Solar Energy?

- (A) PM - Surya Ghar
(B) PM - Har Ghar Surya ✓
(C) PM - Bhaskar Ghar
(D) PM - Har Ghar Saver

134. Which of the following gas is not directly responsible for Ozone depletion?

- (A) Chlorofluoro Carbon
(B) Carbon Dioxide
(C) Nitrous Oxide
(D) Hydrocarbons

135. The ancient remains obtained from archaeological site 'Ahir' are related to -

- (A) Bronze Age
(B) Iron Age ✓
(C) Chalcolithic Age
(D) Palaeolithic Age

136. Who was the main disciple of 'Govind Giri'?

- (A) Punja Dbeer ji
(B) Motilal Tejawat ✓
(C) Thakur Patel
(D) Teju Dbeer ji

137. 'Jarga mountain' is located in which district of Rajasthan?

- (A) Sirohi (B) Udaipur
(C) Alwar (D) Jaipur

138. The first Conservation Reserve for Bear in Rajasthan is -

- (A) Tal Chhapar (B) Kanak Sagar ✓
(C) Band Baretha (D) Sundha Mata

139. Raja Ajmal was the father of which folk deity?

- (A) Ramdev ji
(B) Pabuji ✓
(C) Devnarayan ji
(D) Tejaji

140. With which singing tradition is Gavari Devi associated?

- (A) Langa (B) Manganiyar ✓
(C) Mand (D) Talabandi



141. किस शिल्पी के नेतृत्व में रणकपुर मंदिर का निर्माण हुआ?
- (A) हरबन्स (B) दीपक
(C) मुकुंद (D) दयाल
142. निम्न में से किस सूचकरे रेशे के नाम से जाना जाता है?
- (A) कपास (B) चाय
(C) कॉफी (D) जूट
143. राजस्थान में बहने वाली सबसे लम्बी नदी है -
- (A) माही (B) चम्बल
(C) लूनी (D) बनास
144. संयुक्त राष्ट्र संघ मानव विकास सूचकांक, 2022 में भारत को किस पायदान पर बतलाया गया है?
- (A) 138 (B) 134
(C) 122 (D) 149
145. चन्द्रगुप्त मौर्य का शासन कब शुरू हुआ?
- (A) 380 ई.पू. (B) 410 ई.पू.
(C) 321 ई.पू. (D) 434 ई.पू.
146. नोबेल पुरस्कार विजेता सी.वी. रमन किस क्षेत्र से जुड़े थे?
- (A) भौतिक शास्त्र
(B) रसायन शास्त्र
(C) गणित
(D) साहित्य
147. भारत के किस राज्य का टिन अयस्क के क्षेत्र में एकाधिकार है?
- (A) बिहार (B) छत्तीसगढ़
(C) मणिपुर (D) उत्तराखण्ड
148. भारतीय आई.बी.ए. का स्थापना दिवस है -
- (A) 1 अप्रैल (B) 30 जनवरी
(C) 14 अप्रैल (D) 26 नवम्बर
149. गिद्धा लोक नृत्य है -
- (A) महाराष्ट्र (B) केरल
(C) पंजाब (D) गुजरात
150. भारत का बिस्मार्क किसे कहा जाता है?
- (A) जे.एल. नेहरू
(B) बी.आर. अम्बेडकर
(C) राजेन्द्र प्रसाद
(D) सरदार पटेल
141. Under the direction of which architect the temple of Ranakpur was built?
- (A) Harbans (B) Deepak
(C) Mukund (D) Dayal
142. Which of the following is known as Golden Fibre?
- (A) Cotton (B) Tea
(C) Coffee (D) Jute
143. The longest river flowing in Rajasthan is -
- (A) Mahi (B) Chambal
(C) Luni (D) Banas
144. At what rank has India been shown in the United Nations Human Development Index, 2022?
- (A) 138 (B) 134
(C) 122 (D) 149
145. When did Chandra Gupta Maurya become the ruler?
- (A) 380 BC (B) 410 BC
(C) 321 BC (D) 434 BC
146. Nobel Prize Winner C.V. Raman is related to which field?
- (A) Physics
(B) Chemistry
(C) Maths
(D) Literature
147. Which state has the monopoly in the field of tin ore in India?
- (A) Bihar (B) Chhattisgarh
(C) Manipur (D) Uttarakhand
148. Foundation day of I.B.A. is -
- (A) 1st April (B) 30th January
(C) 14th April (D) 26th November
149. Giddha is the folk dance of -
- (A) Maharashtra (B) Kerala
(C) Punjab (D) Gujarat
150. Who is called Bismarck of India?
- (A) J.L. Nehru
(B) B.R. Ambedkar
(C) Rajendra Prasad
(D) Sardar Patel

भाग-द / Section-D
अंग्रेजी / English

151. "The cat chased the mouse." can be changed to Passive Voice as -
 (A) The mouse was chased by the cat.
 (B) The mouse has been chased by the cat.
 (C) The mouse is being chased by the cat.
 (D) The mouse chased the cat.
152. Which sentence has used Article correctly?
 (A) A cat is on the roof.
 (B) An cat is on the roof.
 (C) The cat is on the roof.
 (D) Cat is on the roof.
153. Fill in the blank -
 She is intelligent student.
 (A) a
 (B) an
 (C) the
 (D) be
154. Choose the sentence that correctly uses the determiner "little" -
 (A) He drank little water after the exercise.
 (B) He drank water little after the exercise.
 (C) He drank a little water after the exercise.
 (D) He little drank water after the exercise.
155. Fill in the correct verb -
 They to the party last night.
 (A) go
 (B) goes
 (C) went
 (D) going
156. 'A piece of cake' means -
 (A) An easy task
 (B) A complicated issue
 (C) A tasty dessert
 (D) A big surprise
157. Choose the synonym of 'Brave' -
 (A) Courageous
 (B) Fearless
 (C) Cowardly
 (D) Timid
158. Which modal verb is used to express possibility/probability?
 (A) Can
 (B) Shall
 (C) Will
 (D) Might
159. Choose the correct option -
 I swim when I was a boy.
 (A) could
 (B) should
 (C) may
 (D) must
160. Which suffix can be added to the word 'develop' to make it a Noun?
 (A) - ing
 (B) - ed
 (C) - ness
 (D) - ment
161. Which of the following is a Simple Sentence?
 (A) She cooked dinner and cleaned the house.
 (B) The cat sat on the mat.
 (C) Although it rained we still went for a walk.
 (D) He studied hard for the exams but he still failed.
162. Which of the following is a Compound Sentence?
 (A) I like to read books.
 (B) The flowers bloomed in the garden.
 (C) He went to the store and bought some groceries.
 (D) She enjoys swimming and hiking.
163. Choose the word that is spelt correctly -
 (A) Necessary
 (B) Necessary
 (C) Necessary
 (D) Necessary
164. Identify the sentence pattern in -
 "She read books."
 (A) Subject + Verb
 (B) Subject + Verb + Object
 (C) Subject + Verb + Adjective
 (D) Subject + Verb + Adverb



- Choose the sentence with correct subject and verb concord -
- (A) The dog barks loudly every night (B) The dog bark loudly yesterday.
 (C) The dogs barks loudly everyday. (D) The dogs barked loudly tomorrow.
- Which sentence has correct subject and verb concord?
- (A) She walk to school everyday. (B) He play soccer with his friends.
 (C) The children enjoys playing in the park. (D) They are studying for their exams.
- Which word means 'a sudden, violent and illegal seizure of power from a government'?
- (A) Rebellion (B) Revolution (C) Coup (D) Uprising
- Select the correctly spelt word -
- (A) Tariff (B) Tarrif (C) Tareif (D) Tarife
- Select the prefix in 'fused' so that it becomes synonym to 'bewildered'.
- (A) - be (B) - sur (C) - con (D) - to
- Select the prefix in 'guile' so that it becomes synonym to 'deceive'.
- (A) - sur (B) - be (C) - con (D) - to
- The role of zoo is to preserve animals
- (A) rare (B) extinct (C) common (D) dead
- "He is a man of his words" means -
- (A) Trustworthy (B) Dependable
 (C) Reliable (D) All of the above
- Fill in the blank -
- The boy jumped..... the roof.
- (A) in (B) to (C) from (D) of
- He cannot swim he can play tennis.
- (A) neither (B) both (C) either (D) but
- He has lived in that house several years.
- (A) since (B) from (C) for (D) during
- Identify the kind of sentence -
- The boy was pleased at winning the prize.
- (A) Simple (B) Complex
 (C) Compound (D) Both (B) and (C)
- Identify the kind of sentence -
- 'We desire to reap therefore we sow.'
- (A) Simple (B) Complex
 (C) Compound (D) Both (B) and (C)
- I need information.
- (A) a (B) some (C) a few (D) many
- I gave him money.
- (A) a few (B) few (C) some (D) a
- The teacher said, "The mice will play, when the cat is away".
- (A) The teacher said that the mice shall play after the cat is away.
 (B) The teacher said that the mice will play, when the cat is away.
 (C) The teacher said the mice would be playing when the cat was away.
 (D) The teacher said that the mice would play when the cat would be away.
- It is not a beginning, it is an
- (A) end (B) success (C) fail (D) less

भाग-द/Section-D
हिन्दी/Hindi

4. निम्नलिखित में से तदसम शब्द है -
(A) सूर्य (B) आग (C) घड़ी (D) हाथ
5. निम्नलिखित में से तदसम शब्द नहीं है -
(A) घी (B) काम (C) सूरज (D) गृह
6. निम्नलिखित में से किसमें स्वर नहीं है?
(A) गवामि (B) सद्वार्णी (C) उत्साह (D) दिग्गज
7. निम्नलिखित में से किस विकल्प में सभी शब्द शुद्ध हैं?
(A) उंचाई, उन्नति (B) क्रायित्री, गृहस्थ (C) ईश्वी, वृज (D) बाहमण, विधि
8. निम्नलिखित में से स्त्रीलिपि शब्द नहीं है -
(A) दया (B) न्याय (C) माया (D) कृपा
9. निम्नलिखित में से जे उपसर्ग से बना शब्द है -
(A) अनुरूप (B) अवस (C) अपवसा (D) अवगुण
10. निम्नलिखित में से किस पद में कर्मधारय समास है?
(A) नीलकमल (B) त्रिभुवन (C) आमरण (D) भाई-बहन
11. निम्नलिखित में से भाववाचक संज्ञा नहीं है -
(A) गरमी (B) हाथ (C) मुक्ति (D) उत्साह
12. निम्नलिखित में से किस विकल्प में व्यक्तिवाचक संज्ञाएँ हैं?
(A) कमरा, कागज (B) गंगा, ताजमहल (C) खुशी, पूजा (D) व्यापार, अपमान
13. निम्नलिखित में से कौनसा पुरुष है?
(A) मध्यपुरुष (B) उत्तमपुरुष (C) अन्यपुरुष (D) परपुरुष
14. सूखा और हरा निम्नलिखित में से कौनसा विशेषण है?
(A) गुणवाचक (B) संख्यावाचक (C) परिमाणवाचक (D) सांकेतिक
15. निम्नलिखित में से दीर्घ स्वर नहीं है -
(A) आ (B) ज (C) ई (D) ऐ
16. 'रश्मि' और 'कर' निम्नलिखित में किसके पर्यायवाची हैं?
(A) किरण (B) पद (C) इच्छा (D) सरिता
17. निम्नलिखित में से किस विकल्प में सभी शब्द भवन के पर्यायवाची हैं?
(A) घर, निकेतन, प्रमा (B) सदन, प्रमा, सरोज (C) आवास, निलय, गृह (D) आगार, धाम, जमूत
18. निम्नलिखित में से अशुद्ध विकल्प है -
(A) प्रत्यक्ष - अँतों से परे (B) पराधीन - जो पर के अधीन है (C) दृष्टव्य - देखने योग्य (D) विश्वस्त - जिस पर विश्वास किया गया है
19. निम्नलिखित में से किस विकल्प में सभी शब्द शुद्ध हैं?
(A) हिंदू, लुपर (B) गुरु, आयु (C) भाषाएँ, तेना (D) ऐतिहासिक, चाहिए
20. धीरे-धीरे निम्नलिखित में से क्या है?
(A) क्रिया (B) क्रिया विशेषण (C) संज्ञा (D) सर्वनाम
21. धरती में गडगना का अर्थ है -
(A) लज्जित होना (B) मन अशांत होना (C) हार जाना (D) उदास हो जाना
22. कष्ट पर कष्ट आना के लिये उपयुक्त है -
(A) घर का मेदी लाना बाए (B) कगाली में आटा गीला (C) घर फूँक उतारना (D) नाव ना जाने जीगन टेंटा

182. If it is not closed, it is
 (A) less (B) success (C) open (D) fly
183. Select the option that will mean 'Chief' when suffix 'er' is added to it -
 (A) feeder (B) leader (C) creeder (D) needer
184. The tiger runs of all animals.
 (A) fastest (B) fast (C) faster (D) fasted
185. Delhi is cleaner than city in Bihar.
 (A) few (B) any (C) least (D) good
186. Identify the proper sequence of the jumbled sentence -
 (P) to be (Q) wants (R) my brother (S) a teacher
 (A) SQPR (B) PSQR (C) QRPS (D) RQPS
187. Identify the proper sequence of jumbled sentence -
 (P) please (Q) the grass (R) step on (S) do not
 (A) PSRQ (B) QPSR (C) SPQR (D) RQSP
188. We see moon at night.
 (A) zero article (B) an (C) a (D) the
189. They formed union.
 (A) zero article (B) an (C) a (D) the
190. Select the option closest in meaning to the word 'Abundant' -
 (A) Heavy (B) Bountiful (C) Precious (D) Popular
191. Mark the odd one out -
 (A) Humble (B) Rude (C) Harsh (D) Impolite
192. It has been raining morning.
 (A) since (B) from (C) with (D) by
193. Find out the meaning of the phrase 'see eye to eye'.
 (A) Showing eye (B) Getting angry
 (C) To agree with someone (D) Disagree
194. Which prefix can be added before 'understanding' ?
 (A) - mis (B) - un (C) - de (D) - multi
195. Add suffix to the word 'sad'.
 (A) -ism (B) -ment (C) -ness (D) -fully
196. Explain the meaning of idiom 'Once in a Blue Moon'.
 (A) to do it very rarely (B) to be on the top of sky
 (C) to love someone deeply (D) to hate someone
197. Arrange the sentence in correct sequence -
 (P) for I have (Q) run out of milk (R) to the shop (S) I am going
 (A) PQRS (B) SRQP (C) SRPQ (D) RSQP
198. Find out the antonym of the word 'Destroy'.
 (A) Annul (B) Create (C) Replicate (D) Finish
199. What is the synonym of 'Appreciate' ?
 (A) Depreciate (B) Require (C) Value (D) Auspicious
200. The synonym of 'Baffle' is -
 (A) Bewilder (B) Cheerful (C) Attribute (D) Price

170. निम्न में से कौनसा विकल्प सही है?
- (A) अपनी कमी उतारती - अवसर निकल जाने पर वास्तविकता व्यक्त है ✓
 (B) भर पूरे तमारा देखना - अपनी हैसियत से बढ़कर खर्च करना ✓
 (C) छोटे मुँह बड़ी बात - अपनी हैसियत से बढ़कर बात करता
 (D) लीप की औंध नहीं - सच्चे आदमी को कोई डर नहीं

(प्रश्न सं 171 से 175) निम्नलिखित गद्यांश को पढ़कर प्रश्नों के उत्तर दीजिए -

भारत में कथा आख्यान की परम्परा बहुत समृद्ध और प्राचीन है। भारतीय कविता और इतिहास का भी इस परम्परा के साथ गहरा और निरंतर सम्बन्ध रहा है। अपने समय की सांस्कृतिक, धार्मिक और ऐतिहासिक जरूरतों के तहत इसमें कई फेरबदल हुए, लेकिन चित्त विनोद से इनका नाता हमेशा बना रहा। उपदेश की सीमा तक बढ़ते जाने के बावजूद भी इनमें रोचकता हमेशा बनी रही। वेदों में कथा आख्यानो के बीज कथा के बाद में सदियों तक भारतीय साहित्य में विस्तार और पल्लवन होता रहा। बाद में यह परम्परा महाभारत, रामायण आदि के रूप में स्वतंत्र रूप में विकसित हुई।

171. उपर्युक्त गद्यांश का सर्वाधिक उपयुक्त शीर्षक है -
- (A) भारतीय कथा आख्यान की परम्परा - (B) रामायण और महाभारत
 (C) चित्त विनोद (D) वेदों में कथा आख्यान
172. उपर्युक्त गद्यांश में प्रयुक्त 'चित्त विनोद' का क्या अर्थ है?
- (A) लोक कल्याण (B) मनोरंजन
 (C) आदर्श का अनुकरण (D) उपदेश
173. भारतीय कथा आख्यान परम्परा में समय-समय पर कुछ परिवर्तन का क्या कारण था?
- (A) विदेशी प्रभाव के कारण (B) सांस्कृतिक-धार्मिक और ऐतिहासिक जरूरतों
 (C) परम्परा के निर्वाह के लिए (D) शासकों की रुचि के कारण
174. वेदों में कथा आख्यान किस रूप में मिलते हैं?
- (A) प्रकथ और चरित्र (B) महाकाव्य और नाटक
 (C) नाट्यरस और गद्या (D) इतिहास और कथावली ✓
175. भारतीय कथा आख्यान परम्परा निम्नलिखित में से किससे सम्बन्धित नहीं है?
- (A) ज्योतिष (B) नारायणी (C) रामायण (D) महाभारत
176. सर्वनाम से बनी भाववाचक संज्ञा है -
- (A) लड़कपन (B) आनापन (C) चतुराई (D) पशुता
177. "मुझे थोड़ी घबरा दो।" यहाँ 'थोड़ी' शब्द किस विशेषण को दर्शाता है?
- (A) गुणवाचक (B) परिमाणवाचक (C) सार्वनामिक (D) सख्यावाचक
178. वह ध्वनि जिसके उच्चारण में श्वास की मात्रा कम निकलती है, कहलाती है -
- (A) अर्धस्वर (B) अर्धध्वनि (C) अर्धकारी (D) अल्पध्वनि ✓
179. 'अन्वय' शब्द का सही संधि-विच्छेद होगा -
- (A) अन्-अव्य (B) अन्+व्य (C) अन्व+य (D) अन्+अव्य
180. 'अपत्याय' शब्द में संधि है -
- (A) गुण संधि (B) वग संधि (C) व्यंजन संधि (D) विसर्ग संधि
181. 'सुखी' शब्द का सही संधि-विच्छेद होगा -
- (A) सु+खी (B) सु+ख (C) सु+खी (D) सु+खी
182. 'विदेशी' उपसर्ग से बना शब्द है -
- (A) विदेश (B) दुर्ग (C) दूरजल (D) विरक्तल



सतीश शब्द में उपसर्ग है -

- (A) स (B) सन् (C) सं (D) सम्

बहुल भंगत होना मुहावर का अर्थ होता है -

- (A) चापलूसी करना (B) पाखंडी होना (C) नेद बनाना (D) भजन करनी

बहुल चतुर्थाई दिखाना को बताने वाला मुहावरा है -

- (A) कलेजा टुक-टुक होना (B) जीभड़ चलावना (C) कान कतरना (D) *

शीघ्र प्रसन्न होने वाला कहलाता है -

- (A) शारदा (B) प्रसन्नचित्त (C) मिष्टभाषी (D) आशुतोष

वसन - वसन शब्द युग्मों का अर्थ होता है -

- (A) भूमना-बताव (B) बरत-बुरी लत (C) मदिरा-जादू (D) युद्ध-बर्तव

विलोम शब्दों को दर्शाने वाला विकल्प नहीं है -

- (A) विपदा-आपदा (B) सम्मुख-विमुख (C) श्रुति-निषा (D) सुखि-प्रलय

"प्रजानाधार्य ने सतीश को बुलाया।" दर्शाता है -

- (A) कर्तुवाच्य (B) कर्मवाच्य (C) भाववाच्य (D) समाव्यवाच्य

दुःख वर्तनी शब्द है -

- (A) प्रदर्शनी (B) आखरी (C) लौकिक (D) स्वस्थ

दुःख शब्द है -

- (A) जिष्वा (B) विन्द (C) आह्वान (D) आल्हाद

दुःख शब्द है -

- (A) शृंगार (B) सुखि (C) शृङ्खला (D) गृहिणी

यस पढ़कर से गया। वाक्य दर्शाता है -

- (A) समापिका क्रिया (B) अनुकरणात्मक क्रिया (C) प्रेरणात्मक क्रिया (D) पूर्वकालिक क्रिया

सम्बन्धित में से किस शब्द का प्रयोग सर्वदैव एकवचन में होता है?

- (A) प्रत्येक (B) औसू (C) दर्शन (D) प्राण

विषाघक संज्ञा को दर्शाने वाला विकल्प है -

- (A) आलसी (B) निज (C) मनुष्य (D) थकावट

साहस का उचित संधि विकल्प है -

(A) दुः-साहस (B) दुः+साहस (C) दुः+साहस (D) दुः+साहस

शक्ति शब्द का सही अर्थ है -

(A) आकार (B) हानि (C) वायुमण्डल (D) पृथ्वी

ही समघ में रहने वाला -

(A) सामान्यविक (B) असामयिक (C) सामयिक (D) गैर सामयिक

व्यंजन में सही है -

(A) स्वर संधि (B) व्यंजन संधि (C) गुण संधि (D) दीर्घ संधि

नर का अर्थ है -

(A) नर (B) मनुष्य (C) कठोर (D) भाग्य

MOU-IV-A

Page 31 of 32