

जेल प्रहरी परीक्षा 2025

मॉडल पेपर : 2nd

देखलो ऐसा पेपर आयेगा!

[Get PDF : Click Here](#)

Section : तार्किक और मानसिक क्षमता

Q.1 H तथा W की मासिक आय का अनुपात 4:3 है और उनके खर्च का अनुपात 3:2 है। यदि उनमें से प्रत्येक रू. 600 प्रतिमाह की बचत कर लेता है, तो W की आय कितने रूपये है ?

- Ans
- 1. रू. 3000
 - 2. रू. 2400
 - 3. रू. 1200
 - 4. रू. 1800

Q.2 X और Y की वर्तमान आयु का अनुपात क्रमशः 5:7 है। 9 वर्ष बाद यह अनुपात 4:5 होगा। X की आयु क्या है?

- Ans
- 1. 24 वर्ष
 - 2. 39 वर्ष
 - 3. 15 वर्ष
 - 4. 30 वर्ष

Q.3 निम्नलिखित को तर्कसंगत क्रम में किस प्रकार व्यवस्थित किया जाएगा।

1. अध्याय 2. शब्द 3. वाक्य 4. पुस्तक
5. अनुच्छेद

- Ans
- 1. 2, 4, 3, 1, 5
 - 2. 2, 3, 1, 5, 4
 - 3. 2, 3, 5, 1, 4
 - 4. 3, 2, 1, 4, 5

Q.4 अमित पूर्व दिशा में 15 किमी. गया, तब वह बाएं मुड़कर 5 किमी. चला, फिर बाएं मुड़कर वह 15 किमी. चला, तो अमित ने कुल कितनी दूरी तय की

- Ans
- 1. 30 किमी
 - 2. 15 किमी
 - 3. 35 किमी
 - 4. 5 किमी

Q.5 नीचे दिए गए कथनों के अनुसार कौनसा निष्कर्ष तर्कसंगत निकाला जा सकता है।
कथन : कोई जूता चप्पल नहीं है।
कुछ चप्पल सेन्डल है।

निष्कर्ष : I. कुछ सेन्डल चप्पल नहीं है।
II. सेन्डल जो चप्पल नहीं हैं जूते है।

- Ans 1. केवल निष्कर्ष I सही है
 2. दोनों निष्कर्ष सही है
 3. केवल निष्कर्ष II सही है
 4. दोनों निष्कर्ष गलत है

Q.6 2 और 3 बजे के बीच घड़ी की घण्टे तथा मिनट की सूइयां कब एक-दूसरे के विपरीत होगी या कब एक-दूसरे से 180° का कोण बनाएंगी

- Ans 1. 2 बजकर $43 \frac{7}{11}$ मिनट
 2. 2 बजकर 10 मिनट
 3. 2 बजकर $10 \frac{10}{11}$ मिनट
 4. 2 बजकर 15 मिनट

Q.7 दिए गए शब्द का का दर्पण प्रतिबिम्ब क्या होगा?

76MP03J

- Ans 1. **79PM03J**
 2. **76MP03J**
 3. **J9PM03J**
 4. **76MP03J**

Q.8 यदि किसी सांकेतिक भाषा में "PASSPORT" को "RCUURQTV" लिखा जाता है, तो "BOOKLET" को उसी भाषा में कैसे लिखा जाएगा?

- Ans 1. CPPLMFU
 2. CQQMNFV
 3. DQQMNGV
 4. DRRNMGW

Q.9 नीचे दी गई आकृति में कितने आयत हैं?



- Ans 1. 9
 2. 7
 3. 12
 4. 8

Q.10 यदि किसी सांकेतिक भाषा में "HONESTY" को "ABCXZDQ" लिखा जाता है तो "TONY" को उसी भाषा में कैसे लिखा जाएगा?

- Ans 1. QDCX
 2. CBXZ
 3. DBCQ
 4. CQDC

Q.11 निम्न में से असंगत को चुनिए ?

Ans

- 1. आदमी
- 2. मिस्त्री
- 3. मजदूर
- 4. बढ़ई

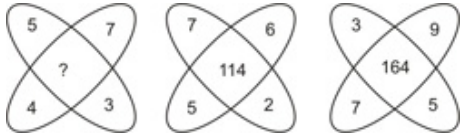
Q.12 श्रेणी 5760, 960, ?, 48, 16, 8 में लुप्त संख्या '?' क्या है ?

- Ans
- 1. 160
 - 2. 240
 - 3. 192
 - 4. 120

Q.13 एक कार 54 किमी/घंटा की गति से 15 घंटों में एक नियत दूरी तय करती है। कार ने कितनी दूरी तय की है

- Ans
- 1. 820 किमी
 - 2. 800 किमी
 - 3. 780 किमी
 - 4. 810 किमी

Q.14 निम्न प्रश्न में दिए गए विकल्पों में से प्रश्नवाचक चिन्ह के स्थान पर आने वाली संख्या ज्ञात किजीए।



- Ans
- 1. 81
 - 2. 90
 - 3. 43
 - 4. 49

Note: For this question, discrepancy is found in question/answer. Full Marks is being awarded to all candidates.

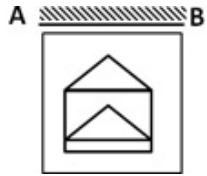
Q.15 लड़को की एक पंक्ति में रमेश का स्थान दाईं ओर से 12वाँ और बाईं ओर से 4वाँ है। बताइए कि इस कतार में कुल कितने लड़को को शामिल कर लिया जाए कि पंक्ति में कुल लड़कों की संख्या 28 हो जाए?

- Ans
- 1. 20
 - 2. 14
 - 3. 13
 - 4. 18

Q.16 जिस प्रकार मनोविज्ञान का सम्बन्ध मन से है, उसी प्रकार अंकगणित का सम्बन्ध किससे है ?

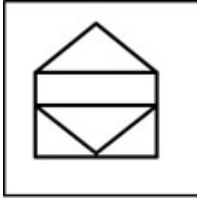
- Ans
- 1. ऊँचाई
 - 2. फॉर्मूला
 - 3. ज्ञान
 - 4. संख्या

Q.17 दिए गए विकल्पों में से प्रश्न आकृति का दर्पण प्रतिबिम्ब क्या होगा?



Ans

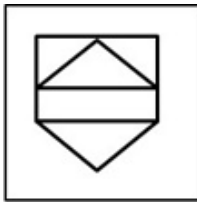
✗ 1.




✗ 2.



✗ 3.



✓ 4.



Q.18 श्रेणी 3, 8, 15, 24, ? में लुप्त संख्या '?' क्या है ?

Ans ✗ 1. 37

✓ 2. 35

✗ 3. 36

✗ 4. 38

Q.19 X दक्षिण की ओर चलना प्रारम्भ करता है। वह अपने दाईं ओर मुड़ता है और 10 मी. चलता है। वह दोबारा अपने बाईं ओर मुड़ता है और 20 मी. चलता है। अब वह किस दिशा की ओर है

Ans ✓ 1. दक्षिण

✗ 2. पश्चिम

✗ 3. उत्तर

✗ 4. पूर्व

Q.20 350 का ?% - $(6)^2 = 48$

Ans ✗ 1. 12

✓ 2. 24


✗ 3. 54

✗ 4. 42


Q.21 दिए गए आरेखों में से कौन-सा आरेख निम्न तीनों के बीच सही संबंध दर्शाता है? वकील, औरत, डॉक्टर

Ans

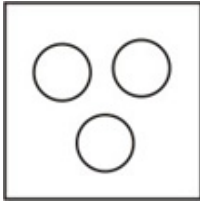
✗ 1.



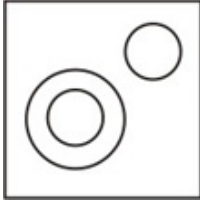
✓ 2.



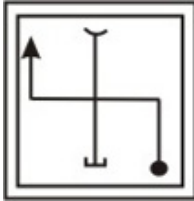
✗ 3.



✗ 4.

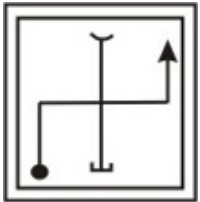


Q.22 दिए गए विकल्पों में से प्रश्न आकृति का जल प्रतिबिम्ब क्या होगा?

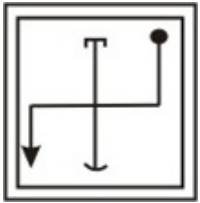


Ans

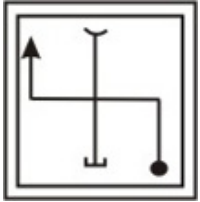
✗ 1.



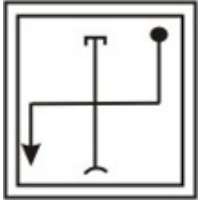
✗ 2.



✗ 3.



✓ 4.



Q.23 निम्नलिखित को तर्कसंगत क्रम में किस प्रकार व्यवस्थित किया जाएगा। 1. वयस्क 2. बच्चा 3. शिशु 4. बालक 5. किशोर

- Ans 1. 2, 3, 4, 1, 5
 2. 1, 3, 4, 5, 2
 3. 2, 3, 5, 4, 1
 4. 3, 2, 4, 5, 1

Q.24 नीचे दिए गए कथनों के अनुसार कौनसा निष्कर्ष तर्कसंगत निकाला जा सकता है।
कथन : सभी चूहे बिल्ली है।
कुछ चूहे खरगोश हैं।
निष्कर्ष : I. कुछ बिल्ली खरगोश है।
II. कुछ बिल्ली चूहे है।

- Ans 1. दोनों निष्कर्ष सही है
 2. केवल निष्कर्ष I सही है
 3. दोनों निष्कर्ष गलत है
 4. केवल निष्कर्ष II सही है

Q.25 श्यामा कहती है की राजीव के पिता के पिता, मेरे पिता है तदनुसार श्यामा का राजीव से क्या रिश्ता है

- Ans 1. मां
 2. बुआ
 3. भतीजी
 4. बहन

Q.26 16 आदमी किसी कार्य को 12 दिन में पूरा कर सकते हैं। कितने दिन में उसी कार्य को 24 आदमी पूरा कर सकते हैं ?

- Ans 1. 8
 2. 6
 3. 4
 4. 3

Q.27 पांच मित्र P, Q, R, S और T एक पंक्ति में उत्तर दिशा की ओर मुख करके बैठे हैं। S बैठा है T और Q के बीच में और Q बैठा है R के निकटतम बाईं ओर। P, T के निकटतम बाईं ओर है। बीच में कौन बैठा है?

- Ans 1. O
 2. S
 3. R
 4. T

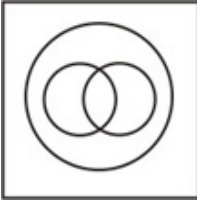
Q.28 निम्न श्रृंखला में प्रश्नवाचक चिन्ह (?) के स्थान पर क्या आएगा
ADG : FIL :: FGH : ?

- Ans 1. MLK
 2. ALK
 3. IJK
 4. KLM

Q.29 निम्नलिखित में से कौनसी आकृति मिनटों, दिनों और महीनों के बीच सही संबंध को भली-भाँति दर्शाती है?

Ans

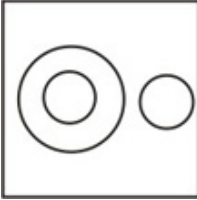
✗ 1.




✓ 2.



✗ 3.



✗ 4.



Q.30 यदि 1 जनवरी को शुक्रवार है, तो एक अधिवर्ष में मार्च का प्रथम दिन क्या होगा ?

Ans ✗ 1. शुक्रवार

✓ 2. मंगलवार

✗ 3. गुरुवार

✗ 4. बुधवार

Q.31 $\sqrt{148225}$ का मान ज्ञात करें ?

Ans ✗ 1. 355

✗ 2. 370

✗ 3. 280

✓ 4. 385

Q.32 10% तथा 5% के दो क्रमवार बट्टे किस एकमात्र बट्टे के समतुल्य हैं

Ans ✗ 1. 14%

✗ 2. 14.25%

✓ 3. 14.50%

✗ 4. 15%

Q.33 निम्न प्रश्न में दिए गए विकल्पों में से प्रश्नवाचक चिन्ह के स्थान पर आने वाली संख्या ज्ञात किजीए।

25	16	64
144	100	?
49	36	100

- Ans
- 1. 225
 - 2. 256
 - 3. 289
 - 4. 324

Q.34 दिए गए विकल्पों में से निम्नलिखित अक्षर समूह का जल प्रतिबिम्ब कौनसा होगा ?

FECUND

- Ans
- 1. **DNUCFE**
 - 2. **DNUCFED**
 - 3. **ƆEƆUƆD**
 - 4. **DNUCEF**

Q.35 एक 8 सेमी भुजा का ठोस घन जिसकी विपरीत फलके लाल, नीले व काले रंग से रंगी हुई है। इसे 2 सेमी के बराबर घनों में काटा जाता है। केवल दो फलक से रंगे हुए घनों की संख्या कितनी है?

- Ans
- 1. 8
 - 2. 16
 - 3. 20
 - 4. 24

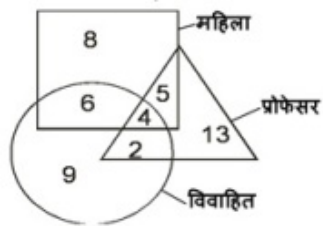
Q.36 जिस प्रकार मुर्रा का सम्बन्ध अंडा से है, उसी प्रकार पेड़ का सम्बन्ध किससे है ?

- Ans
- 1. पत्तियां
 - 2. फल
 - 3. छाल
 - 4. बीज

Q.37 निम्न में से असंगत को चुनिए ?

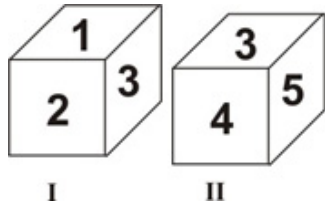
- Ans
- 1. कटारी
 - 2. ढाल
 - 3. खड्ग
 - 4. खंजर

Q.38 निम्नांकित आरेख में वृत्त विवाहित का, त्रिभुज प्रोफेसर का, और वर्ग महिला का प्रतिनिधित्व करता है तो कितनी महिला विवाहित हैं, परन्तु प्रोफेसर नहीं हैं?



- Ans 1. 6
 2. 4
 3. 11
 4. 10

Q.39 नीचे एक पासे के दो प्रारूपों को दर्शाया गया है। इस पासे में अंक 5 के विपरीत फलक पर कौन-सा अंक होंगे?




- Ans 1. 6
 2. 2
 3. 4
 4. 1

Q.40 यदि Q का अर्थ +, T का अर्थ -, R का अर्थ \div तथा K का अर्थ \times है तो $24 R 4 Q 8 K 6 T 10 = ?$

- Ans 1. 44
 2. $2/3$
 3. 48
 4. 24

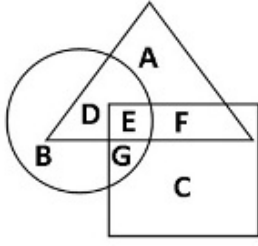
Q.41 निम्न में से किस उत्तर आकृति द्वारा प्रश्न आकृति पूरी होगी?



- Ans 1.
 2.
 3.
 4.

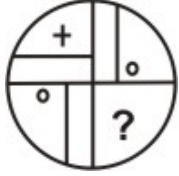
Q.42 निम्नांकित आरेख में वृत्त बुद्धिमान लोगों को, त्रिभुज सृजनात्मक लोगों को जबकि वर्ग

सुस्त लोगों को इंगित करता है तो कौन बुद्धिमान एवं सुस्त है लेकिन सृजनात्मक व्यक्ति भी है-



- Ans
- 1. A, D और E
 - 2. इनमें से कोई नहीं
 - 3. E, F और G
 - 4. E

Q.43 निम्न में से किस उत्तर आकृति द्वारा प्रश्न आकृति पूरी होगी?



- Ans
- 1.
 - 2.
 - 3.
 - 4.

Q.44 निम्न श्रृंखला में रिक्त स्थान () के स्थान पर क्या आएगा
_ op _ mo _ n _ _ pnmop _

- Ans
- 1. mnompn
 - 2. mpnmop
 - 3. mnpomn
 - 4. mnpmon

Q.45 किसी वर्ष में एक व्यक्ति की औसत मासिक आय ₹ 3,400 थी। उसकी वर्ष के प्रथम आठ माह की औसत मासिक आय ₹ 3,160 तथा अंतिम पांच माह की ₹ 4,120 थी। वर्ष के आठवें माह की उसकी आय थी ?

- Ans
- 1. ₹ 5,520
 - 2. ₹ 15,520
 - 3. ₹ 3,160
 - 4. ₹ 5,080

Section : सामान्य ज्ञान सामान्य विज्ञान और सामयिकी

Q.1 किस शहर में पहली 'भारत इंडोनेशिया उर्जा फोरम' आयोजित हुई ?

- Ans 1. जकार्ता

- 2. बंगलुरु
- 3. नई दिल्ली
- 4. बाली

Q.2 साल्ट लेक स्टेडियम कहाँ स्थित है ?

- Ans
- 1. मुम्बई
 - 2. कोलकाता
 - 3. नई दिल्ली
 - 4. चेन्नई

Q.3 भारतीय संविधान सभा की संघीय शक्ति समिति के अध्यक्ष कौन थे ?

- Ans
- 1. सरदार पटेल
 - 2. पंडित जवाहरलाल नेहरू
 - 3. डॉ. बी. आर. अम्बेडकर
 - 4. अल्लादी कृष्णास्वामी

Q.4 कौन आजाद हिन्द फौज (INA) से संबंधित नहीं है ?

- Ans
- 1. जनरल मोहन सिंह
 - 2. गुरदयाल सिंह ढिल्लो
 - 3. शाहनवाज खां
 - 4. आर. सी. दत्त

Q.5 खिलाफत आंदोलन का आरम्भ किया था ?

- Ans
- 1. अबुल कलाम आजाद
 - 2. अली बंधुओं ने
 - 3. फखरुद्दीन अली अहमद
 - 4. मुहम्मद अली जिन्ना

Q.6 तानसेन का मूल नाम क्या था ?

- Ans
- 1. रामतनु पाण्डेय
 - 2. बाज बहादुर
 - 3. मकरचंद पाण्डेय
 - 4. लाला कलावन्त

Q.7 अंतर्राष्ट्रीय आपराधिक न्यायालय का मुख्यालय कहाँ स्थित है ?

- Ans
- 1. लंदन - ब्रिटेन
 - 2. नीदरलैंड द हेग
 - 3. बासेल स्विट्जरलैंड
 - 4. नैरोबी - केन्या

Q.8 कोशिका सिद्धान्त का प्रतिपादन किसने किया ?

- Ans
- 1. डारविन और बैलेस
 - 2. श्लेडेन और श्वान
 - 3. हेक्सले
 - 4. मेण्डले और मोरगन

Q.9 V आकार की घाटी कौन बनाती है ?

- Ans 1. नदी
 2. समुद्री लहर
 3. पवन
 4. हिमनद या हिमानी

Q.10 कम्प्यूटर भाषा में फीड किया जाने वाला डाटाकहलाता है ?

- Ans 1. एल्गोरिथ्म
 2. इनपुट
 3. गणन (Calculation)
 4. करंट

Q.11 क्लोरोफिल अणु में निम्नलिखित में से क्या मौजूद रहता है ?

- Ans 1. Mn
 2. Fe
 3. Mg
 4. K

Q.12 प्राकृतिक कोलॉइड कौनसा है ?

- Ans 1. रक्त
 2. यूरिया
 3. सोडियम क्लोराइड
 4. इक्षु शर्करा

Q.13 नैसर्गिक (प्राकृतिक) रबड़ किसका बहुलक है ?

- Ans 1. प्रोटीन
 2. आइसोप्रीन
 3. वाइनिल ऐसीटेट
 4. स्टाइरीन

Q.14 पृथ्वी पर सबसे अधिक मात्रा में पाया जाने वाला धातु तत्व है ?

- Ans 1. सोडियम
 2. लोहा
 3. ऐल्युमिनियम
 4. कैल्सियम

Q.15 साबरमती नदी किस शहर के किनारे बहती है ?

- Ans 1. अहमदाबाद
 2. मुम्बई
 3. हैदराबाद
 4. विजयवाड़ा

Q.16 मक्के की खेती की जा सकती है ?

- Ans 1. खरीफ के मौसम में

- 2. वर्ष भर
- 3. जायद के मौसम में
- 4. रबी के मौसम में

Q.17 सबसे प्राचीन वेद कौन-सा है ?

- Ans
- 1. यजुर्वेद
 - 2. अथर्ववेद
 - 3. सामवेद
 - 4. ऋग्वेद

Q.18 निम्न में से कौन-सा एक स्थान सबसे कम वर्षा प्राप्त करता है ?

- Ans
- 1. जोधपुर
 - 2. बाड़मेर
 - 3. बीकानेर
 - 4. लेह

Q.19 किस देश ने आईजीएस रडार 5 (जासूसी उपग्रह) का प्रक्षेपण किया ?

- Ans
- 1. जापान
 - 2. दक्षिण कोरिया
 - 3. उत्तर कोरिया
 - 4. रूस

Q.20 अल्माटी बांध किस नदी पर स्थित है ?

- Ans
- 1. नर्मदा
 - 2. कावेरी
 - 3. कृष्णा
 - 4. गोदावरी

Q.21 जब दो हल्के नाभिक मिलकर भारी नाभिक का निर्माण करते हैं तो इस प्रक्रिया को कहते हैं ?

- Ans
- 1. प्रकाश विद्युत प्रभाव
 - 2. नाभिकीय संलयन
 - 3. नाभिकीय विखण्डन
 - 4. रासायनिक क्रिया

Q.22 भारतीय संसद के कितने अंग हैं ?

- Ans
- 1. 4
 - 2. 2
 - 3. 3
 - 4. 1

Q.23 2017 में सम्पन्न भारतीय राष्ट्रपति के चुनाव में जनसंख्या आंकड़ों का आधार वर्ष क्या है ?

- Ans
- 1. 2001
 - 2. 1981

3. 2011

4. 1971

Q.24 भारतीय संविधान में सम्मिलित संसदीय व्यवस्था किस देश से ग्रहण की गई है ?

Ans 1. आयरलैण्ड

2. कनाडा

3. ब्रिटेन

4. अमेरिका

Q.25 भारतीय संसद के कितने सदन हैं ?

Ans 1. चार

2. दो

3. तीन

4. एक

Section : राजस्थान इतिहास संस्कृति कला और भूगोल

Q.1 राज्य में सबसे अधिक गागरोणी तोते किस अभयारण्य में मिलते हैं ?

Ans 1. रणथम्भौर

2. केवलादेव

3. सरिस्का

4. मुकन्दरा हिल्स

Q.2 पौष मास में आयोजित होने वाला मेला है ?

Ans 1. रणकपुर मेला

2. दधिमति का मेला

3. जीणमाता का मेला

4. नाकोड़ाजी का मेला

Q.3 सत्येन मेत्रेय पुरस्कार किस क्षेत्र से संबंधित है ?

Ans 1. परिवार नियोजन

2. साक्षरता

3. कृषि जागरण

4. चिकित्सा

Q.4 किसके समय हवेनसांग राजस्थान आया ?

Ans 1. राणा सांगा के

2. राजा भारमल के

3. हर्षवर्धन के

4. राणा कुम्भा के

Q.5 तराईन का दूसरा युद्ध लड़ा गया था ?

Ans 1. अकबर और हेमू के मध्य

2. राणा सांगा और बाबर के मध्य

3. हम्मीर और अलाउद्दीन के मध्य

✓ 4. मोहम्मद गौरी और पृथ्वीराज चौहान के मध्य

Q.6 निम्न में से कौनसी नगरीय स्वशासन संस्था राजस्थान में अस्तित्व में नहीं है ?

- Ans
- ✓ 1. महानगर निगम
 - ✗ 2. नगर निगम
 - ✗ 3. नगर परिषद
 - ✗ 4. नगर पालिका

Q.7 बिजोलिया लेख के अनुसार सांभर झील का निर्माण किसने करवाया ?

- Ans
- ✓ 1. वासुदेव
 - ✗ 2. अजयराज
 - ✗ 3. अर्णोराज
 - ✗ 4. कान्हड़देव

Q.8 ज्ञान समुद्र, बावनी, रामची अष्टक नामक कृतियों का संबंध किस संत से है ?

- Ans
- ✗ 1. संत पीपा
 - ✗ 2. संत रज्जब जी
 - ✓ 3. सुन्दरदास
 - ✗ 4. संत धन्ना

Q.9 जयपुर नगर का नक्शा किसके द्वारा बनवाया गया ?

- Ans
- ✓ 1. विद्याधर भट्टाचार्य
 - ✗ 2. सवाई जयसिंह
 - ✗ 3. पंडित गजाधर
 - ✗ 4. मिर्जा इस्माइल

Q.10 कौनसी नदी डूंगरपुर और बांसवाड़ा जिलों के बीच सीमा बनाती हुई बहती है ?

- Ans
- ✗ 1. चम्बल
 - ✗ 2. बनास
 - ✓ 3. माही
 - ✗ 4. साबरमती

Q.11 कटारी भांत से क्या आशय है ?

- Ans
- ✗ 1. गले का आभूषण
 - ✗ 2. एक देशी खेल
 - ✓ 3. एक प्रकार का वस्त्र
 - ✗ 4. एक वाद्य यंत्र

Q.12 खिलाड़ी कचनार चौधरी का सम्बंध किस खेल से है ?

- Ans
- ✗ 1. टेनिस से
 - ✓ 2. भाला फेंक
 - ✗ 3. जुडो से
 - ✗ 4. क्रिकेट से

Q.13 मत्स्य संघ का राजस्थान में कब विलय किया गया ?

Ans

- 1. 15 मई 1949
- 2. 25 मार्च 1948
- 3. 30 मार्च 1949
- 4. 26 जनवरी 1950

Q.14 पृथ्वीराज विजय का लेखक कौन है ?

- Ans
- 1. चन्दबरदाई
 - 2. नयनचंद सुरि
 - 3. पृथ्वीराज चौहान
 - 4. जयानक भट्ट

Q.15 राजस्थान के लोक नृत्यों का सरमौर है ?

- Ans
- 1. अग्नि नृत्य
 - 2. घूमर नृत्य
 - 3. गैर नृत्य
 - 4. बम नृत्य

Q.16 राजस्थान लोक सेवा आयोग के प्रथम अध्यक्ष थे ?

- Ans
- 1. कृष्ण कुमार गोयल
 - 2. एस. के. घोष
 - 3. जगदीप सिंह
 - 4. जसवंत सिंह

Q.17 निम्न में से कौनसा स्थान बीकानेर में नहीं है ?

- Ans
- 1. टपूकड़ा
 - 2. पुंगल
 - 3. कोलायत
 - 4. लुणकरणसर

Q.18 किस राज्य ने हार्ट अटैक से सम्बन्धित चिकित्सकीय कार्यक्रम "राहत" आरंभ किया है ?

- Ans
- 1. गुजरात
 - 2. राजस्थान
 - 3. मध्यप्रदेश
 - 4. तमिलनाडु

Q.19 राजस्थान में पहली बार राष्ट्रपति शासन (अनुच्छेद 356 के तहत) कब लागू किया गया ?

- Ans
- 1. 17 फरवरी, 1980
 - 2. 15 दिसम्बर, 1992
 - 3. 13 मार्च, 1967
 - 4. 30 अप्रैल, 1977

Q.20 राजस्थान में विधुत प्रसारण निगम लिमिटेड की कितनी कम्पनी है ?

- Ans
- 1. 3
 - 2. 1

3. 4

4. 2

Q.21 चित्तौडगढ़ दुर्ग में स्थित कीर्ति स्तम्भ को माना जाता है ?

- Ans 1. हिन्दुओं का स्मारक
 2. प्रशस्तियों का स्मारक
 3. स्तम्भों का स्मारक
 4. आदिनाथ का स्मारक

Q.22 राज्य महाधिवक्ता व राज्य लोकसेवा आयोग के अध्यक्ष व सदस्यों की नियुक्ति कौन करता है ?

- Ans 1. मुख्य न्यायाधीश
 2. मुख्यमंत्री
 3. राज्यपाल
 4. विधानसभा अध्यक्ष

Q.23 खलिहान में अन्न राशि पर चिन्ह लगाने की क्रिया क्या कहलाती है ?

- Ans 1. चरभर
 2. चांक
 3. चमोटी
 4. चल्लौ

Q.24 अजमेर विधुत वितरण निगम लिमिटेड में कितने जिले आते है ?

- Ans 1. 11
 2. 10
 3. 12
 4. 13

Q.25 लिखमादेसर, पूनरासर, मालासर में किस सम्प्रदाय की उप पीठें है ?

- Ans 1. निम्बार्क सम्प्रदाय
 2. जसनाथी सम्प्रदाय
 3. विश्णोई सम्प्रदाय
 4. गौड़ीय सम्प्रदाय

Q.26 मारवाड़ का कौन सा शासक स्वतंत्रता प्रेमी था जिसने मुगलों की अधीनता स्वीकार नहीं की ?

- Ans 1. महाराजा अजीत सिंह
 2. राव उदय सिंह
 3. महाराजा जसवंत सिंह प्रथम
 4. राव चन्द्रसेन

Q.27 सांझी पूजन किसमें लोकप्रिय है ?

- Ans 1. सुहागिन स्त्रियां
 2. गरासियें
 3. कुंवारी कन्याएं

✗ 4. भील

Q.28 अंग्रेजों के शासनकाल में राजस्थान में पॉलिटिकल रेजीडेण्ट्स का मुख्यालय था ?

- Ans
- ✗ 1. नसीराबाद
 - ✗ 2. आबू
 - ✗ 3. कोटा
 - ✓ 4. अजमेर

Q.29 राजस्थान की किस प्रसिद्ध झील पर 'नटनी का चबूतरा' निर्मित है ?

- Ans
- ✓ 1. पिछोला
 - ✗ 2. जयसमंद
 - ✗ 3. सांभर
 - ✗ 4. नक्की झील

Q.30 चूलगिरी जैन मंदिर कहां स्थित है ?

- Ans
- ✗ 1. जोधपुर
 - ✗ 2. धौलपुर
 - ✗ 3. उदयपुर
 - ✓ 4. जयपुर